


## 九年级历史试题

(卷面分评分标准: 以“平、匀、净、齐、美”为标准, 得1-5分)

一、选择题(共20个小题, 20分) 下列每小题列出的四个选项中, 只有一项是最符合题目要求的。请将正确选项的英文字母代号涂写在答题卡相应位置上。

1. 拓片是将刻在不同材质上的文字、符号、图案等拓印下来的纸片, 有很高的历史研究价值。下列古老文字的拓片, 可直接用于古埃及文明研究的是( )



A. 象形文字 B. 楔形文字 C. 甲骨文 D. 阿拉伯文字

2. 伯里克利曾表述: “我们的制度是别人的模范, 因为政体是在全体公民手中, 而不是在少数人手中。”这一政体具体表现在公民大会成员都有参加讨论发言和投票表决权, 上述材料表明古代雅典建立了( )

A. 种姓制度 B. 君主专制 C. 联邦制 D. 民主政体

3. 德国法学家耶林说: “罗马曾经三次征服世界: 第一次以武力, 第二次则以宗教, 第三次则以法律。而这第三次征服也许是其中最为平和、最为持久的一次。”在罗马法学中成为后世罗马法典乃至欧洲法学渊源的法典是( )

A. 《万民法》 B. 《汉谟拉比法典》 C. 《十二铜表法》 D. 《民法典》

4. “主人凡践履协约, 因我委身投附而善待我, 赐我以应得, 则我的一言一行, 一举一动, 必将以他的意志为准则, 绝无违背。”材料说明中古时期欧洲的封君封臣之间是( )

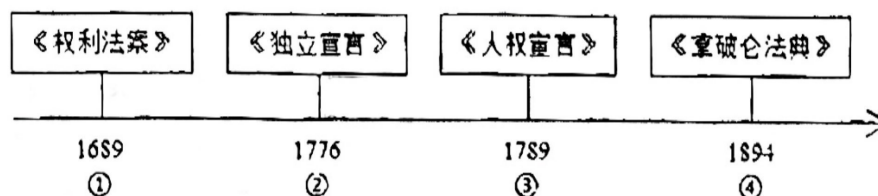
A. 契约关系 B. 对立关系 C. 平等关系 D. 雇佣关系

5. 马克思在《封建经济政治概述》中写道: “(它)是一个经济实体, 有经营农业所需要的各种设施, 如农具、牲畜、作坊和仓库; 领主本人或其管家管理生产, 监督农奴劳动, 它还是一个政治、法律实体, 领主在自己的领地上有自己的司法行政权力。”这一“经济实体”是( )

A. 西欧封建城邦 B. 西欧封建庄园 C. 西欧封建教会 D. 西欧封建城市

6. 中世纪的欧洲除了贵族世袭, 各行业也基本上子承父业, 各阶层之间流动受阻。大学改变了这一状况, 学位使得任何阶层的人都有了社会晋升的希望。这表明, 中世纪欧洲的大学( )

- A. 促进了社会一定程度的公平      B. 培养了大批高素质人才  
C. 推动了教育的不断发展      D. 消除了社会森严的等级观念
7. 10世纪时，西北欧的毛纺业城市和当时较为落后的英国城市，都出现了城市工商业者逐渐集结成市民阶级，最终成长为能与封建势力抗衡的强大政治力量。这反映了中世纪欧洲城市（    ）
- A. 推动农业经济的发展      B. 摆脱束缚享有司法特权  
C. 保障了城市居民利益      D. 孕育资本主义生产关系
8. 日本著名学者上山春平说，今天的日本文化表面上有浓厚的“欧洲色彩”，剥去这一层，下一层是中国文化色彩很强的“农业社会”文化……这层中国文化色彩从制度上主要来源于一次模仿。这次“模仿”指的是（    ）
- A. 幕府统治      B. 倒幕运动      C. 大化改新      D. 明治维新
9. “国王只是摆设，如同冰激凌上的一坨奶油。”对英国这一现象产生关键影响的法律文献是（    ）
- A. 《人权宣言》      B. 《权利法案》      C. 《独立宣言》      D. 1787年宪法
10. 代表们既想建立一个有足够权威的中央政府，又要竭力保护各州已经拥有重要权力；他们既希望联邦政府的权威得到有效的施展，但又要防止不同利益集团对政府权力的垄断……正因为有这些忧虑，这部法律格外注重权力的分割与制约。材料中的“这部法律”是指（    ）
- A. 《人权宣言》      B. 1787年宪法      C. 《权利法案》      D. 《拿破仑法典》
11. 运用时间轴培养时空观是历史学习的基本方法之一，如图的时间轴中，与③对应的历史事件是（    ）



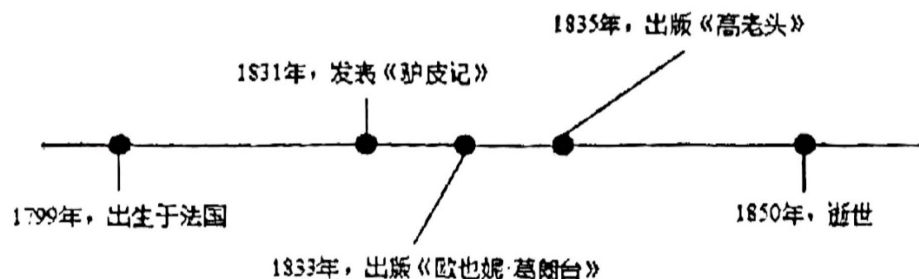
- A. 美国独立战争      B. 英国资产阶级革命      C. 拿破仑帝国      D. 法国大革命
12. 为了纪念瓦特对人类社会做出重要贡献，国际单位制中，功率的单位被定义为“瓦特”。他的主要成就是（    ）
- A. 发电机的问世      B. 蒸汽机的改进      C. 飞梭的发明      D. 珍妮机的发明
13. 章西女王宣言：“我绝不会放弃我的章西，谁敢占领章西，绝对没有好下场！”该史料可用于研究（    ）
- A. 美国南北战争      B. 拉美独立运动      C. 印度民族大起义      D. 非洲民族独立运动
14. 俄国农奴制改革剥夺了贵族支配农民的权力，却没有遇到贵族的强烈抵抗，主要是因为改革给予贵族极大的经济补偿。据此可知，改革的重要目的是（    ）
- A. 赋予农奴人身自由      B. 减轻农奴经济负担  
C. 保护贵族经济利益      D. 促进俄国工业发展



15. 历史学家刘宗绪指出：到 19 世纪五六十年代，由早期资产阶级革命建立起来的资本主义制度，经过 200 多年的发展，已经在世界范围内确立起来。由此分析，这个时期美国、俄国、日本的资产阶级革命或改革（ ）

- A. 促进了资本主义世界体系的形成      B. 使三国走上了资本主义道路  
C. 推动了国际工人运动的蓬勃发展      D. 保留了大量封建农奴制残余

16. 追光文学巨匠，感知近代文化。如图所示的主要生平对应的文学家是（ ）

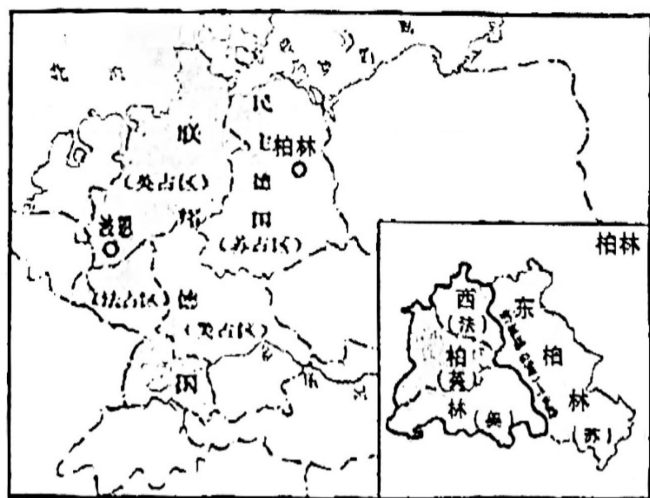


- A. 但丁      B. 莎士比亚      C. 列夫·托尔斯泰      D. 巴尔扎克

17. 下面关于非洲历史的表述中不正确的是（ ）

- A. 荣耀——这里是最古老的人类文明发源地之一  
B. 血泪——在三角贸易中得到快速发展  
C. 高潮——1960 年，17 个国家独立，被称为“非洲年”  
D. 新生——1990 年，纳米比亚独立，标志着所有非洲国家都摆脱了殖民主义的枷锁

18. 下图反映的史实与下列会议中的决议有直接关系的是（ ）




- A. 开罗会议      B. 波茨坦会议  
C. 慕尼黑会议      D. 雅尔塔会议

19. 右边的历史地图（北约和华约）体现了“两大军事集团在欧洲大陆相互怒目而视”的形势。它反映的国际关系格局是（ ）

- A. 同盟国与协约国对峙      B. 凡尔赛—华盛顿体系  
C. 两极格局      D. 多极化趋势



20. 关于下面两张图片反映的历史信息的表述, 不正确的是 ( )



- A. 都推动了世界政治新秩序的建立      B. 都为世界经济的交流与合作提供了平台  
C. 都促进了世界经济的发展      D. 都促进了世界经济全球化

二、非选择题 (共 5 个小题, 30 分)

21. (6 分) 阅读下列材料, 回答问题:

材料一

<p>大抵在初期, 它(文艺复兴)的倾向是偏于复古的; 后来到了盛极将衰的时期, 却又见老树根上, 到处产生新芽儿了。</p> <p>——陈衡哲《西洋史》</p>	<p>正如国王路易十六所说: 是伏尔泰灭亡了法国。当然, 灭亡的不是法国, 只是专制制度。</p> <p>——王斯德主编, 李宏图等著《世界通史》</p>	<p>时代的两颗巨星</p>
---	---	----------------

材料二

<p>1921 年, 苏俄国内经济崩溃, 供应短缺……(列宁)经过调查得出结论: 若战时共产主义政策继续执行, 势必加深经济危机, 导致政治动乱。</p> <p>——据沈志华主编《一个大国的崛起与崩溃: 苏联历史专题研究 (1917—1991)》等</p>	<p>1925 - 1945 年美国失业率</p>
--	---------------------------

- (1) 指出材料一中“新芽儿”的具体含义。伏尔泰是什么运动的代表人物? (2 分)
- (2) 材料一图中所示的“两颗巨星”共同创立了哪一科学理论? (1 分)
- (3) 由材料二及所学知识, 当时苏俄为摆脱困境实施了什么政策? 导致图中 1933 年美国失业率增高的最主要因素是什么? 为此美国采取了什么措施? (3 分)

22. (6 分) 阅读材料, 完成下列要求。

材料一

新旧大陆之间的接触与联系使得新的生物物种相互流传，特别是起源于美洲的玉米、马铃薯、西红柿等，不仅改变了各洲人们的生活方式，而且促进了世界人口的增加。

——摘自《从生态环境视角看新航路开辟后世界的变化》

材料二

工业革命使工业化国家发生了重大变化，人们既感受到从未有过的欢欣，也体验到很多新的痛苦。……汽船在河中冒着呛人的浓烟；岸边工厂排放的污水，也使河水变得污浊不堪。

——摘编自部编版教材《世界历史》（九年级下册）

材料三

全球治理环境问题情况

2000年以来，法国巴黎一个高科技的垃圾焚烧站，焚烧已经过分检的垃圾，用其发电输往国家电网。

2009年，在哥本哈根会议上，来自193个国家的代表更新了《京都议定书》的内容，规定了更严格的温室气体排放限制。

2018年底，中国可再生能源发电装机容量达到7.3亿千瓦，占全部电力装机的38.3%。

——摘编自《人民网》

(1) 根据材料一并结合所学知识，指出“新旧大陆之间的接触与联系”始于哪一历史事件。

这一事件对世界产生了什么影响？（3分）

(2) 根据材料二并结合所学知识，分别指出工业化为人类带来的“欢欣”和“痛苦”。（2分）

(3) 根据材料三并结合所学知识，简单概括出全球治理环境污染的措施。（1分）

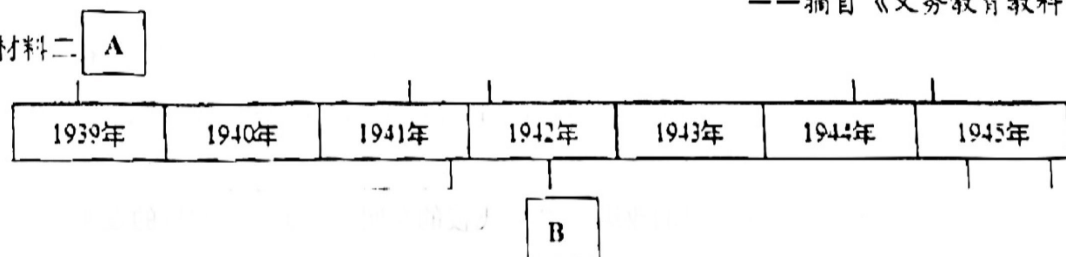
23. （6分）阅读下列材料，回答问题：

材料一

第一次世界大战前，一位德国大臣说：“皇上首要的和基本的思想就是粉碎英国的霸权，以有利于德国。”一位英国外交大臣说：“真正决定我国外交政策的，是海上霸权的问题。”

——摘自《义务教育教科书》

材料二



(1) 根据材料一和所学知识，请你说出“第一次世界大战”爆发的原因。一战后，英法美等资本主义国家先后召开了哪两次会议建立了符合自己利益的世界秩序？（3分）

(2) 这位同学绘制了材料二的时间轴，准备对第二次世界大战的主要史实进行归纳整理。

请你将下面的表述与时间轴中的事件对应。（2分）

A 二战全面爆发的标志\_\_\_\_\_

B 二战的转折点是\_\_\_\_\_

(3) 通过对两次世界大战知识的了解，请你谈谈有何启示？（1分）



24. (6分) 阅读材料, 回答问题。

材料一

义务教育教科书《世界历史》九年级教材目录

《世界历史》上册第七单元	《世界历史》下册第一单元
第20课 工业革命	第1课 殖民地人民的反抗斗争
第21课 马克思主义的诞生 和国际共产主义运动的兴起	第2课 俄国的改革
	第3课 美国内战
	第4课 日本明治维新

材料二 当欧洲人庆贺全球普遍接受了从欧洲发明出来的政治模式时, 他们却开始试图消除民族国家, 消除了这个充满不同国旗、国界、宪法和总统的世界面貌。原因很简单: 民族主义使欧洲变得四分五裂。  
——摘编自(英)安德鲁《世界史》

材料三 深层次来看, 美国实际上醉翁之意不在酒, 是为了利益第一的原则, 垄断其仅有的科技优势, 不容包括中国在内的其他国家快速发展, 而采取各种遏制战略阻止包括中国在内的他国的崛起。美国国际贸易委员会主任纳瓦罗曾直言不讳地指出, 美国对中国征收关税就是针对《中国制造2025》, 美国贸易代表莱特希泽说这才是美国加征关税的真正目的和美国的关切。(注: 《中国制造2025》是国家对中国制造业从低端到高端化提出的一个远景计划)

——刘英《醉翁之意不在酒·中国经济时报》2019年5月20日

- (1) 分析材料一, 归纳概括这一历史时期世界发展的三股进步潮流。(3分)
- (2) 根据材料二和所学知识, 概述二战后欧洲资本主义发展的新特点。(1分)
- (3) 根据材料三并结合所学知识, 指出当前美国单方面挑起中美贸易摩擦的目的。这一行为违背了当今世界经济发展的什么趋势?(2分)

25. (6分) 阅读下列材料, 从中提炼观点, 并结合史实予以说明, 写一篇80-120字的小短文(要求: 题目自拟, 观点明确; 史实正确; 条理清晰, 语句通顺, 表述完整)

材料一 右图



26国代表签署《联合国宣言》

材料二

“当前, 百年变局和世纪疫情交织叠加, 世界进入动荡变革期, 不稳定性不确定性显著上升。...实现普遍安全、促进共同发展依然任重道远。同时, 世界多极化趋势没有根本改变, 经济全球化展现出新的韧性, 维护多边主义、加强沟通协作的呼声更加强烈。”

——习近平《同舟共济克时艰, 命运与共创未来》