

历史与社会·道德与法治

试卷 I

一、选择题(本题有 20 小题,每小题 2 分,共 40 分。各题中只有一个正确答案,请选出最符合题意的正确选项,不选、多选、错选均不给分)

1. 天地风霜尽。国家卫生健康委发布公告,自 2023 年 1 月 8 日起,将新型冠状病毒感染防疫模式调整为“_____”,这意味着我国挺过了疫情防控最艰难的时刻。

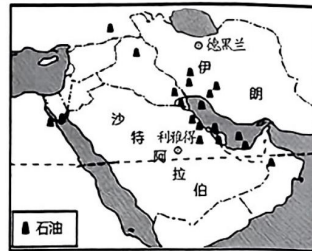
- A. 甲类甲管 B. 甲类乙管 C. 乙类甲管 D. 乙类乙管

2. 新程壮阔多。2023 年以来,我国在外交、经贸、科技等领域捷报频传。3 月 31 日,我国首套高温超导电动悬浮试验系统完成首次运行,时速可达_____公里以上,它将为未来构建快速运输通道提供重要选择。

- A. 400 B. 500 C. 600 D. 700

3. 沙特阿拉伯和伊朗是中东地区重要的国家。根据右图,可知两国相似的自然环境特点有

- ①地处南亚 ②濒临波斯湾
③以白色人种为主 ④石油资源丰富
A. ①② B. ①③
C. ②④ D. ③④



亚洲政区图(局部)

4. 2023 年 3 月 6 日至 10 日,沙特、伊朗两国代表团在_____举行会谈,会后中沙伊三方达成协议并发表联合声明,沙特和伊朗宣布恢复外交关系。此后,中东地区掀起了“和解潮”。

- A. 北京 B. 德黑兰
C. 上海 D. 利雅得

5. 2023 年中国发布了《全球安全倡议概念文件》,促成了沙伊和解;恪守客观公正的立场,斡旋俄乌冲突。这体现我国

- A. 主导了国际政治经济新秩序 B. 应对全球性挑战的责任担当
C. 改变了与他国不结盟的政策 D. 已成为世界经济发展的引擎

文物静默无声,却蕴含千言万语。阅读材料,回答 6—10 题。

6. 一万多年前金华浦江上山的一粒稻米,连同和它一起出土的彩陶共同印证了该地

- A. 正处于旧石器时代 B. 原始农业的兴起与发展
C. 已经进入青铜时代 D. 早期国家的产生与发展

7. 八千多年前杭州跨湖桥的一叶独木扁舟,用它 5.6 米长的残躯告诉我们该地当时最有可能的景象是

- ①沟壑纵横 ②草原连绵 ③水域宽广 ④植被茂盛
A. ①② B. ①③ C. ②④ D. ③④

8. 七千多年前余姚河姆渡的一根榫卯,穿越时光与北京故宫惊艳世界的榫卯结构遥相呼应。这从侧面说明中华文化

- A. 源远流长 B. 浩如烟海
C. 兼容并包 D. 多元一体

9. 一千多年前绍兴古纤道上的块块青石,历经岁月沧桑,见证了

- A. 勾践的卧薪尝胆 B. 秦始皇东巡会稽
C. 隋朝大运河开凿 D. 经济重心的南移

10. 一百多年前嘉兴南湖上的一艘游船,桨声欸乃里记录下中国共产党梦想起航的时刻,见证了中国共产精神之源的诞生。这一精神之源是指

- A. 建党精神 B. 井冈山精神 C. 长征精神 D. 延安精神

11. 1923 年,梁启超在《五十年中国进化概论》一文中说:“拿过去若干个五十年和这个五十年来比,这五十年诚然是进化了……”下列现象中最能体现“这五十年”政治方面进化的是

- A. 握手取代跪拜 B. 白话文取代文言文 C. 总统取代皇帝 D. 新学堂取代旧私塾

12. 历史上不同文明之间在不断地交流,下列国家中最有可能与汉朝相互往来的是

- A. 罗马帝国 B. 法兰克王国 C. 阿拉伯帝国 D. 拜占庭帝国

13. 理论指导实践。巴黎公社的建立、十月革命的胜利、中国新民主主义革命的成功……这些伟大实践都源于某一科学理论的指导。这一理论的创立者是

- A. 牛顿 B. 达尔文 C. 马克思、恩格斯 D. 列宁

14. 右边漫画中小王的结局不言而喻,从他身上我们青少年应汲取的深刻教训是要

- A. 防微杜渐,拒绝交友 B. 学法守法,严格执法
C. 明辨是非,乐于助人 D. 远离毒品,敬畏生命

15. 初中毕业的姜雨荷因找不到满意的工作重返职校。为冲击世界技能大赛,她每天花十四五个小时进行技能训练;为能独立撰写英文实验报告,她吃饭走路都在啃英语。2022 年,她获得世界技能大赛化学实验室技术项目金牌。这启迪我们要

- ①认识自我,发掘潜能 ②坚定意志,直面挫折
③调控情绪,欣赏他人 ④明确目标,不言放弃
A. ①②③ B. ①②④ C. ①③④ D. ②③④

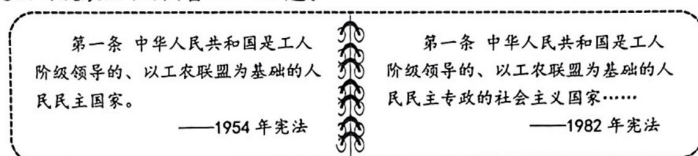


古纤道始建于 815 年



16. 杭州某校学生发现西湖边盲道设施破损、占道现象严重,不利于视力障碍者出行。他们通过社会调查,提出了针对性的建议,得到相关政府部门和市民的高度重视。大家对视力障碍者的态度体现的价值取向是
- ①自由 ②平等 ③公正 ④法治
A. ①③ B. ①④ C. ②③ D. ②④

回顾我国宪法的发展历程,回答17—19题。



17. 上述材料中,1982年宪法的第一条内容表述与1954年宪法有所不同,原因主要是
- A. 土地改革的完成 B. 三大改造的完成 C. 文化大革命的结束 D. 改革开放的实施
18. 分析上述材料,可以看出宪法
- ①是治国安邦的总章程 ②是其他一切法律的总和
③是党和人民意志的集中体现 ④规定的是全局性、根本性的问题
A. ①②③ B. ①②④ C. ①③④ D. ②③④

中央国家机构示意图(部分)



19. 上述示意图说明
- ①全国人大与其他国家机关相互监督 ②全国人大地位最高、权力最大
③宪法可以根据需要随时修改和调整 ④国家监察委员会独立行使监察权
A. ①③ B. ①④ C. ②③ D. ②④
20. 绍兴依托会稽山脉、鉴湖水系、天姥古道等,用唐诗串起了一条“浙东唐诗之路”大走廊;赛车、滑雪、玻璃栈道等,让游客畅享“酷玩”;黄酒咖啡、黄酒冰淇淋、黄酒奶茶等,让古老而现代的气息软软地将游人包裹……这体现了绍兴对
- ①优秀传统文化的创造性转化 ②区域经济发展原则的运用
③缓解社会主要矛盾的有效实践 ④低碳生活理念的大力宣传
A. ①②③ B. ①②④ C. ①③④ D. ②③④

试卷 II

二、综合题(本题有5小题,共60分)

21. (10分)阅读漫画,运用所学知识回答问题。

- (1)漫画往往蕴含着对社会现象的褒与贬。这幅漫画褒贬了什么?(4分)
- (2)要遏制漫画中不良现象的蔓延,你认为外卖小哥最好的做法是什么,并说明理由。(6分)



22. (11分)英雄是民族最闪亮的坐标。某校项目组为学习英雄事迹,弘扬英雄精神,策划推出系列专栏,邀你参与。

前期成果:同学们通过投票选出了一组不同时期的绍兴英雄。



治水英雄 马臻



辛亥英烈 秋瑾



抗疫英雄

任务一:提炼英雄标准。要求:从上述绍兴英雄人物中提炼出两个共同的优秀品质。(2分)

任务二:策划英雄专栏。要求:推介符合下面所给主题及时期的英雄人物一位,并围绕主题说明理由。(6分)

| | |
|-------|-----------------------|
| 英雄专栏 | |
| 主 题: | 时代造就英雄,英雄影响时代 |
| 时 期: | 新民主主义革命时期(1919—1949年) |
| 英 雄: | _____ |
| 推介理由: | _____ |

任务三:跟上英雄脚步。要求:对照英雄事迹,寻找自己的一处不足,并提出改进措施。

(3分)

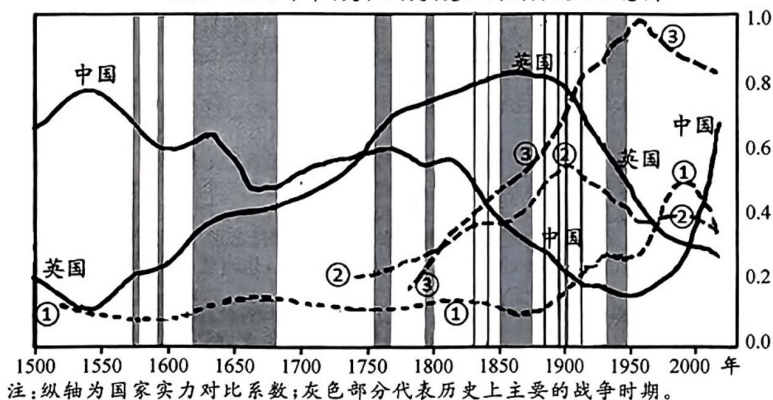
23. (10 分)近年来,浙江经济在高质量发展的路上阔步前行。阅读材料,回答问题。

| | |
|---|--|
| 浙江开展“最美浙江人”“感动浙江人物”“浙江工匠”等系列评选活动,讲好当代浙江故事,弘扬浙江创业精神,激发创业热情,鼓励大众创业。 | 浙江促进学前教育、义务教育发展,支持高校“双一流”建设,推动职业教育与产业深度融合;实施“鲲鹏行动”等重点人才引进和培育计划,为高端制造业添砖加瓦。 |
| 栏目一 | 栏目二 |
| 浙江制定《浙江省民营企业促进条例》,出台多个配套政策,构建公平竞争法治环境;修订《浙江省中小企业发展促进条例》,扶助中小企业,为企业发展保驾护航。 | 浙江统筹地区发展,加大对海岛、山区的帮扶;建立健全大病重病保障机制,有效减轻群众就医负担;建立经济困难等特殊群体数据库,提高保障标准。 |
| 栏目三 | 栏目四 |

- (1)如果把经济比作“蛋糕”,联系栏目一、二、三,分析浙江是如何做大“蛋糕”的。(6 分)
 (2)做大“蛋糕”还需分好“蛋糕”。栏目四中浙江的有益探索,彰显了怎样的发展思想和理念?(4 分)

24. (14 分)阅读材料,回答问题。

1500—2020 年中、美、日、英、德五国国力变迁示意图



(数据来源:瑞·达利欧《秩序将变》)

- (1)在上图①②③所示曲线中,选出代表美国的曲线并简要说明理由。(4 分)
 (2)图中代表中英两国的曲线有两次彼此超越的交汇,请说明英国能赶上中国并持续拉开差距的自身历史原因。(6 分)
 (3)图中五国国力的变迁对人类文明的发展有何启示?(4 分)

25. (15 分)阅读材料,回答问题。



明朝形势图(1433 年)

- (1)长城是一条农牧文化分界线。根据上图,运用所学知识,分析长城以北地区大多不适宜农耕的自然原因。(4 分)
 (2)长城是一条军事防卫线。请列举相关史实两例加以佐证。(4 分)
 (3)长城更是一条_____线。综合资料卡片,运用所学知识完成填空并阐释理由。(7 分,要求:观点正确,史论结合,逻辑清晰)

资料卡片一：

匈奴“乐关市，嗜汉财物”，往往“驱牛马万余头来与汉贾客交易”，刺激了本身畜牧经济的发展。互市交往也使中原地区受益匪浅，“骠驴骆驼，衔尾入塞”。大批畜力投入农耕、交通运输，提高了中原地区社会生产力。

资料卡片二：

明代戚继光说，汉族“边人大都五分类夷，五分有京师气习”。蒙古族亦渐习华风，“喜见车书同”。以至有人“每于佛前忏悔，求再生当居中华”。

(卡片一、二摘编自《中国长城志》陈海燕等编)

资料卡片三：

中华人民共和国国歌

(义勇军进行曲)

1935年作
田汉词
聂耳曲

1=G $\frac{2}{4}$
进行曲速度

(1-3 55 | 6 5 | 3-1 555 | 3 1 | 555 555 | 1) 05 |
起

1-1 | 1-1 5 6 7 | 1 1 | 0 3 1 2 3 | 5 5 | 2-3 1-3 |
来! 不 愿 做 奴 隶 的 人 们! 把 我 们 的 血 肉, 筑 成 我 们

5-3 2 | 2 -[^] | 6 5 | 2 3 | 5 3 0 5 | 3 2 3 1 | 3 0 |
新 的 长 城! 中 华 民 族 到 了 最 危 险 的 时 候。

5 6 1 1 | 3-3 55 | 2 2 2 6 | 2[^] 5 | 1-1 | 3-3 | 5 - |
每 个 人 被 迫 发 出 最 后 的 吼 声, 起 来! 起 来! 起 来!

1-3 5 5 | 6 5 | 3-1 5 5 5 | 3 0 1 0 | 5 1 |
我 们 万 众 一 心, 冒 着 敌 人 的 炮 火, 前 进!

3-1 5 5 5 | 3 0 1 0 | 5 1 | 5 1 | 5 1 | 1 0 |
冒 着 敌 人 的 炮 火, 前 进! 前 进! 前 进! 前 进!

历史与社会·道德与法治试卷参考答案

一、选择题(本题有 20 小题,每小题 2 分,共 40 分)

| | | | | | | | | | | |
|----|----|----|----|----|----|----|----|----|----|----|
| 题号 | 1 | 2 | 3 | 4 | 5 | 6 | 7 | 8 | 9 | 10 |
| 答案 | D | C | C | A | B | B | D | A | D | A |
| 题号 | 11 | 12 | 13 | 14 | 15 | 16 | 17 | 18 | 19 | 20 |
| 答案 | C | A | C | D | B | C | B | C | D | A |

二、综合题(本题有 5 小题,共 60 分)

21. (10 分)

- (1)褒扬了外卖小哥的仗义直言、与人为善。贬斥了商家的见利忘义,违法经营。
(2)做法:向政府有关部门举报 理由:法律是惩恶扬善、伸张正义,维护我们合法权益的刚性规则。同违法犯罪作斗争,是全体公民义不容辞的责任。

22. (11 分)

本题回答具有一定开放性。

任务一:爱国为民、勇担责任。

任务二:要求所选人物符合题意,从时代造就英雄,英雄影响时代两个角度分析。

示例:毛泽东 近代中国处于半殖民地半封建社会,民族矛盾、社会矛盾尖锐。毛泽东为救亡图存、振兴中华投身革命。他领导中国人民建立井冈山革命根据地,开辟中国特色革命道路,取得新民主主义革命的胜利,建立新中国,实现了民族独立,人民解放。

任务三:要求所列不足符合题意,措施与不足匹配。示例:不足:缺乏奉献精神。措施:要以真诚的态度,积极的行动,关爱他人,服务社会,做一个有益社会的人。

23. (10 分)

- (1)传承与弘扬中华民族精神和时代精神,为经济发展提供精神动力;坚持科教兴国战略、人才强国战略,把经济建设转移到依靠科技进步与提高劳动者素质的轨道上来;坚持依法治国,为发展市场经济提供法律保障。
(2)以人民为中心的发展思想;协调、共享的发展理念。

24. (14 分)

- (1)曲线③ 理由:1776 年,《独立宣言》的发表宣告美国独立;第二次世界大战以后,美国成为世界军事、经济实力最强大的国家。(任答一点即可)
(2)新航路开辟后,英国不断进行殖民扩张,积极开展海外贸易,成为“日不落帝国”;资产阶级革命为英国资本主义的发展开辟了道路;英国率先完成工业革命,成为世界上第一个工业化国家。
(3)要和平,反对战争;要与时俱进,顺应历史发展潮流;要兼容并包,文明互鉴。

25. (15 分)

- (1)长城以北地区地形以高原山地为主;降水稀少,水资源短缺(或地处干旱半干旱地区);气温较低。(任答两点即可)
(2)秦朝修筑长城抵御匈奴的侵扰;明朝修筑长城抵御北方蒙古贵族南扰。
(3)本题采用分层评价。

| 分层标准 |
|---|
| 能综合经济交流、文化交流、精神标识等三个角度提炼观点;运用三个及以上的史实,做到史论结合,逻辑清晰 |