

机密★启用前

江西省2023年初中学业水平考试

道德与法治·历史试题卷(合卷)

说明:1.本试题卷分道德与法治和历史两部分,满分160分,考试时间为150分钟。

2.请按试题序号在答题卡相应位置作答,答在试题卷或其它位置无效。

道德与法治部分(共80分)

一、单项选择题(本大题共18小题,每小题2分,共36分)

在每小题列出的四个备选项中只有一项是最符合题目要求的,请将其代码填涂在答题卡相应位置。错选、多选或未选均不得分。

- 2022年10月12日,“天宫课堂”第三课在中国空间站开讲,三位“太空教师”为广大青少年带来一场精彩的太空科普课。这三位“太空教师”是
A. 聂海胜 刘伯明 汤洪波
B. 陈冬 刘洋 蔡旭哲
C. 翟志刚 王亚平 叶光富
D. 费俊龙 邓清明 张陆
- 十三届全国人大常委会第三十六次会议表决通过了一部对推动形成全链条反诈、全行业阻诈、全社会防诈的打防管控格局起重要作用的法律。这部法律是
A. 个人信息保护法
B. 数据安全法
C. 国家安全法
D. 反电信网络诈骗法
- 下列时事体现了“中国奉行互利共赢的开放战略”的是
①2022年6月27日,中央网信办召开全国网络文明建设工作推进会
②2022年7月25日,第二届中国国际消费品博览会在海口开幕
③2022年11月4日,第五届中国国际进口博览会在上海开幕
④2022年12月20日,白鹤滩水电站最后一台机组正式投产发电
A. ①②
B. ①④
C. ②③
D. ③④
- 小林因病双腿无法正常行走。10年来,同学小阳一直充当着小林的“腿脚”,背着他一起长大,成绩优异的小林在学习上也常常帮助小阳,两人成了无话不说的好朋友。他们的事迹让我们明白
A. 友谊是一成不变的
B. 友谊是平等的、双向的
C. 友谊不能没有原则
D. 竞争并不必然伤害友谊
- “大象躺下是很困难的,躺平更是十分要命的一件事情,我的人生辞典里没有躺平这个词。”在十四届全国人大一次会议“代表通道”上,全国人大代表任子威寄语青年朋友“做不躺平的大象”。任子威的寄语启示我们要
A. 换位思考,宽以待人
B. 克服惰性,自强不息
C. 敢于质疑,否定一切
D. 自信自负,特立独行
- 从右图两位同学的对话中,我们体会到
①任何时候都要压抑情绪
②要正确对待老师的批评
③要承认老师之间的差异
④要学会合理地调节情绪
A. ①②
B. ①③
C. ②④
D. ③④



7. 某景区两名男子装扮成孙悟空,拉着游客合影后,再向游客强行收费。游客对此感到气愤,于是报了警。民警经调查取证,认定两人行为违法,对其予以行政拘留处罚。该案例启示我们
- ①法律禁止做的坚决不做 ②要依法维护自身合法权益
③报警是维权的最后屏障 ④犯罪行为会受到刑罚处罚
- A. ①② B. ①④ C. ②③ D. ③④
8. 《江西省未成年人保护条例(新修订)》规定,学校要加强心理健康教育,将心理健康教育纳入教育内容,定期开展未成年学生心理健康测评,按照规定配备心理健康教育教师、建设心理辅导室。该规定的实施有利于
- A. 提高未成年人的法律地位 B. 加强对未成年人的家庭保护
C. 促进未成年人的健康成长 D. 让未成年人享有更多的特权
9. 2023年3月13日,十四届全国人大一次会议表决通过了关于修改立法法的决定。修改后的立法法规定,立法应当符合宪法的规定、原则和精神。这表明
- ①法律是由国家制定或认可的 ②立法法规定国家生活中的根本性问题
③宪法是其他法律的立法基础 ④宪法的修改程序比其他法律更加严格
- A. ①② B. ①③ C. ②④ D. ③④
10. 为及时发现侵害群众利益的“微腐败”行为,江西某县试点打造“码”上监督平台,让民生资金的使用发放等详细情况上网,老百姓一“扫”即可登录、一“点”即可查询、一“键”即可举报。该平台的打造
- A. 拓宽了公民行使监督权的渠道 B. 体现了公民参政议政水平不断提高
C. 表明国家的一切权力属于公民 D. 有利于进一步扩大公民的政治权利
11. 2023年最高人民法院工作报告指出,五年来,人民法院坚持实事求是、有错必纠,依法纠正重大刑事冤错案件26件53人。这表明
- A. 行政机关坚持依法行政 B. 人民法院依法行使检察权
C. 立法机关坚持科学立法 D. 司法维护社会的公平正义
12. 右边的会议通知反映出
- A. 我国公民能够直接参与国家事务的管理
B. 村民议事会是人民当家作主的权力机关
C. 人民代表大会制度是我国的根本政治制度
D. 基层群众自治制度是我国的基本政治制度
13. “有一种安全叫祖国接你回家。”2023年4月29日,343名自苏丹撤离的中国公民平安回到祖国怀抱。脱险的激动、回家的温暖,以及身为中国人的自豪,都浓缩成一句“强大的祖国是我们坚强的后盾”。这让我们感受到
- ①个人命运与国家命运息息相关 ②国家强大是人民利益的重要保障
③国家利益与个人利益完全一致 ④中国为全球治理贡献了中国智慧
- A. ①② B. ①④ C. ②③ D. ③④
14. “中国网事·感动2023”一季度网络感动人物张雪峰——他毕业后,选择从大城市回深山当村医。这一守就是21年,骑坏7辆摩托车,行程80多万公里,年均穿破6双鞋……在足以绕地球20圈的行医路上,他赢得了乡亲们的信任。张雪峰用坚守诠释出的高尚品质是
- A. 扬善抑恶 B. 舍生忘死 C. 敬业奉献 D. 公正廉洁

通 知

各位村民议事会成员:

拟于5月19日9时30分,在村会议室召开2023年第六次议事会,议题如下。

1. 议决修建文化墙。

2. 议决增聘一名卫生管理员。

幸福村村民议事会

2023年5月18日

15. 2023年4月22日,以“展民族文化 筑复兴梦想”为主题的上饶市“三月三”畲族文化系列活动在铅山县太源畲族乡举办。各地游客云集畲乡,感受浓郁独特的畲乡文化,与当地畲民共襄盛举。举办该活动有利于

①消除各民族之间的文化差异
③促进各民族之间的文化交流

②保障畲乡人民的所有权益
④铸牢中华民族共同体意识

A. ①②

B. ①③

C. ②④

D. ③④

16. 从右边图表可知,江西

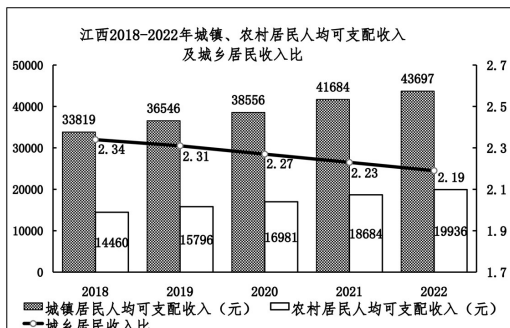
①已经基本实现社会主义现代化
②城乡居民收入比呈下降的趋势
③社会保障体系逐步建立和完善
④城乡居民人均可支配收入稳步增长

A. ①③

B. ①④

C. ②③

D. ②④



17. 2022年,亮点纷呈的文化活动成为加深中俄两国人民友谊的桥梁。中俄青年论坛、汉语桥比赛在俄开展,中俄两国艺术家联袂打造的芭蕾舞剧《小河淌水》在莫斯科再度上演,俄方在中国举办的“俄罗斯文化节”也获得中国民众广泛关注。这表明

①文明因交流而多彩
③文明因互鉴而丰富

②文化隔阂导致冲突
④世界文化和而不同

A. ①②

B. ①③

C. ②④

D. ③④

18. 中国是派遣维和人员最多的联合国安理会常任理事国;中国提出全球安全倡议,为世界指明实现共同安全、普遍安全的正确方向。中国迈向现代化,为世界和平稳定带来更多确定性。材料体现出中国

A. 致力于构建人类命运共同体
C. 为世界经济增长注入新活力

B. 为全球减贫事业作出巨大贡献
D. 是维护世界和平的最重要力量

二、简要回答(本大题共2小题,每小题6分,共12分)

简明扼要,条理清楚。

19. 生活中,面对一些事情,我们要作出选择、智慧处理。

情境一:不同的选择,同样的精彩!周末到了,爸妈与小明商量周六这一天的安排,提出了两种方案:一是一起去社区做义工;二是一起回老家看望爷爷奶奶。

(1)如果你是小明,会选择哪种方案?请运用所学知识说明理由。(3分)

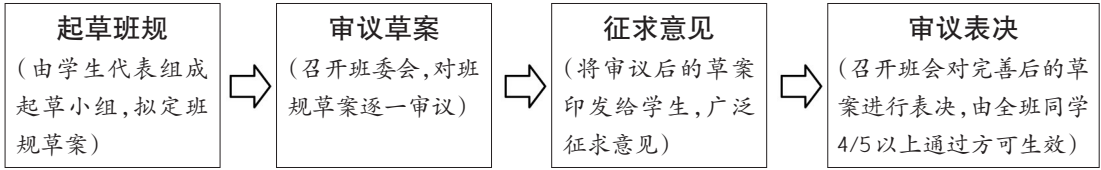
情境二:炎炎夏日,江河无情;预防溺水,警钟长鸣!

(2)观察右边漫画,见此情形,你会如何正确施救?

请运用所学知识说明理由。(3分)



20. 新学期伊始,班主任作出了一项“重大决定”——按照如下程序制订本班班规。



(1)按照程序参与班规制订,同学们可以提升哪些素养?(4分)

(2)假如你是班规起草组成员,请你就“文明礼仪”方面拟写一条班规。(2分)

三、概括与评析(共12分)

21. 结合材料,自拟题目,运用所学知识进行多角度评论。

▲“胸有凌云志,无高不可攀。”有了坚定的理想信念,远行之船才有扬帆之时。为实现“禾下乘凉”梦,袁隆平执着一生;为实现冬奥冠军梦,徐梦桃不懈坚持……梦在前方,路在脚下。我们青少年要向阳而行,做有理想的好少年。

▲“少而好学,如日出之阳。”“感动中国人物”江梦南,半岁时意外失聪,后来通过读唇语学会了“听”和“说”。她刻苦学习,凭借优秀的学习成绩,成为清华大学的博士生。我们青少年也要潜心学习,向下扎根,做有本领的好少年。

▲“人生在勤,勤则不匮。”幸福不会从天降,美好生活靠劳动创造。种地、拉煤、打坝、挑粪……在梁家河插队时,不满16岁的习近平自觉接受磨炼,后来成长为种地的好把式。我们青少年也要通过劳动锻炼自己,向上生长,做能吃苦的好少年。

(1)拟题:运用所学知识,自拟一个体现材料主要内容的题目。(3分)

题目:_____

(2)评论:从不同的角度对上述材料进行分析评论。(每一角度3分,共9分)

四、探究与实践(本大题共2小题,共20分)

紧扣题意,综合运用所学知识进行探究与实践。

22. (8分)习近平总书记在党的二十大报告中指出,高质量发展是全面建设社会主义现代化国家的首要任务。为加深对高质量发展的认识,某班学习小组走进一民营企业,开展了体验式学习。

【析企业脱困之因】参观时,企业负责人告诉我们:政府始终把民营企业和民营企业家当作自己人,在企业困难时期,切实履行好服务职能。政府精简办事程序,让信息多跑路,企业少跑腿;减税降费、减轻企业负担。在政府支持下,企业重振信心,逐渐恢复了发展活力。

(1)结合所学知识,分析企业恢复发展活力的原因。(4分)

【寻企业发展之策】在企业宣传栏,我们看到一则公告(见右图)。学习小组长提议大家学以致用,也尝试为企业发展提出建议。

(2)请你提出两条合理建议。(4分)

公告

各位员工:

为实现企业在新发展理念引领下的高质量发展,现向广大员工征集建议。希望大家建真言、献良策。

XXX(企业名称)

2023年5月22日

23.(12分)江西风景独好,红色是最美的风景。我们要把红色传统发扬好、红色资源利用好、红色基因传承好。

【发扬红色传统】不同时期的“苏区干部好作风”山歌小调,传颂着共产党人的为民大爱。

新民主主义革命时期	中国特色社会主义新时代
苏区干部好作风,自带干粮去办公; 日着草鞋干革命,夜打灯笼访贫农。	帮扶干部来厓(我)村,乐见干部好作风; 急难愁盼他来帮,暖到厓(我)们心坎上。

(1)两首山歌小调传颂着中国共产党人怎样的为民大爱?(4分)

【用好红色资源】近年来,江西立足红色资源优势,采取措施擦亮红色名片。

- ◆制定出台全国首部以革命文物为立法对象的省级地方性法规《江西省革命文物保护条例》,让一大批革命文物得到有效保护和合理利用。
- ◆将数字化手段应用到红色文化的传播展示中,让参观者仿佛穿越时空,置身于真实的历史场景之中。

(2)请你运用所学知识,谈谈上述措施对发展红色文化的启示。(4分)

【传承红色基因】“一次井冈行,一生井冈情。”学校开展了井冈山红色研学活动,小江同学在日记里写下了内心的感触。

10月28日 星期五 晴

在井冈山革命博物馆,讲解员介绍:当年,红军每人每天只有5分钱的伙食费,有时连红米饭、南瓜汤都吃不上,只能靠野菜充饥;在寒冷的冬天,脚上穿的是自己打的草鞋……但艰苦的生活没有摧垮红军的革命意志!

听了讲解员的介绍,我感触良多:

(3)假如你是小江,请把日记续写完整。(4分)

要求:紧扣题意,价值观正确,表达流畅,不少于60字。

历史部分(共80分)

一、单项选择题(本大题共20小题,每小题2分,共40分)

在每小题列出的四个备选项中只有一项是最符合题目要求的,请将其代码填涂在答题卡相应位置。错选、多选或未选均不得分。

1. 给图1拟定标题,合适的是

- A.北京人狩猎场景想象图
- B.山顶洞人采集场景想象图
- C.河姆渡人生活场景想象图
- D.半坡人农耕场景想象图




图1

2. 春秋战国时期,铜铸币广泛通行。这反映了当时

- A.周王室衰微
- B.井田制废除
- C.商业活动较为活跃
- D.资本主义萌芽产生

3. 汉武帝采取的这项措施,充实了财政,支援了经略四方,为巩固祖国边疆奠定了经济基础。

材料中的“这项措施”是

- A.“推恩令”
- B.兴办太学
- C.盐铁专卖
- D.北击匈奴

4. 下列史实与图示中①相对应的是



- A.确立分封制
- B.创立中央集权制度
- C.张骞通西域
- D.蔡伦改进造纸工艺

5. 唐朝时期,拔河在宫廷和民间都大受追捧,一些妇女也喜好,参与人数规模空前,竞争气氛极其浓烈。这体现出唐朝

- A.开放的社会风气
- B.开明的民族政策
- C.多彩的文学艺术
- D.频繁的中外交流

6. 日本学者数内清指出:“在一部书中讨论了中国技术的几乎所有部门,没有任何其他著作可与其相比。不但它在中国是唯一无二的,就是在17世纪以前也没有任何可与之相比的欧洲著作。”材料评述的是

- A.《齐民要术》
- B.《本草纲目》
- C.《天工开物》
- D.《农政全书》

7. 图2空白方框处应填

- A.宋元时期的文学艺术
- B.宋元时期的都市生活
- C.清朝的文学艺术
- D.清朝的科学技术

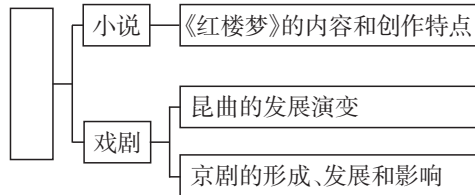


图2

8. 五口通商之役开始打破清朝和外国人交涉时以“天朝上国”自居的迷梦。材料中的“五口通商之役”是指

- A.鸦片战争
- B.第二次鸦片战争
- C.甲午中日战争
- D.八国联军侵华战争

9. 如果一个民族面对着深重的危机,却看不到前途和希望,只是沉浸在一片悲愤和沮丧绝望的情绪中,或者只是不顾一切地起来蛮干,那谈不上民族的新觉醒,这就需要有新的社会力量站在民族解放运动的前头。材料中的“新的社会力量”领导了
- A.太平天国运动 B.洋务运动 C.义和团运动 D.辛亥革命
10. 毛泽东在《井冈山的斗争》中指出:“不但小块红色区域的长期存在没有疑义,而且这些红色区域将继续发展,日渐接近于全国政权的取得。”这些“红色区域”是指
- A.农村革命根据地 B.国统区
C.敌后抗日根据地 D.解放区
11. 事变爆发后第二天,中共中央发出通电,指出平津与华北被日本侵略的危险已极端严重,要放弃与日寇和平苟安的希望与估计,全民族联合抗战才是我们的出路。该“事变”是
- A.九一八事变 B.七七事变 C.八一三事变 D.皖南事变
12. 1947年6月,刘邓大军强渡黄河,转战鲁西南,一个多月后,大军分三路进军直插敌人战略纵深。这一军事行动
- A.粉碎了国民党军队的全面进攻
B.粉碎了国民党军队的重点进攻
C.揭开了人民解放军战略进攻的序幕
D.解放了长江中下游以北的广大地区
13. 图3是小明同学制作的知识卡片,横线处应填
- A.“三大改造”基本完成
B.“一五”计划超额完成
C.上海浦东开发区建立
D.提出建立社会主义市场经济体制
14. 分析表1,对此解读合理的是

改革开放

1978年 中共十一届三中全会召开

1980年 深圳、珠海、汕头和厦门经济特区建立

1983年 全国普遍实行家庭联产承包责任制

1984年 以城市为重点的经济体制改革全面展开


1992年 _____

图3


表1 国家扶持人口较少民族资金统计表(部分)

年份	2005年	2006年	2007年	2008年
扶持资金(亿元)	1.12	6.42	6.73	10.26


- A.国家尊重各民族的风俗习惯 B.国家促进各民族共同繁荣发展
C.民族地区推行社会主义改造 D.少数民族聚居区设立自治机关
15. 图4反映的主题是



竞技场遗址外景



《十二铜表法》颁布时的情景(想象图)



刻在大理石上的“儒略历”片断

图4

- A.古巴比伦文明 B.古印度文明 C.古希腊文明 D.古罗马文明

16. 11世纪,西欧封建主之间普遍结成封君封臣关系,在这种关系下
 A.封君没有保护封臣的义务 B.封君封臣具有一定的契约关系
 C.封臣要直接承担国家赋税 D.封君与封臣以血缘关系为纽带
17. 他始终认为自己到达的就是东方,还把当地人称为“印第安人”。后来人们发现他去的地方不是东方,而是比西方更远的西方。材料中的“他”是
 A.迪亚士 B.哥伦布 C.达·伽马 D.麦哲伦
18. 下列选项中,对应正确的是
 A.牛顿——《自然哲学的数学原理》——近代自然科学的奠基人之一
 B.达尔文——《物种起源》——推动物理学发展到一个新的高度
 C.贝多芬——《蒙娜丽莎》——德国天才作曲家
 D.巴尔扎克——《高老头》——文艺复兴的先驱
19. 1921年春,苏俄出现波及30多个省的严重饥荒,农民对苏维埃政权产生强烈抵触情绪,引发叛乱。为解决危机,苏俄调整农业政策,具体措施是
 A.实行余粮征集制 B.征收粮食税
 C.实行农业集体化 D.限制农产品产量
20. 1945年,德国投降后,苏、美、英、法按照事先规定实施了占领行动。德国东部由苏联占领,西北区由英国占领,西南区由美国占领,西区由法国占领。下列会议与“事先规定”有关的是
 A.巴黎和会 B.华盛顿会议 C.开罗会议 D.雅尔塔会议

二、综合题(本大题共4小题,共40分)

21. (10分)船的诞生推动着海洋成为人类活动的重要舞台。阅读材料,回答问题。

材料



图5“南海一号”船舱

“南海一号”是宋代的木质古沉船,是迄今为止中国考古发现的船体最大、保存最完整的远洋商船,船载瓷器等大量文物。




图6 郑和宝船(模型)

最大的郑和宝船长约136米,宽约56米,排水量超过8000吨。



图7“耆英号”(版画)

“耆英号”是19世纪40年代中国最大的木帆船,长近50米,宽约10米,满载排水量达800吨。




图8 定远号铁甲舰

“定远号”是清政府委托德国建造的7000吨级铁甲舰,1885年加入北洋舰队成为旗舰。



图9 山东舰

山东舰是中国第一艘完全自主设计、自主建造、自主配套的国产航空母舰,2019年12月17日正式加入中国人民海军战斗序列。

- (1)史料有实物史料、文献史料、图像史料和口述史料等类型。据此,指出“南海一号”的史料类型。这一史料可用于研究宋朝历史的什么内容?(3分)
- (2)根据材料,指出图6所示郑和宝船与图7所示“耆英号”的不同之处。结合所学知识,分析导致两者不同的政策因素。(4分)
- (3)以“中国近现代海防”为主题进行研究,你会选择材料中哪艘舰船?请说明理由。(3分)

22. (8分)年表折射了人们对历史的理解和认识。阅读材料,回答问题。

材料

表2 大事年表

时间	事件
1918年	第一次世界大战结束
1920年	甘地发动第一次非暴力不合作运动
1934年	卡德纳斯当选墨西哥总统并进行改革
1945年	第二次世界大战结束
1949年	中华人民共和国成立
1955年	万隆会议召开
1960年	非洲有17个国家获得独立,这一年被称为“非洲年”
1990年	纳米比亚独立
1999年	巴拿马收回了运河区的全部主权

- (1)从表2中找出标志着发展中国家作为一支新兴独立的政治力量登上国际舞台的事件。(2分)
- (2)选择材料中至少两个相互关联的事件,结合所学知识自定一个你想论述的观点,加以阐述或说明。(要求:观点正确,史论结合,条理清楚)(6分)

23. (10分)轮子的历史构成人类进步和发展的历史。阅读材料,回答问题。

材料一 就人类文明而言,轮子的发明是革命性的,轮子的出现使车的出现和更多道路的出现成为可能。中国是世界上较早进入轮子时代的国家,秦汉时期,事实上在整个世界范围内都属于一个“轮子时代”。

——摘编自杜君立《历史的细节》(卷一)

- (1)根据材料一并结合所学知识,写出秦朝为了使“轮子”更有效运行而推行的措施。(2分)

材料二 1825年9月27日,英国发明家斯蒂芬森驾驶自己设计制造的“旅行号”蒸汽机车,装载着90吨货物和450名乘客,以时速20公里的速度,驶进了一个全新的轮子时代。

——摘编自杜君立《历史的细节》(卷一)

- (2)根据材料二并结合所学知识,分析英国驶进“全新的轮子时代”带来的影响。(4分)

材料三 1937年,我国共有铁路约2.18万千米,到1949年,全国铁路又增至2.44万余千米。截至2015年年底,全国铁路营业总里程达12.1万千米,规模居世界第二,其中高速铁路1.9万千米,位居世界第一。今天的中国人正成为轮子上的新人类。

——摘编自义务教育教科书教师参考用书《中国历史》(八年级下册)等

- (3)综合上述材料并结合所学知识,就“轮子时代”的变迁谈谈你的感想。(4分)

24. (12分)劳动是一切幸福的源泉。阅读材料,回答问题。

【劳动传承智慧】

材料一 长城并不是完全封闭的,明代官方史料有“夫祖制,边墙下多留暗门”的明确记载。政府允许游牧部落通过暗门往返于青海和河套地区放牧,一些较大的可容两匹马双向对过的暗门证明了这一点。此外,部分暗门还用于通商往来。



图10 黄崖关长城的一处暗门

——摘编自人民日报官方公众号等

(1)根据材料一并结合所学知识,简述长城所起的历史作用。(2分)

【劳动凝聚力量】

材料二 聂耳创作的《毕业歌》《义勇军进行曲》等名曲,是20世纪30年代中国最具代表性的音乐作品。他在音乐创作中,既吸取了外国音乐的因素,又充分运用中国民间劳动歌曲、山歌小调等形式、结构。他既向已有的音乐文化学习,又直接向生活汲取。如到码头、工厂观察了解群众的生活,亲身体验他们沉重的生活节奏,倾听他们痛苦的呻吟、愤怒的呐喊和不平的申诉。

——摘编自《中国音乐通史简编》

(2)根据材料二,分析聂耳音乐创作取得成就的原因。(4分)

【劳动创造伟业】

材料三



——摘编自义务教育教科书《中国历史》(八年级下册)等

(3)从材料三中任选一项史实,结合所学知识谈谈其对中国社会发展的意义。(2分)

【劳动成就梦想】

材料四 社会主义是干出来的,新时代是奋斗出来的,人民的幸福生活是靠一点一滴创造得来的;只要踏实劳动、勤勉劳动,在平凡岗位上也能干出不平凡的业绩。前进道路上,无论时代条件如何变化,我们始终都要崇尚劳动、尊重劳动者,都要发扬光大劳动精神。

——摘自人民网

(4)请结合中国现代史一位历史人物的事迹,说明“只要踏实劳动、勤勉劳动,在平凡岗位上也能干出不平凡的业绩”。(4分)