

历史与社会·道德与法治

卷 I

说明:本卷有 20 小题,每小题 2 分,共 40 分。

1. 人民至上,生命至上。2022 年 12 月 26 日,国家卫生健康委员会发布公告,将新型冠状病毒肺炎更名为新型冠状病毒感染,自 2023 年 1 月 8 日起,对其实施

A. 甲类甲管 B. 甲类乙管
C. 乙类甲管 D. 乙类乙管

2. 劝和促谈,大国担当。2023 年 3 月 10 日,中沙伊三方达成协议并发表联合声明:沙特和伊朗宣布恢复外交关系。沙伊复交后,▲掀起了“和解潮”。

A. 欧洲地区 B. 中东地区
C. 拉美地区 D. 非洲地区

3. 随着第一批国家公园的正式设立(右图),翻开了我国有代表性的大面积自然生态系统保护新篇章。这些国家公园

A. 其中地势最高的是三江源国家公园
B. 各自所跨的省级行政区的数量相同
C. 自然景观差异明显都因为纬度不同
D. 设立的根本目的都是为了开发资源



第 3 题图

- 从“一条线”到“一张网”。截至 2023 年 1 月 6 日,中国已经同 151 个国家和 32 个国际组织签署 200 余份共建“一带一路”合作文件。回答 4~6 题。

4. 从一国到多国,丝路情牵六大洲。以下国家与其特色对应一致的是

A. 南非——红松之乡 B. 意大利——稻作文化
C. 秘鲁——垂直生计 D. 柬埔寨——草原人家

5. 从汉唐到明清,丝路沉浮几春秋。张骞通西域后,西汉王朝加强了对西域的经营,设置

A. 西域都护 B. 安西都护府 C. 北庭都元帅府 D. 伊犁将军

6. 从黄河到地中海,丝路共建尚和合。在实现中华民族伟大复兴的征途上,我们可借鉴

①以色列在干旱地区发展农业经验 ②阿拉伯帝国吸收、消化外来文化融合发展
③亚历山大帝国东征不断扩大版图 ④拜占庭帝国编纂《罗马民法大全》治理国家

A. ①②③ B. ①②④ C. ①③④ D. ②③④

7. 民国八年六月,《新闻报》载,“此次沪上风潮始由学生罢课,继由商人罢市,近日将有劳动工人同盟罢工。”文中史事

A. 支持了北伐的胜利进军 B. 为中国民族资本主义的产生创造了条件
C. 结束了国民党反动统治 D. 为新的革命力量登上历史舞台创造了条件

8. 1936 年 11 月 18 日,《西北真报》社刊印“紧急号外”,登载了“欢迎红军第四方面军到达陕西来”的新闻。这一新闻折射出

A. 遵义会议挽救中国革命 B. 红军长征完成战略转移
C. 西安事变得到和平解决 D. 红军主力改编为八路军

9. 右侧“中国大事记(节选)”记录了

A. 中国特色革命道路的形成
B. 社会主义制度建立的过程
C. 民族团结与祖国统一的成果
D. 中国特色社会主义道路的探索

中国大事记(节选)

1978 年,中共十一届三中全会在北京召开
1992 年,提出建立社会主义市场经济体制
2001 年,中国正式成为世界贸易组织成员

10. 在社会主义经济建设的火热年代,涌现出了大批英雄模范人物。如果为“铁人”王进喜、党的好干部焦裕禄、解放军好战士雷锋做人物名片,你认为最適切的一组推介词是

①艰苦创业 ②以身作则 ③助人为乐 ④张扬个性
A. ①②③ B. ①②④
C. ①③④ D. ②③④

11. 换个角度看问题,是一种人生智慧。右侧漫画给我们的启迪是

A. 赠人玫瑰,手留余香 B. 调节情绪,乐观人生
C. 种瓜得瓜,种豆得豆 D. 成就集体,精彩个人

12. 有人认为,现代社会中的一切事情都可以通过法律来解决。

对此,你的观点是
A. 赞成,生活离不开法律的规范和保障
B. 赞成,我们强调依法治国、法律至上
C. 不赞成,国家和社会治理需要法律和道德共同发挥作用
D. 不赞成,只要不违法犯罪,法律就离自己的生活很遥远

13. 在道德与法治课堂上,开展了“如何筑牢反电信网络诈骗防火墙”的议题式教学。对于分议题“如何辨识电信网络诈骗”所提供的几种情况,我们需要高度警惕的有

①社区干部上门进行人口普查 ②通知“中奖”却要求你先缴纳税款
③父母以微信方式转账生活费 ④电话索要个人信息及短信验证码
A. ①② B. ①③ C. ②④ D. ③④



第 11 题图

14. 吸食“笑气”对人体造成的危害不亚于传统毒品。

右侧漫画警示青少年应

- A. 行己有耻, 拒绝不良诱惑
- B. 守护自由, 尊重他人权利
- C. 打破常规, 尝试新生事物
- D. 科学立法, 维护宪法权威



“安乐死” 新华社发 朱建群 作
第 14 题图

15. 淄博烧烤“火出圈”后, 当地政府设立“烧烤行业一件事”服务专窗, 承诺“一件事一次办”。这与我省“最多跑一次”改革的共同追求是

- ①贯彻以人民为中心的发展思想
 - ②调动群众积极参与民主决策
 - ③提升政府公信力促进社会和谐
 - ④建设人民满意的服务型政府
- A. ①②③ B. ①②④ C. ①③④ D. ②③④

16. 澳门特别行政区立法会于 2023 年 5 月 18 日全票表决通过修改《维护国家安全法》法案, 得到社会各界高度关注, 纷纷表示完全拥护和坚决支持。这体现

- ①澳门特别行政区已拥有最高立法权
 - ②每个公民有维护民族团结的义务
 - ③澳门特别行政区依法施政维护安全
 - ④“一国两制”的成功实践行稳致远
- A. ①② B. ①④ C. ②③ D. ③④

17. 民营经济是浙江发展的“金名片”, 我省先后出台 30 多项措施助其发展。2022 年民营经济增加值占全省 GDP 的 67%, 入围中国民营企业 500 强的数量连续 24 年居全国首位。这表明

- A. 民营经济是国民经济的主导力量
- B. 民营经济的生产资料属于全体人民共同所有
- C. 市场在资源配置中起决定性作用
- D. 政府鼓励、支持、引导非公有制经济的发展

浙江之心, 水墨金华; 不忘初心, 遇见美好。某校组织学生开展研学

活动。回答 18~20 题。

18. 【赴茶香之约】第一组同学由市区出发到磐安玉山古茶场(如图)。下列研学笔记上的描述, 与事实相符的是

- ①古茶场位于金华的东南部
 - ②乘轻轨转公交车绿色出行
 - ③山丘上种茶合理利用土地
 - ④用大型现代机械采茶制茶
- A. ①② B. ①④ C. ②③ D. ③④



第 18 题图

19. 【探浙学之源】第二组同学到永康五峰书院, 了解吕祖谦(1137—1181, 进士)、陈亮(1143—1194, 状元)等历史文化名人的事迹。下列与吕祖谦、陈亮同时期的著名词人是

- A. 吴道子 B. 辛弃疾 C. 李时珍 D. 曹雪芹

20. 【享民生之福】第三组同学采访了政府有关部门, 工作人员向他们介绍了金华正在实施的民生实事。同学们倍感振奋, 纷纷点赞留言。以下属于民生实事且评论恰当的是

- ①发放各类消费券, 提升民众幸福感
 - ②“课后服务”暖人心, 教育强市育英才
 - ③共享学校运动场, 全民健身迎亚运
 - ④“百团千企”强外贸, 八婺文化谱新篇
- A. ①②③ B. ①②④ C. ①③④ D. ②③④

卷 II

说明: 本卷有 5 小题, 共 60 分。

21. (12 分) 串串葡萄, 谱写共富之曲。阅读材料, 回答问题。

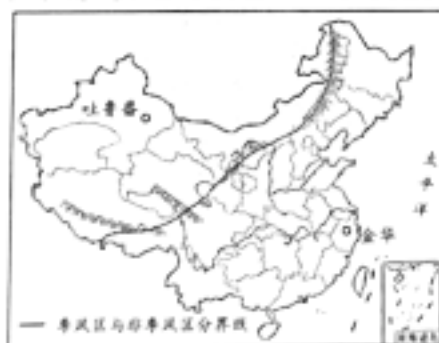


图 1 吐鲁番、金华位置示意图

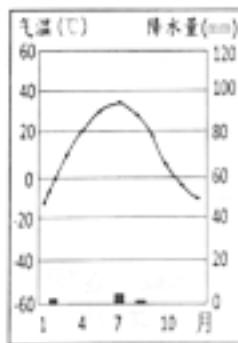


图 2 吐鲁番气候资料图

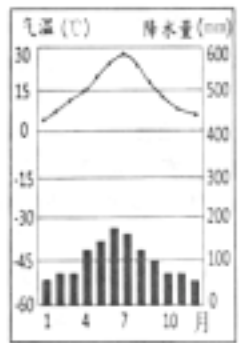


图 3 金华气候资料图

资料卡

葡萄习性
葡萄喜温暖、干燥及通风良好的环境, 喜好充足的阳光, 有一定的耐寒耐旱性, 对土质要求不高。

链接: 吐鲁番处处可见四面通风的传统晾房, 所产葡萄干畅销海内外。一曲《吐鲁番的葡萄熟了》让人想起作曲家施光南家乡金华的葡萄。金华丘陵起伏, 盆地平展, 河流蜿蜒, 标准化、智能化种植葡萄渐成规模, “浦江葡萄”获农业部农产品地理标志登记保护。

(1) 观察图 1、2、3, 简析吐鲁番与金华海陆位置的差异对两地降水的影响。(4 分)

(2) 两地葡萄各具特色。有同学不由产生如下疑惑, 请任选其一, 结合图文材料答疑解惑。(4 分)

疑惑一: 香甜的吐鲁番葡萄为什么能够被自然风干成美味的葡萄干?

疑惑二: 两地的地理环境差异显著, 金华能出产优质葡萄的自然条件有哪些?

(3) 综合上述材料, 谈谈勤劳智慧的金华人民该怎样让葡萄产业进一步助力乡村振兴。(4 分)

22. (12 分) 巍巍长城, 筑起民族脊梁。历史与社会课开展“文旅融合·长城”跨学科主题项目化学习, 围绕驱动性任务“制作长城旅游宣传册”, 各小组分工协作, 请你参与完成。

任务一【梳理长城修建史】



(1) 请用序号将上面三幅图所指的朝代,按时间先后进行排序。(2分)

②①③

任务二【讲好长城故事】

素材一

相传秦朝时,范喜良和孟姜女新婚三天就被征修长城,不久因饥寒劳累而死,尸骨被埋长城脚下。孟姜女得知噩耗,在长城上哭了三天三夜,长城就此坍塌……

——听奶奶讲故事

民间 二:文献

素材二

长城处于北方游牧地区与农耕地区的连接线上……唐朝末年,北方汉人纷纷避乱,北出长城,带去了中原先进的生产技术和生活方式……北宋与辽、西夏对峙,但相互之间的商业往来一直进行。

——选自人教社《中国历史》

(2) 指出以上素材的获取方式,并分析说明两则素材哪则更可信。(4分)

任务三【撰写长城旅游宣传册卷首语】



八路军“狼牙山五壮士”、新四军“刘老庄连”、东北抗联八位女战士、国民党军“八百壮士”等众多英雄群体,就是千千万万抗日将士的杰出代表。中国人民以铮铮铁骨战强敌、以血肉之躯筑长城、以前赴后继赴国难,谱写了惊天地、泣鬼神的雄壮史诗。

——摘自习近平《论中国共产党历史》

(3) 综合运用三项任务的图文资料,自拟主题,为长城旅游宣传册写一段卷首语。(6分)

(温馨提示:分层赋分,紧扣主题,逻辑严密,史论结合)

23. (12分) 份份关爱,守护成长之路。道德与法治课开展模拟政协活动,请你参与完成提案中【探究分析】任务。

关于进一步加强未成年人安全保护工作的提案(部分)

【提案人】某初中模拟政协小组

【提案背景】未成年人保护工作尚有改进的空间

【调研情况】部分调研信息摘录

信息一:行的平安

从有关部门获悉,有家长未戴头盔骑电动自行车接送孩子……

信息二:食的健康

有同学挑剔学校饭菜,到校外无证摊贩处购买“三无”食品……

信息三:爱的碰撞

家访了解到,有的家庭亲子双方在有些问题上存在不一致时,容易出现一些不和谐的现象……

【探究分析】

(1) 结合法律链接评析信息一中“未戴头盔”的行为。(4分)

(2) 针对信息二中的现象,各方可为“食的健康”作出哪些努力?(任选两个角度,4分)

(3) 分析信息三中“不和谐”的原因,并运用经验说说你是如何与父母和谐相处的。(4分)

【建议对策】

……

请有关部门进一步加强未成年人安全保护工作,明确社会、学校、家庭等各方责任,为未成年人健康成长保驾护航。

法律链接

《浙江省电动自行车管理条例》第十七条规定,驾驶人或者搭载人未佩戴安全头盔……由公安机关交通管理部门处以警告或者二十元以上五十元以下罚款。

24. (12分) 座座建筑, 承载文明进步。阅读材料, 回答问题。



注: 为纪念法国大革命胜利 100 周年而建, 铁塔在灯光照耀下, 璀璨光彩。

图1 埃菲尔铁塔



注: 为纪念林肯而建, 雕像上铭刻着“林肯将永垂不朽, 永存人民心里”。

图2 林肯纪念堂



注: 2023 年年会主题为“不确定的世界: 团结合作迎挑战, 开放包容促发展”。

图3 博鳌亚洲论坛永久会址

(1) 解码埃菲尔铁塔所承载的历史信息。(4分)

(2) 为什么要纪念林肯? 谈谈你的认识。(4分)

(3) 图1、图2所指向的资产阶级革命分别处于资本主义发展的哪个阶段? 结合图3概括我们是如何为命运彼此相依的世界提供中国智慧与中国方案的。(4分)

25. (12分) 小小少年, 逐梦青春未来。阅读材料, 回答问题。

找寻身边的感动	探寻发展的力量	追寻榜样的足迹
在 14 亿多中国人逐梦中国式现代化的道路上, 我们身边有这么一群人, 在各自岗位上默默奉献: 全国“最美公交司机”胡雪根、“浙江好人”环卫工人刘汉青、“人民英雄”陈薇、量子科学家潘建伟……	五、进一步发挥浙江的生态优势, 创建生态省, 打造“绿色浙江”。 …… 八、进一步发挥浙江的人文优势, 积极推进科教兴省、人才强省, 加快建设文化大省。 ——选自“八八战略”	徐枫灿, 1999 年出生于金华, 从小自律、刻苦, 以满分通过考核, 成为陆军首位初放单飞的女飞行员, 飞上了大国重器直—20, 现为全国人大代表、南部战区陆军飞行员, 以青春之力守护家国安宁。
卡片 1	卡片 2	卡片 3

(1) 卡片 1 中, 他们的劳动, 哪个更有价值? 请简述理由。(4分)

(2) 依据卡片 2, 解密推动浙江发展的力量。(4分)

(3) 畅想未来, 从这出发。汲取三张卡片精髓, 为自己做一份人生规划。(4分)

(温馨提示: 规划有目标、有途径, 切实可行并体现正确价值观, 不超过 100 字)

历史与社会·道德与法治试卷参考答案

卷 I

本卷有 20 小题,每小题 2 分,共 40 分。

- | | | | | | | | | | |
|-------|-------|-------|-------|-------|-------|-------|-------|-------|-------|
| 1. D | 2. B | 3. A | 4. C | 5. A | 6. B | 7. D | 8. B | 9. D | 10. A |
| 11. B | 12. C | 13. C | 14. A | 15. C | 16. D | 17. D | 18. C | 19. B | 20. A |

卷 II

本卷有 5 小题,每小题 12 分,共 60 分。

21. (1)吐鲁番深居内陆,海洋水汽难以到达,降水稀少。金华离海洋较近,夏季风带来充足水汽,降水丰富。
- (2)疑惑一:吐鲁番光照强,昼夜温差大,葡萄品质好;气候干旱,多晴天,夏季气温高,有利于长时间晾晒;有专门晾房,晾晒经验丰富等。
- 疑惑二:金华地形以盆地丘陵为主,适宜种植葡萄;夏季高温多雨,雨热同期,利于葡萄生长;多河流,水源充足;光照充足,葡萄品质好等。
- (3)从引进优良品种、推广先进技术、提升品牌知名度、加大政府支持力度等角度回答。
22. (1)②①③。
- (2)素材一:访问调查;素材二:文献调查。素材一属于民间故事,可能有虚构成分;素材二属于文献资料,比较客观真实。所以,素材二更可信。
- (3)卷首语采用分层赋分,评分标准见评价量表。
- 围绕“长城不仅是古代军事工程,也是民族交融的见证,更是中华民族的精神象征”主题,从“战国、秦、明等时期为防御外敌的侵扰先后修筑了长城”“各族人民的交往、交流与交融为中华民族发展注入了新的活力”“全民族抗战中,中国人民以血肉之躯筑长城,取得了近代以来反抗外敌入侵第一次完全胜利”等角度,阐述长城见证了中华民族多元一体的发展进程,它不仅是中华优秀传统文化的符号,更是中华民族伟大精神的象征。
23. (1)一般违法行为。该行为违反了《浙江省电动自行车管理条例》,社会危害性相对轻微,应受到行政处罚。
- (2)经营者角度:诚信、合法经营;政府角度:依法行政,加强监管;学校角度:履行学校保护职责;个人角度:学习食品安全知识,珍爱生命等。
- (3)原因:父母角度,如缺乏尊重、过多干涉等;孩子角度,如自我意识增强、质疑父母等。经验:学会沟通;理解、接纳父母等。
24. (1)法国大革命胜利,颁布了《人权宣言》;应用了工业革命的成果。
- (2)林肯领导南北战争,维护了国家统一;颁布《解放黑人奴隶宣言》,废除了黑人奴隶制。
- (3)图 1:资本主义制度的确立;图 2:资本主义制度的扩展。坚持合作共赢,建设共同繁荣的世界;坚持交流互鉴,建设开放包容的世界等。
25. (1)一样。每个人所处的岗位不同,从事不同的劳动,但都在为国家和社会发展作出贡献。无论是脑力劳动者还是体力劳动者,都是国家的建设者,都值得我们尊敬和学习。
- (2)重视生态文明建设和精神文明建设。
- (3)此题为开放题。可从树立远大人生目标、顺应时代潮流、提升个人素养、用劳动创造美好未来、为民族复兴奉献青春等角度进行规划。