

眉山市 2023 年初中学业水平暨高中阶段学校招生考试

文科综合能力测试卷

注意事项:

1. 本堂考试为开卷考试, 试卷满分 100 分, 考试时间 120 分钟。
2. 在答题前, 考生务必将自己的姓名、座位号、准考证号准确填写在答题卡相应的位置。
3. 本试卷分 I 卷、II 卷, 共 12 页。第 I 卷第 1 页至第 6 页为道德与法治、历史选择题, 其中第 1—12 题为道德与法治试题, 第 13—24 题为历史试题, 每题 2 分, 共 48 分; 第 II 卷第 7 页至第 12 页为道德与法治、历史非选择题, 共 52 分。
4. 考生选出第 I 卷答案后, 用 2B 铅笔把答题卡上对应题目的答案标号涂黑。如需改动, 请用橡皮擦擦干净, 再选涂其它答案。不能直接在试卷上作答。第 II 卷试题答案用 0.5 毫米的黑色签字笔在答题卡相应的答题区作答, 超出限定区域的答案无效。

第 I 卷 (选择题 共 48 分)

一、选择题 (下列每小题只有一个备选项符合题目要求。每小题 2 分, 共 48 分)

1. 不同的知识存在不同的记忆要求, 有些知识需要理解内在意义; 有些知识只需原封不动地记住; 还有些知识不仅要理解, 还要经过练习。这启示我们
 - A. 要善于运用不同的学习方式
 - B. 要学会体验学习的美好
 - C. 要发现并保持对学习的兴趣
 - D. 要提高自主学习的能力
2. 漫画《跳绳》提醒我们, 职业生涯规划要注意
 - A. 考虑自己的兴趣爱好
 - B. 符合国家发展的需要
 - C. 把握自己的能力特长
 - D. 确定具体可行的计划
3. “白日不到处, 青春恰自来。苔花如米小, 也学牡丹开。” 清代袁枚的这首小诗告诉我们
 - ①留住时光, 懂得敬畏生命的短暂
 - ②珍视生命, 努力追求生命的永恒
 - ③活出精彩, 书写自己的生命价值
 - ④拒绝平庸, 虽处逆境仍自强不息
 - A. ①②
 - B. ①④
 - C. ②③
 - D. ③④




图1 跳绳

4. 目前,我国已建成 145 个国家节水型城市。据初步统计,在生活水平不断提高的同时,2022 年我国城市人均综合用水量较 10 年前降低了 5.5%。这一举措符合哪种发展理念
- A. 共享发展 B. 协调发展 C. 开放发展 D. 绿色发展
5. 协商民主是我国社会主义民主政治的特有形式和独特优势。下列属于协商民主的是
- ①村民投票选举村委会主任 ②居委会召集业主、物业商讨小区公约
③外交部定期进行新闻发布 ④党中央就政策制定听取民主党派意见
- A. ①② B. ①③ C. ②④ D. ③④
6. 图 2 是今年一季度我国新设民营企业和截止 3 月底全国登记在册民营企业有关数据。

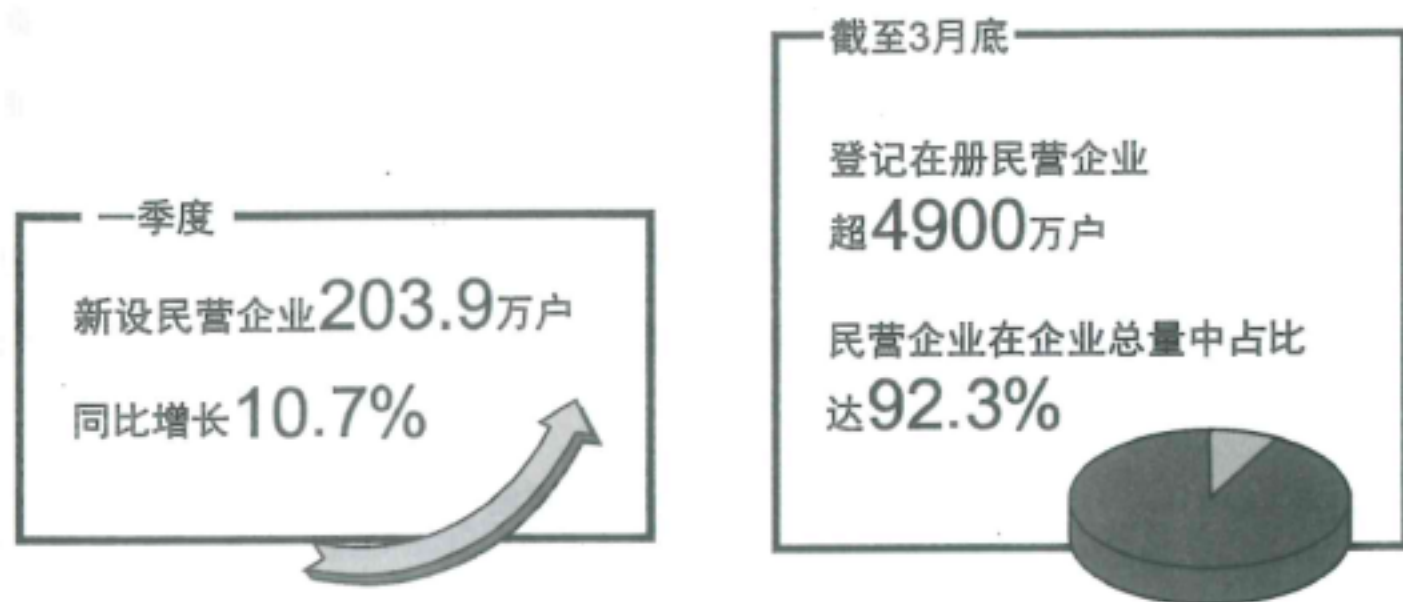


图 2

对此,解读正确的是

- A. 民营企业发展速度快于国营企业 B. 我国民营企业实现了高质量发展
C. 民营经济是国民经济的主导力量 D. 我国企业的主体部分是民营企业
7. 十四届全国人大一次会议期间,代表们共提出建议 8314 件。经研究分析,分别交由 204 家承办单位研究办理。材料表明
- ①人大代表依法审议各项议案 ②人大代表积极履行法定职责
③人民代表大会在国家机构中居于最高地位 ④承办代表建议是尊重人民主体地位的要求
- A. ①② B. ①③ C. ②④ D. ③④

8. “光明影院”是我国首个以高校师生为志愿者主体的无障碍电影公益项目。截至目前，“光明影院”在31个省区市进行公益放映和推广，将无障碍影视产品送到2000多所特殊教育学校，让许多视障人士领略到光影世界的魅力。材料说明，亲社会行为的养成需要做到
- A. 守信重诺，推己及人
B. 身体力行，热心友善
C. 为人着想，合作谦让
D. 己所不欲，勿施于人
9. 今年4月15日是第八个全民国家安全教育日。国家安全与我们息息相关，国家安全就在身边。下列行为中，可能危及国家安全的是
- ①在跨境电商平台上购买境外异类宠物
②向国外网友炫耀自己掌握的内部数据
③随意将快递包装盒丢弃到小区垃圾桶
④开启手机支付软件中的免密支付功能
- A. ①②
B. ①③
C. ②④
D. ③④
10. “好意施惠”行为，也称情谊行为，即行为人以建立、维持或者增进与他人相互关切、爱护的感情为目的而从事的，不具有法律约束意思，后果直接无偿利他的行为。以下行为中，属于“好意施惠”行为的是
- ①为他人指路
②快递配送
③搭乘便车
④法律援助
- A. ①②
B. ①③
C. ②④
D. ③④
11. 图3是某校学生在“国际舞台上的中国”主题班会发言中列举的三则事例

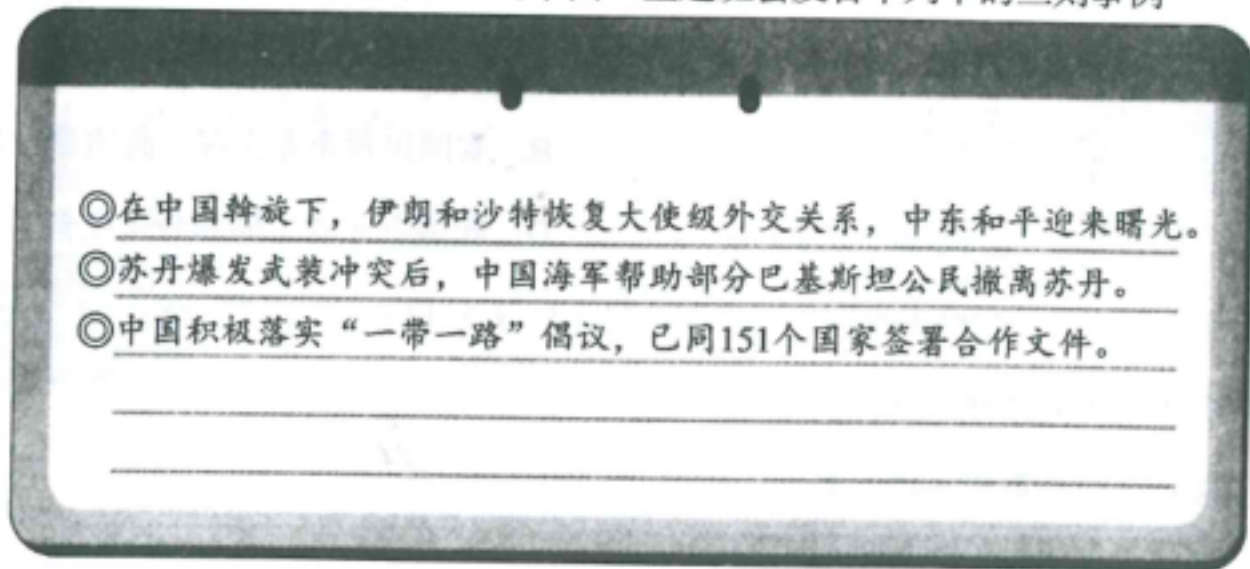


图3

他发言的主旨最有可能是

- A. 积极化解冲突，维护世界和平
B. 主动承担责任，展现大国风采
C. 寻求对外合作，开拓世界市场
D. 践行开放共享，助力全球发展

12. 最近,“给颜值打分”成为不少年轻人关注的热门话题。一些平台上甚至出现了“给颜值打分”“外貌分析”等付费服务,且销量不低。付费给颜值打分

- ①没有必要,不用在意他人的评价
- ②没有必要,美的追求不只是容貌
- ③有必要,别人的评价才客观全面
- ④有必要,或许能够缓解颜值焦虑



图4

- A. ①② B. ①③ C. ②④ D. ③④

13. 殷商卜辞中有赛马和比箭的相关记载。周代已经有完备的比箭礼仪,天子者称为“大射礼”,贵族比赛,则称为“乡射礼”。由此可知商周

- A. 祭祀活动很盛行
- B. 竞技体育已出现
- C. 军备竞赛已开始
- D. 分封制度已建立

14. 成书于东汉时期的数学著作《九章算术》中提到了很多多面体体积的算法,主要是有关筑堤、造台、开河、掘窖的体积问题,以及谷仓、米囤、粮窖的容量问题。由此可知中国古代

- A. 数学家多出生于农民家庭
- B. 数学知识与农业生产相关
- C. 数学普及促进农业的发展
- D. 科举制促进了数学的进步

15. 苏轼在元丰七年(1084年)创作《眉州远景楼记》,其中说:“吾州之俗,有近古者三。其士大夫贵经术而重氏族,其民尊吏而畏法,其农夫合耦以相助。盖有三代、汉、唐之遗风,而他郡之所莫及也。”由此可知宋代眉州

- A. 重文尊法民风淳朴
- B. 耕读传家人丁兴旺
- C. 社会和谐经济发达
- D. 人民富裕生活优雅

16. 课堂上老师复习中国古代历史展示了以下一张知识图表。该表体现了

复习单元	主要内容
第一单元	从中华文明起源到秦汉统一多民族封建国家的建立和巩固
第二单元	三国两晋南北朝的民族交融与隋唐统一多民族封建国家的发展
第三单元	辽宋夏金多民族政权的并立与元朝的统一
第四单元	明清中国版图的奠定与面临的挑战

- A. 中华文明的起源发展及其传播
- B. 中华民族的交往交流交融发展
- C. 统一多民族国家的形成与发展
- D. 专制主义中央集权制度的演变

17. 图 5 是中国近现代某次战争形势图。该战争



图 5

- A. 大力宣传了新思想新文化
B. 沉重打击了列强和军阀
C. 口号是“打土豪，分田地”
D. 解决了中国的民族危机

18. 图 6 是人民日报 1949 年 9 月 29 日刊发的广告。这反映出当时

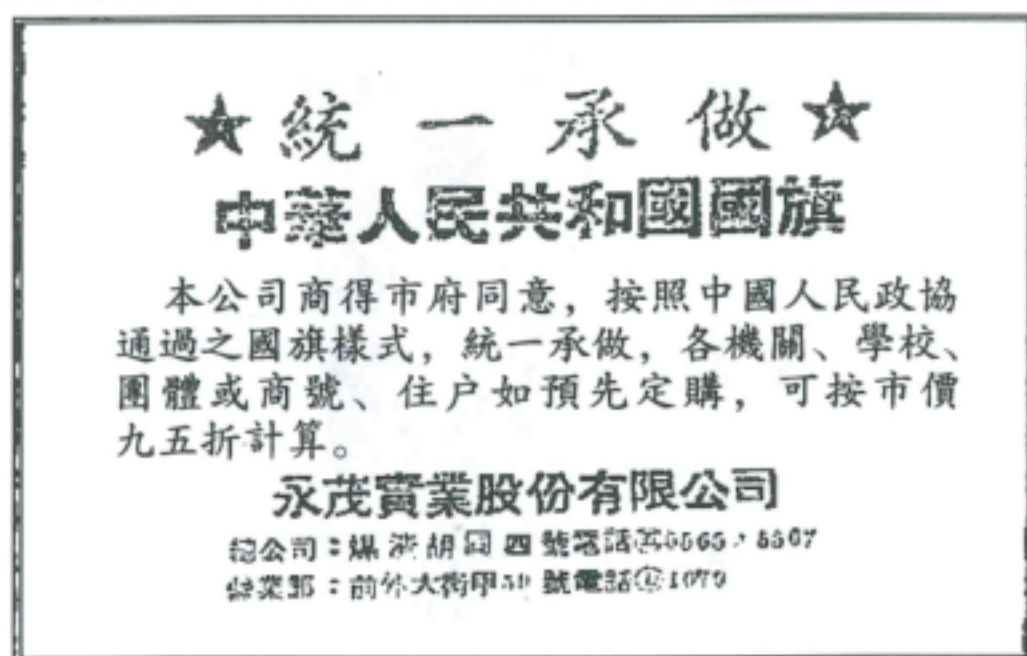


图 6

- A. 新生政权得到了人民拥护
B. 个体私营工商业发展迅速
C. 社会主义基本制度已建立
D. 人民代表大会制度已确立

19. 进入新时代，中国积极劝和促谈，维护朝鲜半岛和平稳定，引导促成伊朗核问题六方会谈，推动南苏丹问题的政治解决。2023 年推动沙（特）伊（朗）恢复外交关系。这些活动反映了中国

- A. 捍卫战后雅尔塔体系
B. 积极推动经济全球化
C. 维护世界和平与稳定
D. 坚决维护全球一体化

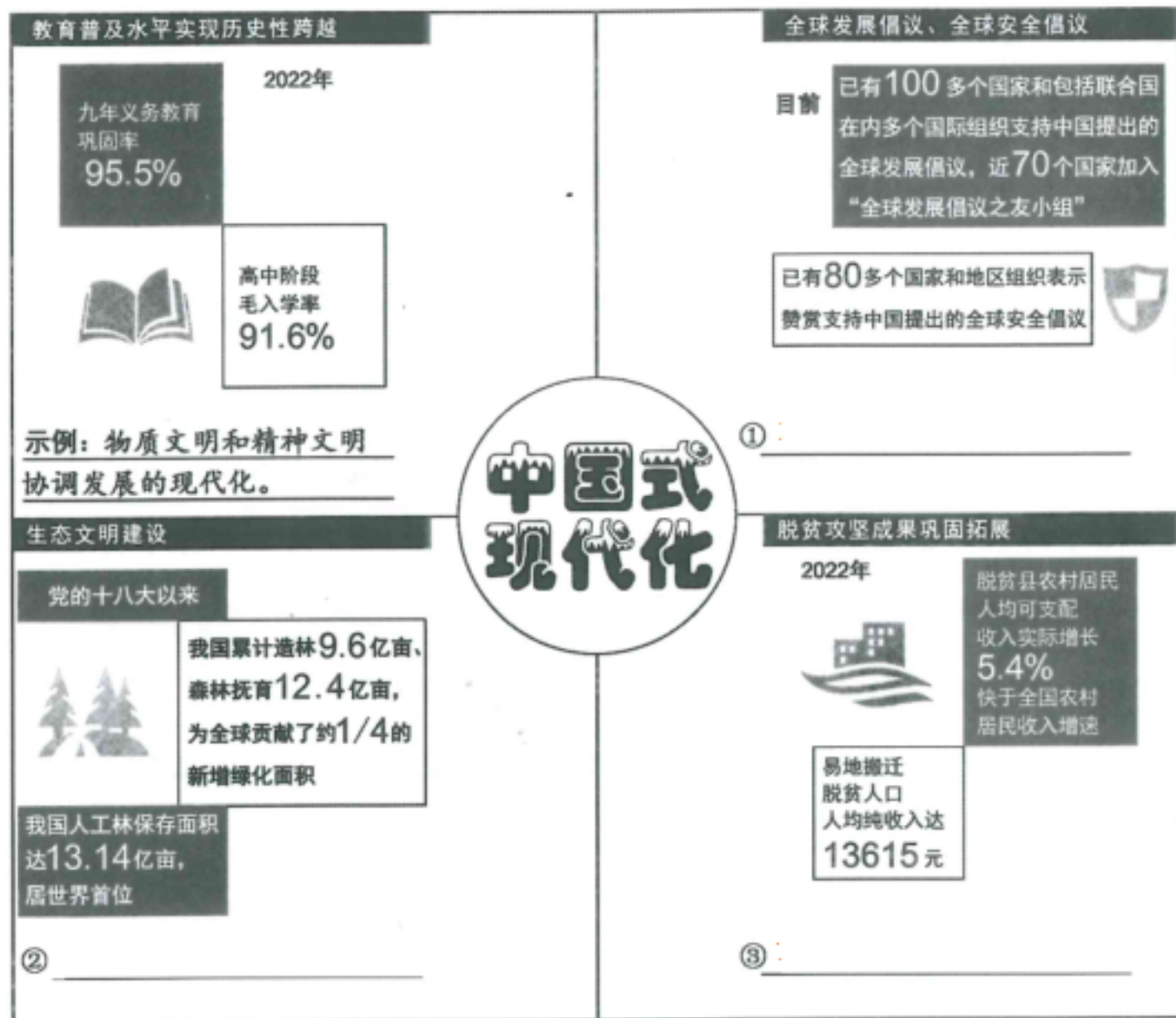
20. 古代亚非地区的文明古国创造了辉煌灿烂的文明成果，如埃及的象形文字和金字塔，两河流域的楔形文字和《汉谟拉比法典》，中国的甲骨文和青铜器，印度的梵文和佛教等。这表明古代文明具有
- A. 统一性
B. 融合性
C. 多元性
D. 继承性
21. 19 世纪 70 年代以前在政治领域内世界上出现三股进步历史潮流：资产阶级革命和改革，民族解放运动，工人运动与社会主义运动。这主要缘于
- A. 新航路开辟
B. 殖民扩张
C. 文艺复兴
D. 工业革命
22. 第一次世界大战 1914 年爆发，1918 年结束，但当时中国的新闻报道大多称之为“欧战”。这主要是因为
- A. 交战双方全是欧洲人
B. 交战目的是夺取霸权
C. 交战区域集中在欧洲
D. 战争性质是非正义的
23. 1943 年 12 月初，开罗会议发表《开罗宣言》。宣言明确规定：日本所窃取的中国领土，例如东北地区、台湾及其附属岛屿、澎湖群岛等，归还中国。由此可知该宣言
- A. 维护了中国领土主权
B. 维护了中国各项主权
C. 承认中国战胜国地位
D. 加速中国半殖民地化
24. 自“9·11”事件以来，美国政府凭借强大的经济和军事实力，打着反恐旗号，在世界各地发动侵略战争，共造成 460 万人死亡，人民流离失所，政局动荡，出现严重的人道主义灾难。由此可见
- A. 全人类应该共同应对恐怖主义
B. 国际社会应该重建经济新秩序
C. 美国的“反恐战争”成效显著
D. 美国霸权主义是国际动荡之源

第Ⅱ卷（非选择题 共 52 分）

二、非选择题

25. 为学习宣传党的二十大精神，学校准备以中国式现代化为主题制作一期宣传海报。以下是学校宣传小组的同学为制作宣传海报收集的数据和文字材料。

党的二十大报告指出，中国式现代化是人口规模巨大的现代化，是全体人民共同富裕的现代化，是物质文明和精神文明协调发展的现代化，是人与自然和谐共生的现代化，是走和平发展道路的现代化。



请你根据上述材料，结合示例将海报内容补充完整。（6分）

26. 2022 年 6 月 8 日, 习近平总书记在三苏祠考察时指出, “家风家教是一个家庭最宝贵的财富, 是留给子孙后代最好的遗产。”良好的家风浓缩着华夏子孙几千年来价值取向和精神追求。(12 分)

材料一 苏轼在《记先夫人不发宿藏》中讲到这样一个故事: 一天, 苏家故宅一处地面发生塌陷, 露出一个瓮。众人很兴奋, 猜测瓮可能装有金银珠宝, 想打开看看。闻讯赶来的程夫人却命人用土将陷下的坑填好, 并告诉大家那东西是前人埋下的, 不属于苏家, 谁也不准去挖取。

材料二 苏家“读书正业, 孝慈仁爱, 非义不取”的家风对苏轼影响至深。他在《六事廉为本赋》中提出“功废于贪, 行成于廉”, 主张廉洁为民。围绕如何实现廉洁为民, 某班同学积极开展讨论。



(1) 结合材料一, 谈谈程夫人的行为对我们遵守社会规则的启示。(6 分)

(2) 你赞同材料二中哪位同学的观点? 结合所学知识, 对你赞同的观点进行说明。(6 分)

27. 阅读连环画回答问题。(8分)



▲ 那时农民生活燃料全用柴草,既费事更破坏植被。



▲ 现在家家用上电器,既方便又留住了青山绿水。



▲ 那时农民搞种植业全凭传统经验,靠天吃饭。



▲ 现在农民在农业生产上积极学科学用科学。



▲ 那时村里的小学房屋破烂，桌椅简陋，更谈不上有任何教学设施。



▲ 现在哪里的校舍全都修建一新，校园美丽，教室窗明几净，教学设施配套齐全。

他婶婶，这娃儿病得不轻，还是上医院去看嘛。

唉，借的钱都用完了，只能熬点草药药吃了看能不能缓和一下。



▲ 那时农民就医，因缺钱致使很多患者无力进医院。

老李，看你精神抖擞的，恢复得不错嘛。

我这条命是政府给的，要不是参加了医保，政府帮出了一半的医药费，我咋能付得了这么大的费用。政策这么好，还要争取多活二十年！



▲ 现在国家建立了城乡居民基本医疗保险制度，极大地减轻了患者的经济负担。

——中共大关县委宣传部 编

(1) 请你为这组连环画拟写一个标题。(2分)

(2) 农业农村农民问题是关系国计民生的根本性问题。进入新时代，我国正实施乡村振兴战略。请你运用所学知识，结合连环画内容为乡村振兴提两点建议并说明理由。(6分)

28. 阅读材料，完成下列要求。(10分)

材料一 成渝铁路，原为清末倡议修建的川汉铁路成都至重庆段，因清政府“铁路国有”政策而引发保路运动，辛亥革命爆发，清政府统治结束。民国成立后，成渝铁路的建设被搁置了二十年。1932年，前四川督军周道刚和善后督办刘湘再度提倡修建，但因军阀混战，经费困难没有修成。1936年，国民政府通过国内集资和国外贷款在局部地段开工，后又因抗战爆发而停建。1947年，国民政府将成渝铁路收归国有，施工点多在重庆至内江段，工程时停时续，直到四川解放仍寸轨未铺。

——摘编自《四川省志·交通志》

(1) 根据材料一并结合所学知识，简述新中国成立前成渝铁路修建“时停时续”的主要原因。(3分)

材料二 1950年初，中共中央和政务院批准了西南军政委员会修建成渝铁路的计划。成渝铁路从1950年6月15日开工。到1952年7月1日全线通车，历时两年，实现了四川人民四十多年的夙愿。按照邓小平尊重技术人才的指导思想，西南铁路工程局留用了旧铁路工程机构中的全部工程技术人员，并让一些专家和技术人员担任了各级领导职务。为了节约成本，对解放前已建成的路基和桥洞等尽量利用，所需建材尽量使用沿线所产石料。铁路修建过程中，前后共计投入军工28646人，失业工人18981人，民工70177人。还有很多农民不计报酬，自带干粮，自备工具，支援铁路建设。129万根枕木，也是沿线群众在极短时间内备齐并送达工地的。

——摘编自俞荣新《新中国第一条铁路：成渝铁路》

(2) 根据材料二并结合所学知识，概括新中国建立后成渝铁路建设的特点。(4分)

(3) 根据上述材料并结合所学知识，分析成渝铁路建成的历史意义。(3分)

29. 阅读材料，完成下列要求。(6分)

材料 1894年爆发的中日战争，以日本胜利、中国惨败而告终。对该战的影响，有如下一些反应：

日本史学家藤村道生指出，这一场战争的胜利，“是日本由‘被压迫国’向‘压迫国’过渡的转折点”。

福泽谕吉说：日清战争，使大日本帝国受到尊重。

日本有作品记载：日清战争、连战皆捷，军人万岁。家有女儿的父母，都希望找一个军人作女婿。

张之洞在给朝廷的电报中指出：“倭约万分无理，地险、饷力、兵权，一朝尽夺，神人共愤，意在吞噬中国，非割占数地而已”。

在北京参加会试的各省举人联名上书：“弃台民之事小，亡国之事大，割地之事小，亡国之事大”。

陈独秀曾说“甲午之役、军破国削，举国上中社会，大梦初觉，稍有知识者多承认了富强之策”。

——摘编自邓元时《甲午战争与中日两国的历史命运》

根据上述材料并结合所学知识，分析甲午中日战争的结果对交战双方和国际关系的影响。（6分）

30. 阅读材料，完成下列要求。（10分）

材料一 北宋开封、南宋临安和元大都都是当时国际性大都市。北宋开封，最繁华的是大相国寺，场地宽阔，每月举办多次庙会，进行商品交易，还有傀儡戏、舞剑、杂技等表演。南宋临安文化娱乐业更为发达，城内外都有瓦子。元大都规模大，商业繁荣区在皇城后，杂剧演出活动很多。

——统编中国历史教科书七年级下册

（1）根据材料一并结合所学知识，概括我国宋元城市的特点。（3分）

材料二 开埠前天津的传统交通方式较发达，1860年开埠后天津的新式交通逐步兴起，并实现了交通方式的变革。在此基础上，天津的内聚外联效应得到发挥，城市快速实现近代化。工商业迅速发展，对外贸易扩大，一战后，天津成为“近代北方经济的龙头”。

——摘编自杜希英《交通变革与天津城市近代化》

（2）根据材料二并结合所学知识，分析近代天津城市发展的原因。（3分）

材料三 深圳本来只是一个贫穷的边陲小镇。深圳建立经济特区后，以“时间就是金钱，效率就是生命”的精神和“三天一层楼”的建设速度，几年时间就发展成为一个现代化大都市。

——统编中国历史教科书八年级下册

（3）根据材料三并结合所学知识，简析深圳城市发展的意义。（2分）

（4）根据以上材料并结合所学知识，谈谈影响城市发展的因素。（2分）

道德与法治试卷参考答案及评分意见

一、选择题 (12 题, 共 24 分)

题号	1	2	3	4	5	6	7	8	9	10	11	12
选项	A	C	D	D	C	D	C	B	A	B	B	C

二、非选择题 (3 题, 共 26 分)

25. ①走和平发展道路的现代化; ②人与自然和谐共生的现代化; ③全体人民共同富裕的现代化。

26. (1) 遵守社会规则需要自律和他律。程夫人不发宿藏的行为是自律的表现。我们应该像程夫人那样严于律己, 发自内心地敬畏规则, 将规则作为自己行动的准则, 内化于心, 外化于行。

(2) ①我赞同小雨的观点。政府是国家行政机关, 依法行使国家行政职权, 组织和管理国家行政事务。推进法治政府建设, 坚持依法行政可以规范政府的行政权, 防范行政权力的滥用, 克服懒政、怠政, 减少腐败滋生。

②我赞同小强的观点。监察委员会是行使国家监察职能的专责机关, 对所有行使公权力的公职人员进行监察。监察委员会履行监督、调查、处置职责, 有利于确保权力不被滥用, 有效地强化不敢腐的震慑, 保持公权力行使的廉洁性。

③我赞同小唐的观点。公民参与是公民的一项权利。民主监督是公民参与民主生活, 行使公民监督权的具体体现。实行民主监督, 有利于国家机关和国家工作人员改进工作, 提高工作效率, 克服官僚主义, 防止滥用权力, 预防腐败。

等级	水平描述	赋分范围
1	没有应答、应答错误、应答与题目无关; 仅有选择, 没有说明或说明与选择不一致。	0-1 分
2	有选择, 说明内容与所选观点基本一致, 阐述过程中运用的学科知识正确, 语言表达顺畅, 逻辑较为严密。	2-4 分
3	有选择, 说明内容与所选观点一致, 阐述过程中运用的学科知识准确, 言简意赅, 逻辑严密。	5-6 分

27. (1) 【答案示例】山乡巨变; 旧貌换新颜; 那时与现在。

(2) 【答案示例】①发展农业科技, 培育新型农民。科学技术是第一生产力。发展农业科技, 培育新型农民, 为实施乡村振兴, 发展现代农业提供澎湃动能。

②坚持绿色发展道路。注重节约资源, 保护生态环境, 乡村振兴的空间和后劲才会越来越大。

③完善农村社会保障体系。完善农村社会保障体系, 有利于提高农民的生活水平, 消除后顾之忧, 释放农村消费活力, 为乡村振兴提供新动能。

④发展乡村教育。教育是社会进步的基石。发展乡村教育, 可以提高农村人口素质, 为实施乡村振兴提供智力支持和人才支撑。

等级	水平描述	赋分范围
1	没有应答、应答错误或应答与题目无关。	0 分
2	所提建议与乡村振兴或连环画内容有关, 论述所运用的学科知识正确, 语言顺畅, 逻辑较为严密。	1-3 分
3	能依据连环画内容提出乡村振兴的合理化建议, 论述所运用的学科知识准确, 语言简洁流畅, 逻辑严密。	4-6 分

眉山市 2023 年初中学业水平暨高中阶段学校招生考试

历史试卷参考答案及评分意见

一、选择题 (12 题, 共 24 分)

题号	13	14	15	16	17	18	19	20	21	22	23	24
选项	B	B	A	C	B	A	C	C	D	C	A	D

二、非选择题 (3 题, 共 26 分)

28. (10 分)

(1)【评分要点示例】半殖民地半封建社会 (国家不独立); 缺乏强有力的政权领导 (政府动员能力); 政局动荡; 长期战乱; 财政困难 (经费短缺); 技术难度大; 工程艰巨; 建设经验不足等。(3 分, 1 点 1 分, 言之有理也可)

(2)【评分要点示例】特点: 党和政府主导; 军民共建; 人民群众大力支持; 建设耗时 (或工期) 短; 影响大; 充分利用旧有资源; 就地取材, 提高效率; 新中国第一条铁路; 尊重知识人才等。(3 分, 1 点 1 分, 言之有理也可)

(3)【评分要点示例】为政权巩固和经济恢复提供条件; 增强人民对党和政府的政治认同; 改善四川交通条件; 解决历史遗留问题, 满足人民心愿; 铁路的修建加强人员、物资的流动, 密切两地联系; 快捷、廉价、便利的交通促进了社会生活的变化; 促进沿线经济发展; 为新中国铁路建设提供技术人才和经验等。(3 分, 1 点 1 分, 言之有理即可)

29. (6 分)

【评分要点示例】对日本: 提高日本的国际地位; 刺激日本称霸和奴役亚洲的野心; 改变日本社会观念 (军人地位提升); 巨额赔款有助于日本近代化发展等。(2 分, 一点 1 分, 言之有理即可)

对中国: 丧失更多主权; 半殖民地化程度大大加深; 赔款增加人民负担; 促进中国救亡图存运动深入发展; 促进民族觉醒; 清政府腐败进一步暴露, 统治进一步削弱等。(2 分, 一点 1 分, 言之有理即可)

对国际: 刺激列强掀起瓜分狂潮; 改变东亚国际格局; 改变西方侵略方式—进入资本输出阶段等。(2 分, 任 1 点言之有理即可)

30. (10 分)

(1)【评分要点示例】国际性 (开放性和包容性); 规模大; 城市繁荣; 多是政治、经济和文化中心 (或城市功能齐全); 人口众多; 市民文化娱乐生活丰富多彩 (或城市文化市井气息浓厚) 等。(3 分, 1 点 1 分, 言之有理即可)

(2)【评分要点示例】历史基础好; 开埠 (或辟为通商口岸); 近代交通事业的发展; 深受西方科技文化的影响; 近代工商业和外贸的发展; 人口增长快; 地理位置优越; 城市功能转型; 开放性和包容性等。(3 分, 1 点 1 分, 言之有理即可)

(3)【评分要点示例】充分证明改革开放政策 (或建立特区的政策) 是正确的; 深圳的快速发展说明社会主义改革的必要性; 深圳的成功发展经验为其他改革提供借鉴; 深圳成为改革开放窗口; 深圳的发展证明社会主义制度的优越性; 深圳的发展证明中国共产党的伟大; 深圳经济的发展带动了就业, 促进了社会进步; 形成了改革开放精神等。(2 分, 1 点 1 分, 言之有理即可)

(4)【评分要点示例】因素: 地理区位; 政治; 经济; 人口; 开放性、包容性; 历史和文化等。(2 分, 1 点 1 分, 言之有理即可)