

文科综合（历史）

第 I 卷 选择题（共 30 分）

一、选择题（在每小题的四个选项中，只有一项最符合题意，请选出并在答题卡上将该选项涂黑。
本大题有 15 个小题，每小题 2 分，共 30 分）

1. 右图中的文物出土于浙江余姚河姆渡遗址，是我国新石器时代的工具“耒耜”，其“入土曰耜，耜柄曰耒”。据此推测，“耒耜”可用于（ B ）

A. 取火
B. 耕地
C. 纺织
D. 制陶



2. 《史记·刺客列传》描写了春秋战国时期的五位刺客。司马迁对其评价：“自曹沫至荆轲五人，此其义或成或不成，然其立意较然，不欺其志，名垂后世。”下列选项与这一记载体现的精神内涵相符的是（ C ）

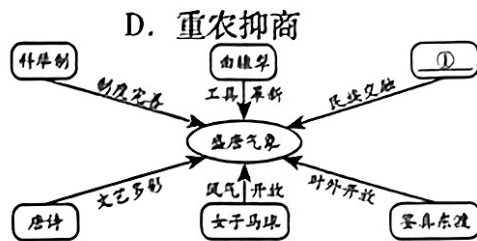
A. 民为贵，社稷次之，君为轻
B. 刑过不避大臣，赏善不遗匹夫
C. 富贵不能淫，贫贱不能移，威武不能屈
D. 为政以德，譬如北辰，居其所而众星共之

3. 汉文帝时，大臣贾谊上书建议“驱民而归之农，皆著于本”。大臣晁错提出“务民于农桑，薄赋敛”。这反映了他们主张（ A ）

A. 以农为本
B. 戒奢从简
C. 兴修水利
D. 重农抑商

4. 李华同学在学习“盛唐气象”这一内容时，绘制了下面的内容结构示意图。你认为①处可填写（ B ）

A. 北击匈奴
B. 文成公主入藏
C. 澶渊之盟
D. 设置驻藏大臣



5. 右图是现藏于中国国家博物馆的明代《南都繁盛图》（局部），画面上南市街到北市街一带人流如织，店铺林立，出现了大约 109 个店铺招牌，幌子上写着“东西两洋货物俱全”“西北两口皮货发客”等。这反映了明代（ A ）

A. 商品经济繁荣
B. 南京水陆交通便利
C. 经济重心南移
D. 商业活动诚信为本



6. 学校的校园文化艺术节上，历史社团的同学们以“传承民族气节·崇尚英雄气概”为主题进行历史剧汇报演出。剧中主人公慷慨激昂地说道：“若鸦片一日未绝，本大臣一日不回，誓与此事相始终，断无中止之理。”这位主人公是（ B ）

A. 郑成功
B. 林则徐
C. 左宗棠

7. 同学们运用史论结合，论从史出的方法收集到如下论据。据此推断他们要论述的观点是（ C ）

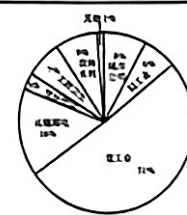
A. 国共合作是抗日战争胜利的根本保证
B. 民族觉醒是抗日战争胜利的决定因素
C. 中国共产党是全民族抗战的中流砥柱
D. 中国战场是世界反法西斯战争东方主战场

D. 邓世昌

- ◆ 杨靖宇领导东北抗日联军队伍抗击日寇
- ◆ 西安事变和平解决
- ◆ 毛泽东发表《论持久战》
- ◆ 平型关大捷、百团大战
- ◆ 抗日根据地军民创造地道战等游击战法
- ◆ 抗日根据地实行地主减租减息，农民交租交息的土地政策
- ◆ 中共七大召开

8. 数据统计往往蕴含着丰富的历史信息。下图是我国《“一五计划”的基建投资比重分配表》，该数据反映了“一五计划”期间（ D ）

A. 农、轻、重工业协调发展
B. 各行业均取得显著的增长
C. 培养了大量专业技术人才
D. 集中主要力量发展重工业



9. 1971 年 10 月 25 日，阿尔巴尼亚代表高喊：“美国人的巨大失败！”坦桑尼亚代表穿着“毛制服”与非洲兄弟们跳起了桑巴舞。这一历史画面的出现是因为（ C ）

A. 中国提出了和平共处五项原则
B. 万隆会议取得圆满成功
C. 中国恢复在联合国的合法席位
D. 中美签署《联合公报》

10. 世界古代各区域的文明成果反映了人类早期文明的发展水平。下表中的内容体现了古代文明具有（ B ）

文明古国	文明特点	文明成就
古代埃及	大河文明 集权政治 浓厚的宗教意识	金字塔 象形文字
古代中国	农耕文明 中央集权	分封制 青铜器 甲骨文
古代罗马	海洋文明 奴隶制民主政治	《十二铜表法》 罗马大竞技场

A. 交互性
B. 多元性
C. 传承性
D. 统一性

11. 玉米是一种原产于美洲的物种，16 世纪以来广泛见于欧洲和中国的书籍中（如下图所示）。这一现象说明（ C ）

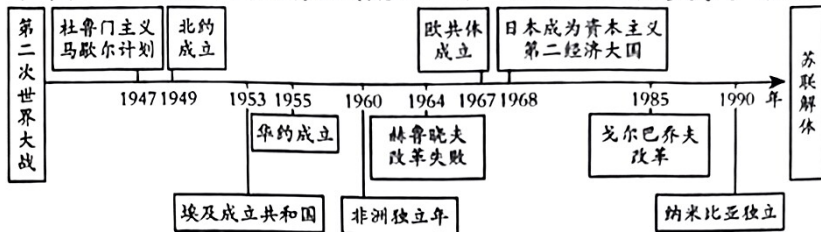
A. 郑和下西洋促进中外商品贸易往来
B. 玉米成为中国古代主要的粮食作物
C. 新航路开辟后带来了全球物种交换
D. 玉米作为观赏和药用植物广泛种植



12. 1944 年 6 月 6 日，艾森豪威尔发表胜利宣言：“这是人类历史上最大规模的两栖登陆战，这是盟军的伟大胜利……法西斯德国的坟墓就此挖掘。”他赞誉的这场战役是（ D ）

A. 不列颠战役
B. 中途岛战役
C. 斯大林格勒战役
D. 诺曼底战役

13. 李华同学运用时间轴的方式梳理了某一时期的重大史事。据此判断他学习的主题是（ A ）



A. 两极格局下的世界
B. 亚非拉国家的新发展
C. 经济全球化的趋势
D. 战后资本主义新变化

晋华中学为培养学生热爱家乡的情感，开设了地方史课程，编写了校本教材《人文山西》。下面是该书的部分目录，请你据此完成第 14 ~ 15 题。

目录	
第一章	华夏文明的“主题公园”.....1
第二章	天下形势必有取于山西.....15
第三章	民族交融的舞台与熔炉.....53
第四章	称雄商海五百年的晋商.....73
第五章	多彩多姿的文化艺术.....95
第六章	奋斗中的近代山西.....117
第七章	与共和国一起成长的山西.....147
第八章	改革开放中崛起的山西.....165

14. 下面内容能入选该书第三章的是（ A ）

A. 叔虞封唐——晋国建立
B. 走西口——艰苦创业
C. 鲜卑内迁——建立北魏
D. 山西票号——汇通天下

15. 下面是该书第七章中节选的片段，孙中山的这段话意在（ B ）

1912 年 9 月 18 日，孙中山来到太原发表了热情洋溢的演讲：“去岁武昌起义，不半载竟告成功，此实山西之力……使非山西起义，断绝南北交通，天下事未可知也。”

A. 强调武昌起义在较短时间内取得了胜利
B. 肯定山西起义在辛亥革命中的重要作用
C. 发动山西各界共造自由民主平等之中国
D. 说明山西起义用半年时间推翻清朝统治

第 II 卷 非选择题（共 45 分）

二、简答题（本大题共 10 分）

16. 中华民族的文化自信从历史传承中来，从革命奋斗中来，从开拓建设中来。下面是九年级同学以“树立文化自信”为主题开展项目化学习的成果展板，请你完成展板中的问题。

弘扬优秀传统文化·传承红色革命文化

展板一【阅读文学典籍——弘扬优秀传统文化】（5 分）

- (1) 一组同学阅读文学典籍后，制作了下面的读书卡。请按照要求完成空白处内容的填写。

作品一 《清平乐·村居》

作者 辛弃疾（宋）

茅檐低小，溪上青青草。醉里吴音相媚好，白发谁家翁媪？

大儿锄豆溪东，中儿正织鸡笼。

最喜小儿亡赖，溪头卧剥莲蓬。

体裁：_____

特点：_____

生活风貌：反映了家人相亲，共同劳动的田园生活风貌。

作品二 《三国演义》（第三十八回节选）

作者 罗贯中（明）

玄德曰：“大丈夫抱经世奇才，岂可空老于林泉之下？愿先生以天下苍生为念，开备愚鲁而赐教。”

孔明笑曰：“愿闻将军之志。”

体裁：_____

特点：章回体；情节生动；大众化。

历史价值：_____

答：作品一：体裁：词（1分）

特点：句子有长有短；便于歌唱；有词牌名等。（答出任意一点得1分）

作品二：体裁：小说（1分）

历史价值：反映了人民群众要求统一的强烈愿望；在当时社会广泛流传，深受广大人民群众喜爱；促进小说创作的繁荣；对以后的小说、戏剧等文学创作产生了深远影响等。（答出任意一点得1分，共2分）

展板二【释读文物图片——传承红色革命文化】（5分）



图一 1931年革命根据地农民获得的土地分配证



图二 淮海战役时支前民工使用的担架



图三 1950年“抗美援朝”履带拖拉机



图四 王进喜日记

（2）二组同学展示了左边一组文物图片，它们分别为研究哪一时期的历史提供了史料？写出你从中感悟到的红色文化内涵。

答：图一：国共十年对峙时期（1分）图二：人民解放战争时期（1分）图三：中华人民共和国成立和巩固时期（1分）图四：社会主义建设探索时期（1分）内涵：以爱国主义为核心的大无畏革命精神；实事求是，公而忘私的奉献精神；坚持一切依靠人民；坚守为人民谋幸福的初心；艰苦奋斗的创业精神等。（答出意思相近的任意一点得1分）

三、材料解析题（本大题含两个小题，每小题10分，共20分）

17. 新闻媒介是传播信息的重要工具，是传承文化的载体。阅读下列材料，结合所学知识回答问题。

材料一 中国在秦代，就有较多的石刻、木刻、器皿铸刻等传播官方的新闻性信息。如公元前221年秦始皇统一六国后，发布诏书通告天下：“廿六年，皇帝尽并兼天下诸侯，黔首大安，立号为皇帝，乃诏丞相状、绾，法度量则不壹欺疑者，皆明壹之。”现在出土的器皿、木牍等许多文物上，都有各种方式铸、刻或戳印的这四十个诏书，当年几乎家喻户晓。

——谢金文《中外新闻史概要》

（1）材料一中，秦代传播官方新闻信息的载体有哪些？秦始皇“诏书”中提到了哪些历史史实？（4分）

答：载体：石刻；木刻；器皿；木牍等。（答出任意一点得1分，共2分）

历史史实：秦始皇灭六国，统一全国；创立皇帝制度；设立丞相制度；统一度量衡等。（答出任意一点得1分，共2分）

材料二 中国近代史上第一个办报高潮，始于戊戌变法期间。自1896～1898年两年时间里，由资产阶级改良派直接或间接创办的报刊达70多家。其中重要的报纸如《时务报》《国闻报》等，在中国近代的思想启蒙中发挥了重要作用。

——刘笑盈《中外新闻传播史》

（2）根据材料二，简述戊戌变法期间出现办报高潮的原因。（2分）

答：民族资本主义的发展，民族资产阶级力量的壮大；资产阶级受西方自由民主思想的影响；甲午中日战争后民族危机的加剧，民族资产阶级主张变法图强；通过创办报刊宣传变法思想等。

评分说明：答出任意一点得1分，共2分。

材料三 在美国广播业的发展历程中，新时期罗斯福总统通过广播发表的炉边谈话是推进广播事业的重要事件。他在1933年3月4日的就职演说中就宣称要为美国人民实行“新政”。由于他是在白宫楼下起居室的炉边，采取了很随意的谈话形式，历史上称为“炉边谈话”。成千上万的美国人通过收音机直接听到了罗斯福总统用那亲切有力的声音形象地解释了新政的措施。广播为稳定美国人心、战胜危机发挥了巨大的作用，而“广播成为主要的信息来源，富兰克林·罗斯福总统功不可没。”

——刘笑盈《中外新闻传播史》

（3）材料三中，罗斯福是在怎样的背景下发表“炉边谈话”的？谈话产生了什么影响？（4分）

答：背景：1929-1933年，在经济大危机的打击下，美国社会大批工人失业，工厂倒闭，面对日益严重的经济危机，需要稳定美国人心，战胜经济危机；同时通过广播解释并宣传新政的内容等。（答出任意一点得1分，共2分）

影响：恢复了美国人民对政府的信心，有助于战胜经济危机；有助于新政的推广实施；增强了美国政府的公信力；推进了美国广播事业的发展等。（答出任意一点得1分，共2分）

18. 实现现代化是推动国家发展的重要途径。阅读下列材料，结合所学知识回答问题。

材料一 英国的现代化历史堪称全球现代化的经典模式。以1500年为开端，在外部世界的影响和内部因素的作用下，以海外殖民、资产阶级革命、工业革命，一波又一波的历史浪潮终于把英国推上了世界现代化的前沿，造就了世界历史上第一个资本主义现代化的模型。

——周穗明《现代化：历史、深化与反思》

材料二 19世纪，美国完成了从乡村社会向城市社会转变。在这个过程中，领土的扩张，西部的开发，科技和制度的创新，经济能量的空前增长，国内市场的拓展，推动美国社会发生了深刻的转型。进入20世纪以后，伴随着工业化和城市化的完成，美国逐渐成为世界上现代化程度最高的国家之一。

——钱乘旦《世界现代化历程·北美卷》

材料三

1982年	邓小平指出，我们的现代化建设，必须从中国实际出发。“把马克思主义的普遍真理同我国的具体实际结合起来，走自己的道路，建设有中国特色的社会主义”。由此，中国式现代化成为时代的命题。
2020年	中国国内生产总值达到101.6万亿元人民币，是1978年的276倍，人均国内生产总值是1978年的187倍。

——据马敏《中国式现代化新道路的历史演进及前瞻》整理

- (1) 根据材料一、二，结合具体史实说明英、美两国现代化进程的相同之处。(4分)

答：通过资产阶级革命，建立资产阶级民主政体，实现政治民主化，为工业化发展扫清障碍；通过殖民扩张，掠夺资金原料，占据海外市场；两次工业革命中新技术、新发明应用于工业生产，创造了巨大生产力，实现经济上的工业化和市场化；随着工商业发展，人口从农村流向城市，推动了城市化的进程等。

评分说明：分别答出上述任意一点史实并加以说明得2分，共4分。

- (2) 根据材料三，列举社会主义现代化建设中具有中国特色的两例具体举措，并简述现代化建设产生的影响。(4分)

答：举措：实行家庭联产承包责任制；发展乡镇企业；国有企业改革；设立经济特区；设立沿海开放城市；建立社会主义市场经济体制等。(答出任意一点得1分，共2分)

影响：国内生产总值快速增长；人民生活水平显著提高；综合国力明显增强；国际地位得到提高；国际竞争力增强等。(答出任意一点得1分，共2分)

- (3) 综上所述，你从中西方现代化历程中得到了哪些启示？(2分)

答：要从国情出发，实事求是；解放思想，更新观念是实现现代化的先决条件；制度创新是实现现代化的保障；要重视教育，大力发展科技；要顺应经济发展规律；坚持改革开放等。

评分说明：答出符合上述意思的任意一点得1分，共2分。

四、探究题(本大题共15分)

19. 历史的长河奔流不息，一代代人洞察时代风云，把握时代脉搏，绘制了一幅幅波澜壮阔的时代画卷。李老师以“时代之光”为主题，设计了下面的学习任务单，请你参与完成。

任务一 【解读历史文献——倾听时代呼声】(4分)

- (1) 思想引领时代发出革命的呼声。下面两则文献材料反映的思想分别发出了怎样的时代呼声？这些时代呼声产生了什么影响？

在地狱里，教皇尼古拉三世像根木桩，倒插在岩石的夹缝中，双脚燃烧着火焰。但丁说：“你留在这里吧，因为你受到的惩罚是公正的。因为你的贪婪使世风日下，把好人蹂躏，把恶人提升。”
——摘编自《神曲》

让统治阶级在共产主义革命面前发抖吧。无产者在这个革命中失去的只是锁链。他们获得的将是整个世界。
全世界无产者，联合起来！

——《共产党宣言》

答：《神曲》呼声：人文主义或抨击教会贪婪腐化，表达市民阶层的情感和理想等。（1分）影响：促进了人们的思想解放；推动了欧洲思想文化领域的繁荣；为欧洲资本主义的产生和发展奠定了思想文化基础。（答出任意一点得1分）《共产党宣言》呼声：无产者联合起来，推翻资产阶级的统治。（1分）影响：无产阶级斗争有了科学的理论指导，国际共产主义运动兴起并蓬勃发展。（1分）

任务二 【走近历史场景——见证时代变化】（4分）

（2）革命揭开时代变化的恢宏序章。下面图片场景反映的两场革命分别带来了怎样的时代变化？

答：图一：打破了帝国主义一统天下的局面，开辟了人类历史新纪元，建立了第一个无产阶级专政的国家；退出了第一次世界大战；建立社会主义公有制等。图二：旧民主主义革命走向新民主主义革命的转折点；一场彻底反帝反封建的伟大爱国革命运动；动员社会各界积极参与，具有广泛性；促进了马克思主义同中国工人运动的结合等。



图一 十月革命中革命武装攻占冬宫（绘画）



图二 五四运动（绘画）

评分说明：分别答出符合上述意思的任意两点各得2分，共4分。

任务三 【阐述历史史事——谱写时代华章】（7分）

（3）中国共产党领导中国人民在时代洪流中一路披荆斩棘，不断从胜利走向新的胜利，开创了民族复兴的宏图伟业。请你从下面的史事中任选三例，以“开创时代伟业·谱写时代华章”为题，写一篇150字左右的小短文。

中共一大 开辟井冈山革命根据地 红军三大主力会师
新中国成立 中共十一届三中全会 实现中华民族伟大复兴的中国梦

答：示例： 开创时代伟业·谱写时代华章

中国共产党成立以来，领导中国人民一路披荆斩棘，不断开创宏图伟业。

中共一大召开，标志中国共产党成立，此后领导中国革命开辟出农村包围城市、武装夺取政权的道路，取得新民主主义革命的胜利；新中国的成立，实现了民族独立和人民解放，开辟了中国历史新纪元；十一届三中全会的召开，实行改革开放，从农村到城市、从沿海到内地、从实践到理论，开创了一条独具中国特色的社会主义道路。

中国共产党在每个时代都以自身的智慧开创新的时代伟业，谱写时代华章，也将在实现中华民族伟大复兴的新征程中绘就更加灿烂的时代画卷。

评分说明：围绕主题，文章结构完整，层次分明，逻辑关系清晰，观点论述与3个史事及其影响建立联系，并紧扣文章主题，进行解释和扩展可得7分。之后按等级逐条赋分。

文科综合 （道德与法治）


第I卷 选择题（共20分）

一、选择题（在每小题的四个选项中，只有一项最符合题意，请选出并在答题卡上将该项涂黑。本大题共10个小题，每小题2分，共20分）

- 2023年政府工作报告指出，2022年我国国内生产总值增加到121万亿元；2023年增长预期目标为5%左右，那么2023年我国国内生产总值预期增长到（ C ）
A. 123万亿元左右 B. 125万亿元左右 C. 127万亿元左右 D. 129万亿元左右
- 省城某初中充分利用丰富的社会资源，多年来坚持开设“家长课程”，邀请警察、医生、科技工作者等从事不同职业的家长，进校讲述职业生涯故事，并组织学生进行职业体验活动。学校开设这门课程最主要的目的是帮助学生（ A ）
A. 做好职业生涯规划 B. 提升道德修养 C. 增强合作竞争意识 D. 开阔国际视野
- 法律与我们每个人如影随形，它规定的权利和义务为我们每个人提供了自由生存与发展的空间。以下是小郑同学日常生活中的几个片段，其中有关行使政治权利的是（ B ）
A. 获得山西省信息科技大赛一等奖
B. 向市长热线反映校门口长期交通混乱的情况
C. 放学路上扶起倒地的共享单车，并摆放整齐
D. 每天按时上学，上课专心听讲，认真完成作业

4. 阅读右图, 请你判断该《意见》体现了对未成年人的 (C)

A. 家庭保护
B. 学校保护
C. 政府保护
D. 司法保护



5. 人民法院是国家的审判机关, 审理刑事、民事和行政案件要在相应的法庭进行。下列四个案例中能在右图所示法庭审理的是 (C)

A. 王某在电影院起哄闹事, 引起现场一片混乱
B. 李某多次在超市偷盗商品, 数额累计近 2 万元
C. 赵某借了朋友一大笔钱, 逾期未还, 朋友追讨多次无果
D. 刘某在候车室高声喧哗, 旁若无人, 还随地乱扔瓜子皮



6. 近日, 初二某班准备模拟县人民代表大会召开的场景, 在布置会场时需要张贴有关标语。以下四条标语中最适合用于该会场的是 (D)

A. 标语 1: 平等团结互助和谐
B. 标语 2: 自我管理、自我服务、自我教育、自我监督
C. 标语 3: 长期共存、互相监督、肝胆相照、荣辱与共
D. 标语 4: 坚持党的领导、人民当家作主、依法治国有机统一的根本政治制度安排

7. 2023 年 4 月 15 日是第八个“全民国家安全教育日”, 校广播站举办相关主题节目。在讲解“传统安全和非传统安全”时, 主持人说“非传统安全”是指传统的政治、军事、国土安全之外的国家安全, 并列举下列四个案例让师生辨别。

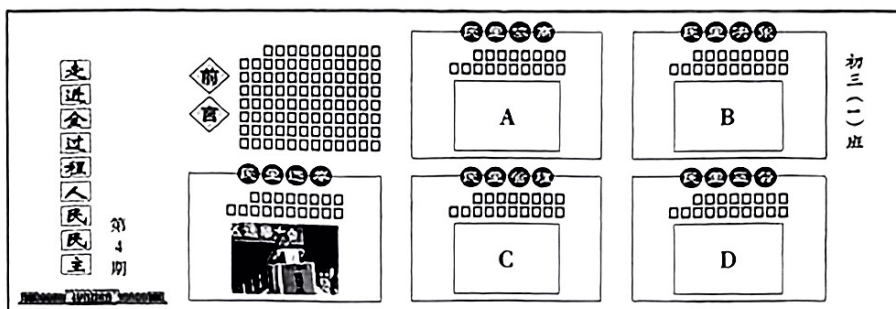
其中属于维护国家“非传统安全”的是 (A)

A. 海关查扣了李女士从境外购买回国的水果
B. 小王同学旅游途中及时制止了游客拍摄军车的行为
C. 杜叔叔身为国防哨所民兵, 十年如一日戍守边疆
D. 何大伯在某军事基地工作, 从不向他人透露自己的工作细节

8. 校团委组织“三晋文化研学行”主题活动, 同学们围绕该主题设计出如下四条研学线路, 其中反映抗战时期“太行精神”的是 (C)

A. 线路 1: 云冈石窟——五台山——平遥古城
B. 线路 2: 广灵(剪纸)——孝义(皮影戏)——新绛(绛州鼓乐)
C. 线路 3: 平型关大捷纪念馆——百团大战纪念馆——八路军总部纪念馆
D. 线路 4: 红军东征纪念馆——晋绥革命根据地纪念馆——刘胡兰纪念馆

9. 全过程人民民主其实离我们并不遥远, 反映在社会政治生活的方方面面。某校初三(1)班正在创办一期相关主题板报, 右图是板报组同学准备使用的一张图片。请你帮他们把该图片放到板报的相应位置。 (D)



10. 道德与法治学科李老师坚持多年组织学生进行课前“时政新闻播报”, 为学生打开了一扇了解时政、纵览天下的窗口。下面是一位同学播报的内容:

新闻

2023 年 5 月 24 日上午, 一列由 50 节车厢组成, 满载汽车配件、制造机械等商品的中欧(中亚)班列从山西侯马驶出, 开往中亚国家。这是山西南部首开至中亚国家的中欧(中亚)班列, 内陆省份山西与中亚各国的经贸合作往来持续深化。

上述新闻反映的主题是 (A)

A. 经济全球化 B. 世界多极化 C. 文化多样性 D. 信息社会化

第 II 卷 非选择题（共 55 分）

二、简答题（本大题共 4 个小题，共 24 分）

11. 我该怎么办？

省城某校“阳光心理驿站”是一个经过专业心理学培训的学生社团，是同学们诉说心事、排解烦恼的温馨家园。

在该社团开放日活动时，小晋同学和小阳同学来社团倾诉了他们各自的烦恼：

小 晋

上了初中，其他男生都变声了，我却没有任何变化；别人的脸光洁帅气，我的脸却被讨厌的痘痘“占领”。现在我是又急又烦。

小 阳

考试时同桌让我给他递纸条，我拒绝了，结果这段时间他一直不理我。我几次主动找他沟通，也无济于事，我很郁闷。

假如你是该社团成员，请从以上两位同学中选择一位，为他排解烦恼。（4分）

答：小晋同学，你好！其实你不必烦恼。受遗传等因素影响，我们身体发育情况各不相同，有的快，有的慢；长青春痘和变声也是青春期正常的生理变化。因此，你要正视身体的这种变化。

或：小阳同学，你好！你可以尝试用改变认知评价的方法调控情绪。同桌的要求是不诚信的，你应该拒绝，友谊不能没有原则；既然自己是正确的，就不必因对方的不理解而郁闷。

12.

央视《面对面》太钢专访

2023年4月30日，中国宝武太钢集团手撕钢研发团队负责人接受央视《面对面》记者专访。以下是本次专访的内容摘要：

手撕钢是一种高科技的不锈钢产品，别看比纸还薄，但却用途广泛，尤其在军事航天领域，作用极其重要。多年来，这种产品一直为德国、日本所垄断，进口时不仅价格高得离谱，而且会受到种种严苛限制，这事实上是对中国制造业的一种“卡脖子”行为。

近十年来，太钢人敢想敢干，经过711次失败，终于在2020年生产出比德、日两国产品还要薄的手撕钢，成为该领域当之无愧的世界第一。

阅读上述摘要，运用相关的国情知识谈谈你的感悟。（6分）

答：我的感悟主要有两点：第一，创新是民族进步之魂，在当今激烈的国际竞争中，唯创新者强，越是核心技术，越要掌握在自己手里，这样才能摆脱被人卡脖子的被动局面；的确，手撕钢很薄，但它带给我们的思考很厚。第二，“近十年”“711次失败”说明，创新不可能一蹴而就，需要年复一年的积累，需要团队的合作，需要克服困难的坚强意志。手撕钢的成功研发，为我国企业如何科技创新树立了一个典范。

13.

“中国式浪漫”

“中国载人航天工程标识”（见右图）一经国家知识产权局发布，立刻好评如潮：设计得太妙了，不仅形似空间站外形，而且蕴含着“满满的中国式浪漫”。

根据图文信息，回答下列问题：（8分）

（1）请从传统文化的角度，解读标识里的“中国式浪漫”。（4分）

答：标识图案是汉字“中”字的变形，体现出中国汉字的结构之美，“中”字又是“中国”的“中”，简明的表达里饱含中国自信。遒劲有力的竖笔既充满中国书法艺术的韵味，又让人感受到豪气冲天，笔触中展现了中华优秀传统文化的魅力。




- (2) 随着神舟十六号载人飞船成功发射,该标识再次进入人们的视野。某服装厂老板很快把它印在一批文化衫上进行出售,受到了当地相关部门的处罚。

请你简要分析该服装厂老板受到处罚的原因。(4分)

答: 服装厂老板的行为是错误的,不被法律所许可。该标识经国家知识产权局发布,就表明它的创新设计作为一种知识产权,受到国家法律保护。服装厂老板擅自把该标识用在自己的商品上,侵犯了该标识所有者的知识产权,是一种违法行为。

14.

数字背后有深意

材料一	材料二
<p>2023年</p> <p>政府工作报告提出 → 我国粮食产量保持在 1.3万亿斤以上</p> <p>我国以占世界9%的耕地,养活了世界近1/5的人口,有力地回答了“谁来养活中国”的问题,这无疑是一项了不起的成就。</p>	<p>多年来,我国一直将粮食问题作为工作重点:每年中央都会出台“一号文件”指导“三农”工作;国家高度重视生物育种研发……</p> 

阅读以上材料,回答下列问题:(6分)

- (1) 我国在客观条件不占优势的背景下,能很好地解决粮食问题;这项了不起的成就背后的主要原因,除材料二中已陈述的两点外,请你再写出两点。(4分)

答: ①党的坚强领导(实施“党政同责”)及社会主义制度的优越性。

②我国多年来坚决守住18亿亩耕地红线。

③重视农业科技,水稻等农作物亩产不断提升等。

④多年来我国采取了一系列适应农村实际的政策和措施,如:流转土地,提高种粮补贴等;包括今年两会国务院机构改革优化农业农村部职责,推动乡村振兴战略的进一步实施。

- (2) 请为材料二中的宣传画加一个标题。(2分)

示例: 中国人的饭碗端牢在自己手里(“粮食安全常记在心”等符合题意的答案也可)

三、分析说明题(共13分)

15.

小华同学的寒假生活

今年寒假,学校布置了一项社会实践作业,作业内容和形式由学生自己决定。进入假期,小华开始着手完成这项作业:他用自己平时积攒的零用钱,精心挑选了一些文创小商品,再到离家不远的景区门口出售。小商品的新颖有趣,再加上他自编的“说唱”式叫卖,吸引了不少游客前来购买。挣得的钱,小华不仅给自己买了学习用品,还为本班图书角添置了一些课外书籍。小华的做法受到老师的表扬。

根据上述材料,请你回答下列问题:

- (1) 老师为什么会表扬小华?(7分)

答: 因为小华有许多值得我们学习的地方:首先,到景区售卖小商品,是一种亲社会行为,有助于了解社会,丰富自己的阅历。其次,要成功销售,就要有计划、想办法,用零用钱做资金,通过说唱促销等,已经显示出小华具有突出的综合解决实际问题的能力,以及难得的金融意识。第三,在这个过程中,他的意志品质等自然得到锻炼,这是课堂上学不到的;所以说,学习不仅局限在学校,生活本身就是大课堂,他是在以另一种方式体验、感悟和学习,所谓“做中学”。第四,更难得的是,“为本班添置课外书籍”,足以说明他极富爱心,关心集体,有责任意识;同时,“为自己购买学习用品”,实际就是一种自立自强的表现,也是在体谅父母,有利于促进家庭和谐。

这应该是老师表扬小华的原因所在。

(2) 小华无意中发现, 自己“说唱”叫卖的照片被制作成搞笑表情包放在了网上。

①小华的什么权利受到了侵害? (2分)

答: 小华的肖像权受到侵害。

②他应该如何依法维权? (4分)

答: 找到发布自己表情包的人, 表明自己的肖像权受到侵犯; 并首先通过和解的方式, 要求对方立刻撤销表情包等; 如果不行, 再考虑通过调解直至诉讼等途径进行合理维权。

四、实践探究题 (共 18 分)

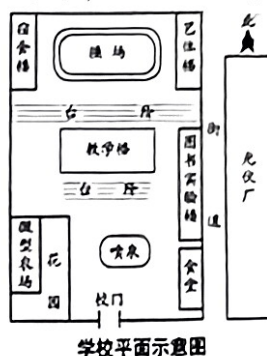
16.

校园节能新举措

山西某初中是当地一所规模较大的学校, 依山而建, 北高南低。多年来, 该校注重节约意识的培养, 师生随手关灯、节约用水等低碳生活方式已经蔚然成风。去年 11 月, 该校启动项目式学习, 初三(6)班道德与法治学科确定的项目如下:

任务: 开展我校低碳节能现状的深度调研; 在此基础上, 制定一份相关创新方案。

要求: 全班分 6 个组各自完成; 半个月后进行展示评估, 优胜方案将向学校推荐。



假如你被确定为该班第一组组长, 请带领同伴共同完成下列任务。

阶段一 任务分工 全员参与

小夏, 来我们组吧!



(1) 老师布置任务、提出要求后, 同学们开始通过自由组合和组长选择相结合的方式分组。小夏平时性格内向, 很少与同学交流, 此时表现得有些不知所措。

见此情景, 你准备邀请小夏入组, 请向组员说明理由。(4分)

答: 小夏同学这时一定感到很孤单, 现在最渴望的是有小组能接纳他。我们及时邀请他入组, 不仅是友情和关爱的体现; 更重要的是, 我们对他的认可和接纳, 可以给他集体的归属感。而且, 项目式学习强调小组合作是有用意的, 每个人都有自己的优点, 我们何不扬长避短、优势互补、共同进步? 在这个过程中, 我们与人交往的能力也会得到锻炼。

阶段二 合作探究 寻找突破

我们想出“金点子”了!



(2) 具体实施开始: 调查走访、实地考察、交流探讨……大家很快进入各自角色。

调查 1	全校所有楼内、室内照明灯及路灯共 800 余盏, 每年实际耗能支出是一笔不小的费用。
调查 2	学校地处水资源缺乏地区, 师生用水较为紧张, 校园绿化及农场浇灌等又主要依靠自来水; 与此同时, 夏季大量的雨水却白白流走。

根据以上调查情况, 结合学校具体实际, 请你们组从节水或节电的角度, 为学校提一个有创意的金点子。(4分)

节水建议示例一: 在教学楼西修建一个蓄水池, 利用学校落差地势, 安装管道等设施将宿舍楼、艺体楼的中水和操场雨水引入储存, 可利用落差自动流入喷泉池, 减少喷泉大量使用自来水。

节水建议示例二: 在学校南部最低处挖掘修建一个蓄水池, 利用学校北高南低的落差地势, 收集全校的雨水, 用于微型农场及校园绿化的浇灌等。

节电建议示例: 与紧邻学校的光伏厂联系合作, 在学校所有楼顶加装太阳能光伏板, 路灯全部替换成光伏发电, 为学校提供清洁能源, 减少电费支出。