

宁德培文学校中考第三次模拟测试

历史

(考试时间: 60 分钟; 满分: 100 分)

注意事项:

1. 答题前, 考生务必在试卷、答题卡规定位置填写本人准考证号、姓名等信息。考生要认真核对答题卡上粘贴的条形码的“准考证号、姓名”与考生本人准考证号、姓名是否一致。
2. 回答选择题时, 选出每小题答案后, 用 2B 铅笔把答题卡上对应题目的答案标号涂黑。如需改动, 用橡皮擦干净后, 再选涂其他答案标号。回答非选择题时, 用 0.5 毫米黑色墨水签字笔将答案写在答题卡相应位置上。
3. 考试结束后, 将本试卷和答题卡一并交回。

一、选择题: 共 26 小题, 每小题 2 分, 共 52 分。在每小题给出的四个选项中, 只有一项是符合题目要求的。

1. 良渚古城遗址属于新石器时代晚期的考古学文化, 分布于长江下游一带, 共发现了 136 个遗址。它是人类文明发展史上具有杰出代表性的东亚地区史前大型聚落遗址, 被誉为“中华第一城”。据此可知
A. 良渚文化早于河姆渡文化
B. 中华文明起源早于其他文明
C. 良渚文化对世界影响巨大
D. 中华文明光辉灿烂源远流长
2. 图 1、图 2 是小明同学为开展研究性学习收集的邮票。据此判断他研究的主题是



图 1



图 2

- A. 农耕生活
 - B. 分封制度
 - C. 甲骨文字
 - D. 青铜文明
3. 秦统一后国土辽阔, 实行郡县制管理地方, 最初设 36 郡, 后增至 41 郡。郡下设县, 少数民族地区的县行政单位称为“道”。这一举措
A. 强化了君主专制
B. 实现了国家统一
C. 体现了制度创新
D. 抵御了匈奴入侵
 4. 胡床携带方便, 用毕可合可挂, 颇受欢迎。魏晋南北朝时期, 胡床逐渐普及, 使用范围相当广泛, 几乎在社会生活的各种场合都可以寻到它的踪影。这主要得益于
A. 民族交融的加强
B. 北方政权的统一
C. 政权并立的影响
D. 江南地区的开发

5. 中国书法将独特的意蕴、情趣、结构、视觉等艺术审美深藏其中。下列作品以“行书”书法形式呈现的是



图3 钟繇《宣示表》 (拓片)

A.



图4 王献之《中秋帖》

B.



图5 王羲之《兰亭集序》 (摹本·局部)

C.



图6 颜真卿《颜氏家庙碑》 (局部)

D.

6. 唐朝时,象征外交活动的鸵鸟雕塑所描摹的动物来自中亚;长安居民喜好的忍冬纹镜和海马葡萄镜是典型的西域风格图案;流行于长安宫廷和贵族住宅的引水上层建筑艺术来自拜占庭。这反映了唐朝文化的

- A. 昂扬进取 B. 形式多样 C. 平易通俗 D. 兼容并包

7. 明清科举考试从“四书”“五经”取题,内容必须用古人的语气,不能自由发挥,句子的长短、字的繁简、声调的高低都相对成文,并限字数。这实质上

- A. 巩固了文学的地位 B. 禁锢人民的思想
C. 保障了社会的稳定 D. 促进科举制发展

8. 图 7 所示内容共同反映的主题是

- A. 西北边疆治理体系的不断完善
B. 清朝前期经济的恢复发展
C. 统一多民族国家的巩固与发展
D. 清朝君主专制统治的强化

- 郑成功收复台湾和清朝在台湾的建制
- 清朝对西藏地方的有效管辖
- 巩固西北边疆
- 雅克萨之战

图 7

9. 图 8 所示的诗句充分反映了林则徐

- A. 反抗侵略的爱国情怀
B. 廉洁奉公的工作作风
C. 民族独立的理想夙愿
D. 实现共和的远大抱负

《七绝》

虎门一怒令销烟，切恨西夷掠海沿。
挥笔如风惊案动，长空万里舞云笺。

图 8

10. 洋务运动期间设立的军事学堂,多仿照外国同类学校设置课程,聘用外籍教员,开设体操课。军事学堂及课程的设置是为了

- A. 强兵救国 B. 变法图强 C. 革新教育 D. 强身健体

11. 图 9 所示为小史同学学习了《中国共产党诞生》一课后设计的知识结构图。该图说明了

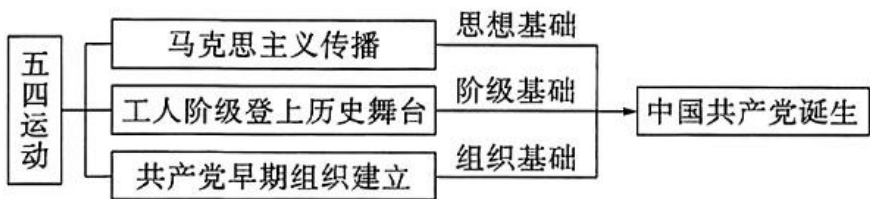


图 9

- A. 马克思主义在中国传播的原因
B. 五四运动的过程及意义
C. 工人阶级登上历史舞台的过程
D. 中国共产党诞生的条件
12. 朱德曾写下“革命雄狮会井冈,集中力量更坚强。红军领导提高后,五破围攻固战场”的诗篇。这首诗描写的是
A. 武装起义的开端 B. 革命重心的转移 C. 革命力量的壮大 D. 古田会议的成效
13. 某电影中出现了这样一个场景:“在上甘岭战役夺取某高地的战斗中,他挺身而出,主动要求担任爆破作战任务。在同行战友相继牺牲、弹药用尽、自己身体多处受伤情况下,他奋不顾身地用胸膛堵住敌人的机枪射口”。电影描述的人物是
A. 黄继光 B. 邱少云 C. 罗盛教 D. 杨根思
14. 1951年至1953年,与中国建立外交关系的只有1个国家;1953年到1959年,与中国建立外交关系的国家达14个。促使这一变化出现的直接原因是我国
A. 推行独立自主外交政策 B. 提出和平共处五项原则
C. 恢复在联合国合法席位 D. 制定互利共赢外交战略

15. 关于图7所示战役的影响正确的是

- A. 为解放长江以南的各省奠基
B. 使人民解放军转入战略进攻
C. 基本消灭了国民党军队主力
D. 结束了国民党在大陆的统治

16. 《剑桥中华人民共和国史(1949-1965)》中称:“中华人民共和国的朝鲜‘冒险’付出的代价确实很高,但……带来的益处却超过了代价”。材料中的“益处”是指中国

- A. 抗日战争获得了胜利
B. 大陆获得了完全统一
C. 走上了社会主义道路
D. 大大提高了国际地位



图7

17. “文艺复兴并不简单地是古典的文学、艺术的复活,而是新的学术的创建,也就是说它不只包括了‘再生’,而且还包含着‘新生’。”该叙述意在说明文艺复兴是
A. 对希腊罗马文化的继承 B. 推动社会发展的根源
C. 对宗教神学思想的批判 D. 资产阶级新文化运动
18. 图10是小历同学学习《探寻新航路》一课后绘制的简图。该简图可用来说明

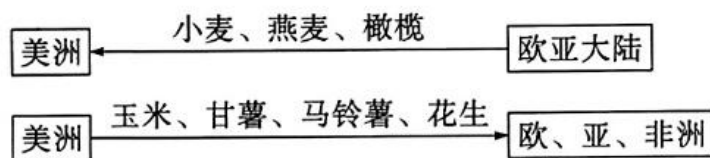


图10

- A. 全球的物种交流 B. 罪恶的“三角贸易”
C. 世界的人口迁徙 D. 美欧的习俗互通
19. 英国“光荣革命”后,奠定了国王统而不治的宪政基础,国家权力由君主逐渐转移到议会。这表明英国确立的政治体制是
A. 中央集权 B. 王权独尊
C. 民主共和 D. 君主立宪

20. 表 1 所示内容为美国在不同时期颁布的法律文件条文节选,它们的共同作用是

1787 年美国宪法	《解放黑人奴隶宣言》
行政、司法、立法三权分立,相互制衡;联邦政府与地方政府分享权力;总统和议员由选举产生	从 1863 年元旦起,南方叛乱地区的奴隶永远获得自由,并可以以自由人的身份加入北方军队

表 1

- A. 实现了国家独立
B. 推动了资本主义制度的完善
C. 有利于殖民扩张
D. 解决了资本主义劳动力问题
21. “和英国革命比较起来,法国革命又显得更经典一些,因为它对封建因素的革除最为彻底。实际上,唯有法国革命才真正实现了对封建社会的革命性改造。因而,唯有法国革命才能算得上真正意义上的革命。”这个叙述侧重表达法国大革命

- A. 彻底摧毁了君主统治
B. 传播了自由民主思想
C. 推行了雅各宾派专政
D. 激励了拉美独立运动

22. 图 8 是关于早期资产阶级革命示意图,下列理解正确的是

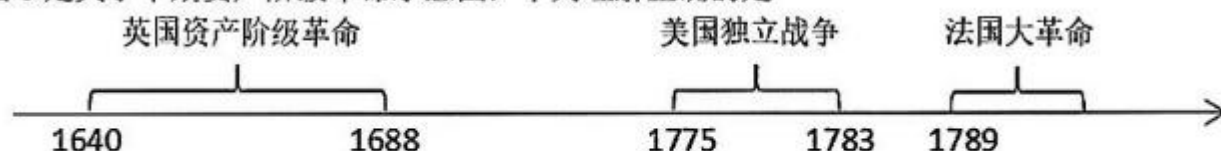


图 8

- A. 资产阶级革命始于 16 世纪的英国
B. 各国革命因国情不同而各具特色
C. 法国大革命影响了美国独立战争
D. 资产阶级革命都消除了封建残余
23. 图 12 反映了 1872 年日本第一条铁路“京滨铁路”通车的场景。这一场景的出现得益于日本明治维新

- A. 进行地税改革
B. 推行“殖产兴业”
C. 提倡“文明开化”
D. 建立新式军队



图 12 京滨铁路通车

24. 俄国十月革命的发生及其后的社会主义实践,对曾经是殖民地和半殖民地的国家产生了巨大的吸引力,“走俄国人的路”曾经被一些落后国家的革命者和革命政党看作争取民族解放、追求非资本主义发展方向的有效路径。由此可见,十月革命

- A. 实现社会主义从理论到实践转变
B. 保证了俄国人民的利益和地位
C. 促使了世界殖民体系的最终瓦解
D. 加速了亚非拉民族解放运动兴起

25. 美国政府在战后用看得见的手对基础设施、公共事业和军事工业、航天工业进行了大量投资。到 1979 年底,美国政府所拥有的固定资本净值达到 7 939 亿美元,其中,基础设施、公共事业投资达 5 182 亿美元,占比 65%。这反映了

- A. 国家干预政策的深远影响
B. 第三次科技革命的重要作用
C. 美国经济军事的快速发展
D. 世界贸易组织发挥积极作用

26. 表 2 是某历史公众号最新一期历史研究性学习推文的内容。据此推断,该期推送的历史学习专题是

- A. 世界多极化的趋势
- B. 两极格局的对峙
- C. 经济全球化的发展
- D. 战后世界的变化

档案	《解密美苏冷战》
地图	《欧洲共同体成员国示意图》
电影	《苏联解体：历史的悲剧》
论文	《亚非拉独立的民族国家体系的形成》

表 2

二、非选择题:共 4 题,共 48 分。第 27 题 8 分,第 28 题 14 分,第 29 题 14 分,第 30 题 12 分。

27. 阅读材料,完成下列要求。(8 分)

材料 第二次工业革命后,欧美资本主义迅速发展,工业生产取得了巨大飞跃。1870—1900 年间,世界工业总产值增长了 2 倍多,交通运输业获得了空前的发展,特别是美国、德国获得空前发展。可是,1914 年 6 月 28 日,萨拉热窝发出了一声枪响。在这枪声中,那个我们曾经在其中受教育、成长和栖身的充满安全感和创造理性的世界,正如一只空陶罐一样,被击得碎成千片。

——摘编自斯蒂芬·茨威格《昨日的世界：一个欧洲人的回忆》

(1) 根据材料并结合所学知识,指出在第二次工业革命中走在前列的两个国家的名称。(2 分)

(2) 小历同学认为,“第二次工业革命加剧了资本主义国家之间的矛盾,社会形势异常紧张,引发了第一次世界大战”。你是否同意小历的观点? 根据材料并结合所学知识,简要说明理由。(6 分)

28. 阅读材料,完成下列要求。(14 分)

材料一

表 3

人物	著作	主要内容	评价
林则徐	《四洲志》	翻译或编译了外国书报,介绍世界情况	“开眼开世界”第一人
魏源	《海国图志》	提出“师夷长技以制夷”	“中国士大夫之稍有世界地理知识,实自此始”

——据张海鹏主编《中国近代史》编制

材料二 1919年5月4日由北京开始的学生爱国运动，迅速得到全国主要城市学生的响应。而当北洋军阀政府逮捕爱国学生，进一步激怒了全国人民。工人阶级挺身而出，举行大罢工；商人也纷纷

行动起来，举行罢市。商人店铺门前悬挂着“为国家，今罢市，救学生，除国贼”等标语。工人、学生、商人联合起来同国内外敌人斗争，这在中国革命史上是第一次，它表明中国人民的觉悟和组织程度有了迅速的提高。

——摘编自张岂之主编《中国历史》

材料三

表4 三大战役人民支援前线统计

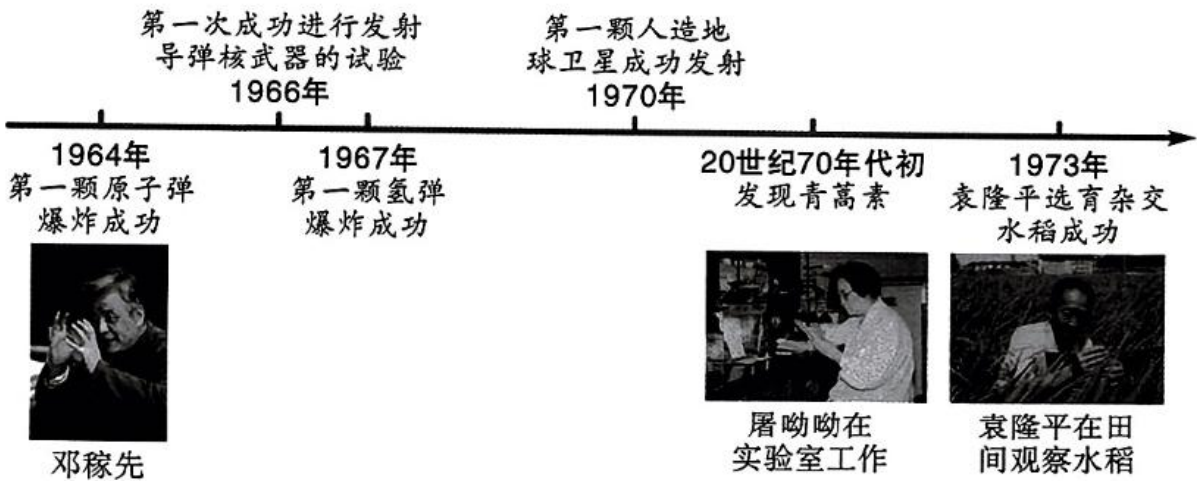
项目 战役	民工（ 万人）	担架 （副）	小车 （辆）	大车 （辆）	牲畜 （头）	船只 （只）	粮食 （万千克）
辽沈战役	160	13800		6750	30000		3500
淮海战役	225	73900	410900	3070	6300	13600	28500
平津战役	154	20000	20000	380000	1000000		15500家

——据白寿彝《中国通史》等编制

- (1) 根据材料一，简述以林则徐、魏源为代表的有识之士觉醒的主要表现及直接原因。(4分)
- (2) 根据材料二，归纳五四运动中的斗争力量，并概括五四运动的特点。(6分)
- (3) 根据材料三，说明人民支援前线人数最多的战役名称；结合所学知识，分析三大战役人民支援前线的意义。(3分)

29. 阅读材料,完成下列要求。(14分)

材料一



新中国成立后,党和政府就认识到科学技术的重要性,1949年11月1日成立了中国科学院,并相继成立各省、市及自治区的科研机构。1956年,毛泽东发出“向科学进军”的号召,国务院调集有关专家学者共同起草制定了《1956—1967年全国科学技术发展远景规划》。

——摘编自范子谦《新中国成立70年来科技事业的发展》

材料二 中国的改革开放是世界现代化和全球化进程的一部分。所谓现代化,就是工业化、科学化的进程。这一进程带来了经济和技术的长足发展。所谓全球化,就是“世界范围内的社会关系的强化,这种关系以这样一种方式将彼此相距遥远的地域连接起来”。现代化和全球化都体现了一种“进步”的观念,而在此之前的农业社会,人们更安于现状、不求改进。现代化和全球化对中国社会构成全方位的冲击。

——摘编自毕竞悦《中国四十年社会变迁 1978—2018》

(1)根据材料一,概括在社会主义探索时期我国科技发展的特点,并分析取得这些成就的原因。(8分)

(2)根据材料二并结合所学知识,从“现代化”和“全球化”任选一个角度,说明中国的改革开放是如何融入“世界现代化和全球化进程”的。(4分)

(3)根据材料一、二,提炼一个主题。(2分)

30. 阅读材料,完成下列要求。(12 分)

表 5 20 世纪世界历史大事年表(部分)

年份	历史事件
1919	巴黎和会召开
1928	苏联第一个五年计划开始实行
1933	罗斯福实行新政
1942	《联合国家宣言》签署
1961	不结盟运动正式形成
1972	尼克松访华
1992	中共十四大召开

——摘编自李楠《世界通史》

从表 5 中选取两个历史事件,围绕所选事件确定一个观点,并结合所选事件和世界现代史的一个史实加以论述。(12 分。要求:围绕主题,观点明确,史论结合,逻辑清晰)