

## 道德与法治、历史

(满分 120 分, 考试时间 120 分钟)

## 注意事项:

1. 答题前, 考生务必将姓名、准考证号填写在试卷和答题卡上。
2. 考生作答时, 请在答题卡上作答(答题注意事项见答题卡), 在本试卷、草稿纸上作答无效。
3. 考试结束后, 将本试卷和答题卡一并交回。

## 道德与法治部分

一、单项选择题(本大题共 15 小题, 每小题 2 分, 共 30 分。在每小题列出的四个备选项中, 只有一项符合题目要求, 错选、多选或未选均不得分。)

1. “志合者, 不以山海为远; 道乖者, 不以咫尺为近。”这告诉我们真正的朋友应该  
A. 相互竞争      B. 志同道合      C. 互相影响      D. 形影不离
2. 小丽期末考试没考好, 心情沮丧, 无心学习。为此, 她主动向老师倾诉, 得到了老师的帮助和鼓励, 从而重拾信心, 学习劲头更足。这启示我们  
A. 要善于掩饰负面情绪      B. 必须杜绝青春期的情绪波动  
C. 要学会合理调节情绪      D. 依靠老师才能解决情绪问题
3. 下列对个别初中生的行为点评正确的是

序号	行为	点评
①	家里来客人时, 热情招待	做到以礼待人
②	在阅览室与同学大声交谈	自觉遵守规则
③	同学请教问题时, 耐心解答不嘲笑	懂得尊重他人
④	上学迟到时, 在考勤登记本上故意写错班级	维护集体荣誉

- A. ①②      B. ①③      C. ②④      D. ③④

2023 年 5 月 15 日, 全国妇联揭晓本年度全国“最美家庭”, 介绍了“用诚信播种, 助力粮食增产丰收”“筑路兴国, 祖孙三代风雨同舟初心不改”等最美家庭的先进事迹。这有利于

- A. 弘扬社会主义核心价值观      B. 保障每个家庭的和谐友爱  
C. 提升公民的科学文化素养      D. 促进全民道德水平迅速提高

普通钳工可以成长为大国工匠、刮腻子可以“刮”出世界冠军……奋斗在各行各业的一线劳动者用执着的钻研、精湛的技艺、一丝不苟的态度, 生动展现了技能之光、劳动之美。这表明

- ①一线劳动者都能够创造奇迹      ②劳动者是值得我们尊重和学习的  
③掌握劳动技能必定走向成功      ④平凡岗位上也可以铸就闪光人生

- A. ①②      B. ①③      C. ②④      D. ③④



6. 据新华社 2023 年 4 月 22 日报道：为牟取经济利益，陆某某等人盗割楠木板料出售，导致有 2600 年树龄的“古楠木王”严重受伤，7 株国家二级重点保护植物死亡，最终被依法追究刑事责任。该案例说明

- ①公民违反法定义务必须担责                      ②牟取经济利益需要承担刑事责任  
③伤害树木的行为都是犯罪行为                  ④公民应该爱护国家重点保护植物  
A. ①②                      B. ①④                      C. ②③                      D. ③④

7. 现行宪法公布施行四十年来，我国采取一系列有力措施弘扬宪法精神、维护宪法权威、推动宪法实施、加强宪法监督。这是因为宪法

- ①是国家的根本法                      ②是治国安邦的总章程  
③是所有法律的总和                      ④规定了国家生活中的全部问题  
A. ①②                      B. ①③                      C. ②④                      D. ③④

8. 2023 年 3 月 13 日，新修正的《中华人民共和国立法法》正式发布。在此次立法法修改过程中，全国人民代表大会常务委员会两次审议，两次向党中央请示报告，两次向社会公开征求意见。这些信息表明

- A. 全国人民代表大会常务委员会依法行使监督权  
B. 全国人民代表大会常务委员会是我国的最高行政机关  
C. 向社会公开征求意见保障了公民依法行使国家立法权  
D. 我国坚持党的领导、人民当家作主、依法治国有机统一

9. 右图启示我们

- ①必须履行维护国家安全的法定义务  
②要树立国家安全利益高于一切的观念  
③要积极同危害国家安全的行作斗争  
④维护国家安全是我国现阶段的中心工作

- A. ①②③                      B. ①②④  
C. ①③④                      D. ②③④



10. “100-1=0”——“一个错案的负面影响足以摧毁九十九个公正裁判积累起来的良好形象。执法司法中万分之一的失误，对当事人就是百分之百的伤害。”习近平总书记的以上论述告诉我们

- A. 法治建设的目标是追求绝对平等                      B. 执法机关应该维护公民的所有利益  
C. 公平正义是法治社会的核心价值                      D. 维护良好形象是司法机关的基本职权

11. 广西某村召开“百家议事”乡村建设谋划会，现场村民畅所欲言，就建设垃圾中转站、灯光篮球场、图书室等事宜展开了热烈讨论。这表明该村村民

- A. 积极参与民主生活                      B. 主动参与民主选举  
C. 自觉参与民主监督                      D. 直接管理国家事务

12. 以下选项中，符合事物发展内在逻辑的是

- ①应对人口老龄化加剧→控制人口数量→推进中国式现代化  
②完善社会主义市场经济体制→激发市场主体活力→促进生产力发展  
③深化国有企业改革→巩固公有制主体地位→发挥社会主义制度优越性  
④全面建成小康社会→社会主义初级阶段的基本国情彻底改变→提升综合国力

- A. ①②                      B. ①④                      C. ②③                      D. ③④



13. 作为全国民族团结进步示范区,广西连续6年举办“壮族三月三·八桂嘉年华”活动,常态化开展“民族团结进步宣传月”教育活动。这有利于
- ①铸牢中华民族共同体意识                      ②保障广西各族人民在各领域享有相同的权利
- ③消除各民族间的文化差异                      ④坚持民族平等、民族团结和各民族共同繁荣
- A. ①③                      B. ①④                      C. ②③                      D. ②④
14. “买全球,卖全球”——210万种来自世界各地的商品在“世界超市”中国义乌汇聚,又从这里销往全球230多个国家和地区。从中可以看出
- A. 各国间的经济利益完全相同                      B. 国家间的贸易障碍已经消除
- C. 世界各国只有合作没有竞争                      D. 商品贸易在全球范围内进行
15. 2023年是习近平主席提出构建人类命运共同体重大理念十周年。十年来,中国相继提出全球发展倡议、全球安全倡议、全球文明倡议,为应对世界之变、时代之变、历史之变提供了中国方案、贡献了中国智慧。这体现了中国
- A. 是国际秩序的唯一建设者                      B. 决定其他国家的发展方向
- C. 已成为世界上最发达国家                      D. 以勇于担当展现大国风范

## 二、非选择题(本大题共3小题,共30分。)

### 16. (8分)【悟生命意义 担社会责任】

班级围绕“学榜样人物 悟生命意义”开展主题学习,请你参与其中。

#### ◆课堂分享

“清寒枯苦飞天路,明净坚贞报国心”,2023年6月4日返回地面的神舟十五号航天员邓清明曾4次入选备份乘组,4次与飞天任务失之交臂。他曾说:“25年是一个十分漫长的过程,一次次与任务擦肩而过,有过失落,也有过泪水,但我从没有彷徨过,更没有放弃过。作为航天员,坚守飞天初心,永不停歇训练,是我的常态,更是我的姿态。”

(1)结合上述材料,说说邓清明身上有哪些优秀品质值得我们学习。(4分,至少写两种品质)

#### ◆课后实践

生命的意义不仅在于感悟,更在于践行。为此,老师布置了课后实践活动任务(右图)。

(2)请运用所学知识说明你选择该任务的理由。(4分,至少写两点理由)

#### 实践活动任务单

任务1 到养老院看望、陪伴老人。

任务2 到红色展馆或革命遗址做小讲解员。

任务3 拍摄反映家乡发展成就的微视频,并通过网络进行分享。

要求:从上述任务中任选一项开展实践活动。

### 17. (10分)【观社会热点 评法治现象】

2023年初,关于“法律明令禁止未成年人进入KTV(营业性娱乐场所)”的话题登上互联网热搜。对此,班级召开主题班会,以下是同学们的交流分享片段:



小清

春节期间,我的邻居林阿姨打算带14岁的女儿到KTV唱歌放松,到了KTV却被工作人员以“法律规定未成年人不能进入”为由婉拒。林阿姨认为该KTV的行为不合理,有家长陪同为什么也不能进。大家认为呢?

.....



我在网上看到一则消息，有记者走访了当地的KTV，发现一些KTV还是有允许未成年人进入的现象。



看来要让“禁止未成年人进入KTV”真正得到落实，需要全社会的共同努力，尤其是有关部门要……

- (1) 从法律角度说说召开该主题班会的目的。(2分)
- (2) 结合小清分享的案例，运用法律知识分别对KTV工作人员和林阿姨的言行进行评析。(6分)
- (3) 请结合小川所谈到的现象，将晓莹的分享补充完整。(2分)

### 18. (12分)【逐时代梦想 建壮美广西】

材料一 征途如虹，奋斗如歌。进入新时代，以习近平同志为核心的党中央，擘画了中国梦的蓝图。为实现中国梦，广西各族儿女继往开来，乘着党的二十大的东风，凝心聚力，踔厉笃行，奋力踏上建设壮美广西新征程。以下是《广西壮族自治区2023年政府工作报告》的实干摘要：

#### 摘要一

实施科技“尖峰”行动，力争突破80项以上关键核心技术；完善南宁教育园区、桂林高校集聚区配套设施；强化区内高校院所、职业院校与产业需求对接，促进产业链、创新链、人才链有机衔接。

#### 摘要二

健全种粮农民收益保障机制；发展特色富民产业和新型农村集体经济；加大脱贫地区扶持力度，实施重点帮扶县“组团式”帮扶，持续加强易地扶贫搬迁安置点后续扶持。

#### 摘要三

统筹山水林田湖草海湿地系统治理，落实最严格水资源管理制度，加强近岸海域污染防治；完成植树造林300万亩以上；推动西南岩溶国家公园创建；实施碳达峰十大行动。

- (1) 材料中提到的“中国梦”是什么？(2分)
- (2) 运用所学知识，分别谈谈上述实干摘要对广西奋进新征程的意义。(6分)

材料二 文化是一个民族的灵魂。建设壮美广西，必须弘扬广西优秀传统文化。为此，班级同学对身边广西山歌的传承现状开展调查，了解到如下情况：

现状	原因
很多人听过山歌，对山歌有所了解，但只有少数人真正会唱，传唱度不高；喜欢和会唱山歌的人以年长者居多，年轻人一般不太喜欢。	生活中接触山歌的机会和渠道比较少；山歌多用方言传唱，学起来比较难；有的歌词内容陈旧，曲调和形式单一，跟不上时代潮流。


- (3) 为促进广西山歌的传承，请结合以上调查情况提出两条合理化建议。(4分)



## 历史部分

三、单项选择题（本大题共 15 小题，每小题 2 分，共 30 分。在每小题列出的四个备选项中，只有一项符合题目要求，错选、多选或未选均不得分。）

19. 考古工作者在北京人遗址共发现了 6 个较完整的古人类头盖骨化石。这些化石可用于研究
- A. 人类起源      B. 农耕生活      C. 部落联盟      D. 社会制度
20. 目前已出土的商周时期的青铜器包括礼器、乐器、兵器、货币、装饰艺术品等。由此可知，该时期的青铜器
- A. 数量众多      B. 种类丰富      C. 工艺高超      D. 分布广泛
21. 秦朝将全国分为 36 郡，后增至 40 多郡，郡的行政长官称郡守；郡下设县，县的长官称县令或县长。郡县长官都由朝廷直接任免。秦朝这些举措旨在加强
- A. 文化交流      B. 地方控制      C. 思想统治      D. 经济开发
22. 唐太宗认为“为君之道，必须先存百姓”。唐朝的革新措施与这一理念吻合的是
- A. 进一步完善中央机构      B. 严格考察官吏政绩  
C. 注重文教，编修经籍      D. 减轻人民劳役负担
23. 宋朝时期，江南普遍种植双季稻或采用冬麦、晚稻轮作两熟制。这有利于
- A. 耕地面积扩大      B. 生产工具改进  
C. 粮食产量增加      D. 水利设施完善
24. 在“5·18 国际博物馆日”到来之际，志愿者小明参与了市博物馆一个展区的布展。根据下列图片推断这一展区的主题是



- A. 泽被天下的农业      B. 灿若星辰的文坛  
C. 四通八达的交通      D. 光耀千古的科技
25. 1839 年 7 月，中国严厉禁烟的消息传到英国伦敦，英国政府决定借端对中国发动侵略战争。随后，英国发动了
- A. 鸦片战争      B. 第二次鸦片战争  
C. 甲午中日战争      D. 八国联军侵华战争
26. 观察下表中学堂和学生总数变化的情况。对该变化有影响的事件是

年份	新式学堂总数（所）	新式学堂的学生总数（人）
1904	4222	92169
1909	52348	1560270

- A. 科举制度的废除      B. 中华民国的成立  
C. 五四运动的爆发      D. “双百”方针的提出

27. 在中华民族最危险的时候，一面旗帜召唤着海内外的华夏儿女，同仇敌忾，筑起了中华民族抗击日本侵略者的钢铁长城。这面旗帜是
- A. “实业救国”道路                      B. “工农武装割据”思想
- C. 抗日民族统一战线                      D. 和平建国方针
28. 自 1947 年 10 月《中国土地法大纲》公布到 1948 年底，在解放区约有 1 亿无地或少地的农民获得了土地。这有利于
- A. 北伐战争胜利进军                      B. 工农红军胜利会师
- C. 重庆谈判顺利进行                      D. 解放战争走向胜利
29. 古埃及的最高统治者法老自称是神之子。作为神灵的后代和神的化身，他享有比所有臣民都要高的权威。这说明法老
- A. 推行了种姓制度                      B. 受到希腊哲学影响
- C. 建立了幕府统治                      D. 利用神权强化王权
30. 文艺复兴时期的戏剧《罗密欧与朱丽叶》反映了爱情理想与封建伦理的冲突，赞美了青年的纯真爱情。这部戏剧的作者是
- A. 薄伽丘                      B. 但丁                      C. 莎士比亚                      D. 达·芬奇
31. 《人权宣言》提出：“法律对于所有的人，无论是施行保护或处罚都是一样的。”这体现了
- A. 平等原则                      B. 自由思想                      C. 分权主张                      D. 专制理念
32. 1929—1933 年，美国破产的银行超过 1 万家。为此，罗斯福政府
- A. 建立“福利国家”                      B. 整顿金融体系
- C. 提出“殖产兴业”                      D. 建设集体农庄
33. 2023 年 4 月 6 日，沙特和伊朗两国外长在北京成功会晤，宣布恢复外交关系。长期断交的两个中东大国在中国的斡旋下握手言和。这表明新时代中国担当了
- A. 国际经济的推动者                      B. 世界和平的维护者
- C. 全球环境的保护者                      D. 先进文化的引领者

#### 四、非选择题（本大题共 3 小题，共 30 分。）

34. (10 分) 铸牢中华民族共同体意识，既是历史的一脉相承，又是新时代的与时俱进。阅读材料，回答问题。

##### 材料一

 <p>西晋内迁少数民族分布图</p>	<p>三国魏晋南北朝时期是各民族发生大规模迁徙和融合的时期。北方的匈奴、鲜卑、羯、氐、羌等族大规模进入中原。黄河流域汉族大批南迁，与南方各族的交往十分频繁和密切。</p> <p>——摘编自邱树森等《新编中国通史》</p>
--	--

- (1) 材料一中的图片和文字信息共同反映的历史现象是\_\_\_\_\_。(①黄河流域汉族南迁；②北方游牧民族内迁。请将正确答案的序号填入空格内。1 分) 请根据材料指出这一现象的特点。(1 分)



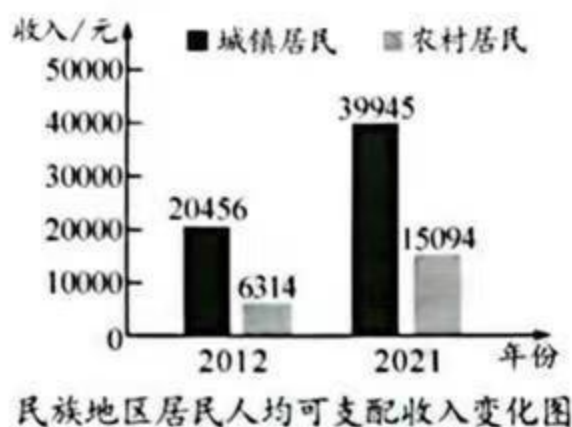
材料二 隋唐王朝扩大了中原与边疆的联系。宋、辽、金时期，内地和边疆的开发与交流进一步发展。元朝时期，中原和边疆地区发生了长达百年富有特色的大融合。及至明清，消除边疆地区的割据势力和抵御外侮，成为这一时期边政的主要内容。

——摘编自马大正《中国边疆经略史》

(2) 根据材料二，概括隋唐至明清时期统一多民族国家得以不断发展的原因。(4分)

### 材料三

党的十八大以来，通过产业扶持、易地扶贫搬迁、教育提升等扶持政策，民族地区整体面貌发生了翻天覆地的变化，少数民族和民族地区同全国一道如期打赢脱贫攻坚战。



——文字与图表均摘编自李波等《“这十年”民族地区经济社会发展成就调查研究》

(3) 根据材料三，指出党和国家为发展民族地区实施的扶持政策，(3分)并根据材料中的图表信息说明其成效。(1分)

35. (10分) 城市作为文明的载体，在人类文明的演进中不断地变化和发展。阅读材料，回答问题。

材料一 中世纪西欧城市是工商业中心。市民主要从事制造业或者商业，过着截然不同与农村居民的生活，在与封建领主的斗争中逐渐获得城市的自治权。

——摘编自周靖等《中外历史一百讲》

(1) 根据材料一，概括中世纪西欧城市的特点。(2分)

材料二 19世纪早期，泰晤士河是一个开放的下水道汇聚处，各种生活与工业污水无序排入。为改变这种情况，伦敦当局着手建立一个现代下水道系统。之后，英国历史上第一部防治河流污染的《1876年河流污染防治法》出台，这也是世界上第一部水环境保护法。

——摘编自钱乘旦《英国通史》第五卷

(2) 根据材料二，指出英国城市化进程中存在的突出问题及解决措施。(3分)

材料三 应国家的宏观策略转移，城市的发展出现新趋向。中国自1996年开始推行建设生态城市。2012年起，新一代信息技术创新也推动了智能城市发展。

——摘编自薛凤旋《中国城市文明史》

(3) 根据材料三，列举中国城市发展的新趋向。(2分)

(4) 综合上述材料并结合所学知识，归纳推动城市发展的因素。(3分)



36. (10分) 中国式现代化道路开辟了人类文明新形态。同学们围绕“中国式现代化道路”开展探究性学习。请你参与完成以下三项任务。

【任务一 文本阅读】同学们通过文本阅读，初步感知“中国式现代化道路”。

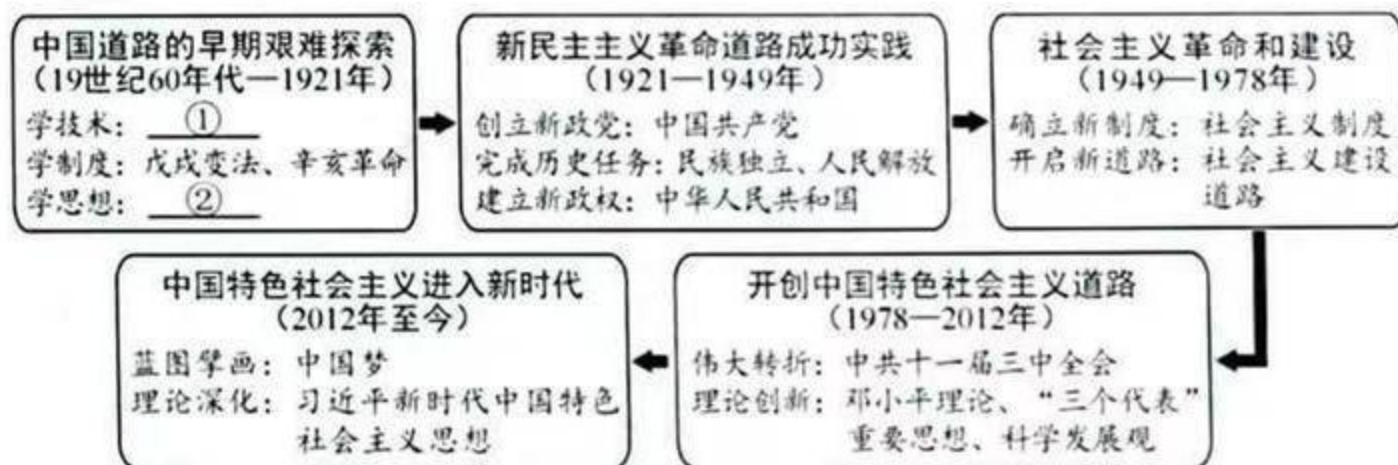
材料一 传统的现代化道路就是指由西方文明所主导的现代化发展进程，其本质就是以西方文明为内核，融合了现代工业发展的资本主义现代化发展之路。中国式现代化道路，是相对于西方现代化道路而言的，它是以中华文明为内核的现代化发展模式，同时也是在现代工业文明发展的基础之上以社会主义制度为原则和价值旨归的现代化发展新路。

——摘自王立胜《中国式现代化道路与人类文明新形态》

- (1) 根据材料一，分别指出“传统的现代化道路”与“中国式现代化道路”的文明内核。(2分)

【任务二 知识梳理】同学们在阅读的基础上梳理了近代以来中国现代化道路的探索历程。

材料二



- (2) 根据材料二并结合所学知识，在材料中的①和②处填入相应的历史事件。(2分) 请总结中国道路早期探索的共同点，并说明其受挫的原因。(2分)

【任务三 观点论证】同学们分享了关于“中国式现代化道路”的阅读笔记。

材料三

笔记一	笔记二	笔记三
中国共产党的成立，解决了中国现代化建设的领导力量问题，并提供了正确方向指引和坚强组织保障。 ——摘编自齐英艳《中国式现代化是中国共产党领导的社会主义现代化》	中国式现代化取得历史性成就雄辩地证明，这是一条符合中国实际、植根中国国情、创造人民美好生活的现代化新道路。 ——摘编自鲁保林等《坚定不移走中国式现代化道路的底气》	党领导人民开创了中国式现代化道路，我们成功找到了实现中华民族伟大复兴的正确方向和路径。 ——摘编自尤琳等《中国式现代化是实现中华民族伟大复兴的根本之路》

- (3) 请从材料三中选择一则笔记，围绕“中国式现代化道路”提炼观点，并综合上述材料加以论证。(要求：观点正确，至少列举两个史实，史论结合，逻辑清晰，有总结提升。4分)