

## 九年级历史

## 注意事项:

1. 本试卷共6页,分为选择题和非选择题,满分50分,考试时间50分钟。闭卷考试,请将答案直接书写在试卷或答题卡上。

2. 答卷前请将密封线内的项目填写清楚;使用答题卡时,认真阅读答题卡须知,并按要求去做。

题号	选择题	非选择题					总分
	1—20	21	22	23	24	25	
得分							

## 选择题(共20小题,每小题1分,20分)

得分	评卷人

下列每小题列出的四个选项中,只有一项是最符合题目要求的,请将正确选项的英文字母代号填在每小题后的括号内。

1. 用地图学习历史是一种基本的能力,如图最适合研究的历史是 ( )



A. 大河流域的文明 B. 海洋文明的发展 C. 宗教的起源 D. 丝绸之路

2. 德国历史学家雅斯贝斯曾说:“希腊城邦奠定了西方所有自由的意识、自由的思想 and 自由的现实基础。”希腊文明成就中对西方自由观念产生重大影响的是 ( )

A. 民主制度 B. 文学成就 C. 科学成就 D. 体育艺术

3. “一个拥有几个封臣的封君本人也许就是更高一级封君的封臣,而更高一级封君又以是一个更大关系网络中的封君手下的一名封臣。”这一现象出现在 ( )

A. 古代希腊 B. 古代日本 C. 中古欧洲 D. 近代俄国

4. 《西方文明的东方起源》中写道:“意大利人只是错用了指南针,它是从中国经穆斯林传到落后的欧洲的。”这里的“穆斯林”是指 ( )

A. 古印度人 B. 阿拉伯人 C. 马其顿人 D. 古罗马人

5. 下列哪些是促使西欧封建等级制度发生转变的因素? ( )

①城市兴起 ②君主专制形成 ③市民阶层崛起 ④手工工场出现

A. ①② B. ①③ C. ①②③ D. ①③④

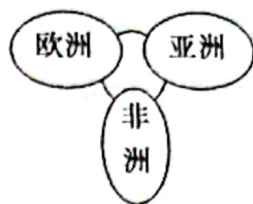
6. 从16世纪开始,种植园经济的发展改变了非洲、美洲、欧洲以及亚洲的面貌。它取代了古老的丝绸贸易,并将日渐具有活力的世界经济中心向西推向了大西洋沿岸。这表明 ( )

A. 世界经济中心的转移 B. 种植园经济是连接亚、非、欧、美的纽带  
C. 种植园经济领先世界 D. 种植园经济助推了殖民者的扩张活动



7. 如图是 14 世纪人们对世界的认识,打破这一认识的历史活动是 ( )

- A. 亚历山大东征
- B. 新航路开辟
- C. 三角贸易
- D. 郑和下西洋



该

8. 钱乘旦先生认为,英国的现代化是最符合“统一民族国家 - 建立专制王权 - 克服专制王权”这一现代化的常规途径的,也是走得最顺利的.英国在“克服专制王权”这一环节上取得突破性进展的关键一步是 ( )

- A. 处死国王,建立共和国
- B. “光荣革命”的胜利
- C. 《权利法案》的颁布
- D. 民主共和制的建立

义

“

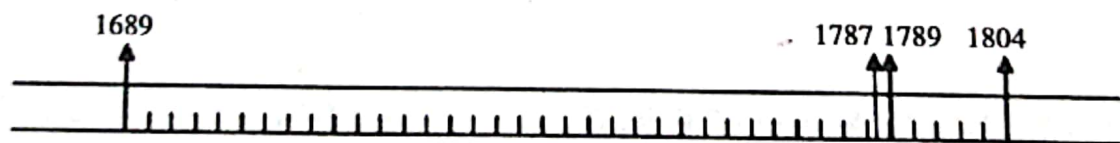
9. 《人权的发明:一部历史》一书开篇提到:“1689 年英国《权利法案》,1776 年美国《独立宣言》,1789 年法国《人权宣言》,被视为这一时期最具代表性的三份人权文献……”因为它们都 ( )

- A. 反对君主专制,倡导民主平等
- B. 对资产阶级民主政治产生了重大影响
- C. 反对殖民压迫,争取民族独立
- D. 强调私有财产神圣不可侵犯

10. 斯塔夫里阿诺斯在《全球通史》中讲道:“拿破仑在其所征服地区都在贯彻法国革命的一些基本原则,他废除封建制度和农奴制,承认所有公民的平等,实施其著名的法典。”由此可见,拿破仑对外战争的积极意义是 ( )

- A. 拓展了法国的疆域
- B. 打击了欧洲的封建势力
- C. 把法国大革命推向高潮
- D. 确立了欧洲各国资产阶级的统治

11. 对如图所示年代尺解读最全面、最准确的是 ( )



- A. 欧洲资产阶级革命
- B. 拿破仑对外战争
- C. 工业革命与殖民扩张
- D. 西方国家民主化进程

12. 一位美国学者认为:“19 世纪欧洲对世界的支配与其说是以其他任何一种手段或力量为基础,不如说是以……为基础。”下列选项属于材料中省略内容带来影响的是 ( )

- A. 珍妮机的发明
- B. 解决了大机器生产最为关键的动力问题
- C. 人类进入电力时代
- D. 资本主义制度在欧洲初步确立



13. 如图是19世纪初,一位欧洲游客在巴西描绘的葡萄牙监工凶狠鞭打种植园奴隶的情景。该图揭示了以下哪一史实的背景 ( )

- A. 拉丁美洲独立运动
- B. 俄国农奴制改革
- C. 印度民族大起义
- D. 马克思主义诞生



14. “沉重打击了英国殖民者,反映了印度民族意识的觉醒”。这段文字描述了印度民族大起义的 ( )

- A. 背景
- B. 经过
- C. 性质
- D. 影响

15. 波戈金说:“彼得大帝把俄罗斯变成欧洲的一员,并开始为它赢得尊重。”卡拉姆津则认为“我们变成了世界公民,但在某些方面却没有成为俄罗斯公民。这个过错是彼得的”。这说明 ( )

- A. 历史是可以任意解释的
- B. 后人对历史人物的评价都是不正确的
- C. 历史是绝对客观公正的
- D. 人们可以从不同角度评价历史人物

16. 1860-1890年,俄国钢产量由1250万普特增至2000万普特,煤的产量由1800万普特增至36700万普特。这些变化表明俄国 ( )

- A. 沙皇专制统治被推翻
- B. 资本主义得到发展
- C. 保留了大量封建残余
- D. 开启了近代化进程

17. 第二次工业革命促进了生产力的发展,极大地改善了人们的生活。在下列科技发明中,产生于第二次工业革命时期的有 ( )



①蒸汽轮船



②早期汽车



③电灯



④火车机车

- A. ①②
- B. ②③
- C. ③④
- D. ①④

18. “世界工业生产在1860-1890年间增加了3倍,在1860-1913年间增加了7倍。”出现材料中这种增长的根本原因是 ( )

- A. 早期殖民掠夺的积累
- B. 政治局面长期稳定
- C. 第二次工业革命的推动
- D. 人口的迅速增长

19. 英国18世纪人口死亡率明显下降,但1816年以后死亡率上升。1831-1841年,工厂集中的伯明翰每千人死亡率由14.6上升到27.2,利物浦由21上升到34.8。导致上述情况发生的重要原因是 ( )

- A. 汽车工业快速发展
- B. 城市环境污染严重
- C. 人口膨胀贫富悬殊
- D. 医疗技术水平下降

20. “进化论在科学上的影响是非常巨大和深远的。它解放了人们的思想,牢固地建立了唯物主义观点和历史发展的观点。”要进一步了解“进化论”,可阅读达尔文的 ( )

- A. 《神曲》
- B. 《人间喜剧》
- C. 《物种起源》
- D. 《自然哲学的数学原理》



# 非选择题(共5小题,30分)

得分	评卷人

21. (6分) 阅读下列材料, 看图回答问题。

材料一 他继位后, 四处征伐, 法兰克王国的版图扩展到今天的意大利北部、西班牙北部和德国西部的广大地区, 与原来西罗马帝国的欧洲部分基本相当, 成为当时西欧最大的王国。



图一



图二

材料二 (一个好皇帝) 应该不仅以武力而获得尊荣, 还必须用法律来武装, 以便在战时、平时都有法可依, 得到正确的指导; 他必须是法律的有力捍卫者, 也应是征服敌人的胜利者。他组建了一个法典编纂委员会, 著作汇编了欧洲历史上第一部系统完整的法典, 因此它不仅成为拜占庭帝国此后历代皇帝编纂法典的依据和蓝本, 而且成为欧洲各国的法律范本……该法继续承认奴隶制, 但是, 规定教、俗各属释放奴隶, 改善奴隶地位, 承认奴隶具有人的地位。

——陈志强《拜占庭帝国史》

(1) 图一人物是谁? (1分) 他去世后, 他的帝国分裂后成为哪些国家的雏形? (3分)

(2) 根据材料二, 图二人物是谁? (1分) 他在位时编成的法典统称为什么? (1分)

得分	评卷人

22. (5分) 阅读下列材料, 回答问题。

材料一 殖民制度大大地促进贸易和航运的发展。“垄断公司”是资本积累的强有力的手段。殖民地为迅速产生的工场手工业保证了销售市场, 保证了对通过市场的垄断而加速的积累。在欧洲以外直接靠掠夺、奴役和杀人越货而夺得的财宝, 源源流入宗主国, 在这里转化为资本。

材料二 英国的利物浦本是一个荒僻的小村落。奴隶贸易兴起后, 它一跃成为英国的第二大港口。18世纪下半期, 利物浦贩运的黑奴占英国奴隶贸易的5/8, 占欧洲的3/7。当地的一位作家也不得不说: “我们的港口是靠非洲奴隶贸易积累的资本建立的, 是以活人的血肉为代价奠定了我们事业的基础。”这又是英国资本主义发展的一个鲜明写照。

——马克思

(1) 欧洲殖民者的殖民扩张开始于何时? (1分)

(2) 材料一中的“宗主国”具体指哪些国家? (2分)



(3)“欧洲以外”主要指哪些地方?(1分)

(4)从材料二中的哪句话我们可以看出资本原始积累的血腥性质?(1分)

得分	评卷人

23. (8分) 阅读材料,综合运用所学知识,回答以下问题。

材料一 英国用“光荣革命”的非暴力手段建立了一种新的政治制度……新制度营造出一种宽松、自由和开放的环境……没有新的原则在17世纪的成功实施,就难以想象英国社会如何能够在18、19世纪和平地实现现代化。

材料二 马克思和恩格斯在吸收人类优秀文化成果和总结欧洲工人运动经验的基础上,共同创立了科学社会主义理论……1871年法国在历史上尽管存在了72天的政权,但它破天荒地为世人展示了一个由无产阶级领导的新型民主国家的雏形,极大地丰富了这一科学社会主义理论。

材料三 如下表:

重大历史事件	发明	影响
第二次工业革命	①	今天仍是人们最重要的空中交通工具
	②	改变了人们“日落而息”的习惯,延长了人们的工作、学习、生活时间。

(1)依据材料一,指出英国“新的政治制度”对英国社会的影响是什么?(2分)

(2)材料二中的“科学社会主义理论”诞生的标志是什么?(1分)“材料二中1871年法国存在了72天的政权”指什么事件?(1分)

(3)根据所学知识完成表格中①②内容。①\_\_\_\_\_;(1分)②\_\_\_\_\_。(1分)

(4)国家的发展需要大胆创新,上述材料分别是哪些方面的创新?(2分)

得分	评卷人

24. (6分) 十九世纪六七十年代,资本主义制度在全世界范围内确立。阅读下列材料,回答问题。

材料一 北方人看不惯南方人,南方人不服北方人……当前南北之间的矛盾不是别的,而是两种社会制度之间的斗争。这个斗争之所以爆发,是因为这两种制度不能再在北美大陆上和平共处了。

九年级历史第5页(共6页)



材料二 如果总的看一看 1861 年俄国国家全部结构的改变,那就必然会承认这种改变是封建君主制向资产阶级君主制转变道路上的一步。这不仅从经济观点来看是正确的,而且从政治观点来看也是正确的。

——列宁

材料三 过去的西洋文明史是外国人引进的,从今以后我们日本人要用自己的手将西洋文明带入国内。

(1) 分别写出以上三则材料所反映的历史事件。(3 分)

(2) 材料一、材料二反映的历史事件对两国产生了什么共同影响?(2 分)

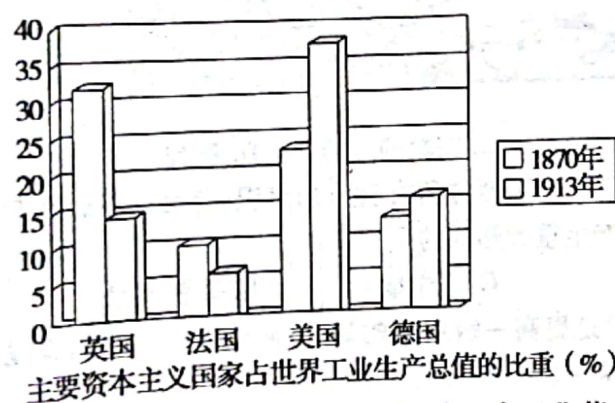
(3) 上述三国的崛起之路对我国现代化建设有什么启示?(1 分)

得分	评卷人

25. (5 分) 阅读下列材料, 回答问题。

材料一 科学的突破, 技术的创新, 新发明的涌现, 对于工业革命的形成至关重要, 第二次工业革命实际上是在第二次科技革命的直接推动下兴起的。

——王斯德《世界通史》



(1) 根据材料一及所学知识回答, 第二次工业革命开始的时间及特点各是什么?(2 分) 根据图示, 说出经过第二次工业革命哪个国家工业生产发展最快。(1 分)

材料二 科技是国之利器, 国家赖之以强, 企业赖之以赢, 人民生活赖之以好。中国要强, 中国人民生活要好, 必须有强大科技。新时期、新形势、新任务, 要求我们在科技创新方面有新理念、新设计、新战略。

——习近平在全国科技创新大会上的讲话

(2) 阅读材料二并结合所学知识, 请就科技创新与经济发展的关系谈谈你的认识。(至少写两点, 不得摘抄材料原文, 2 分)

