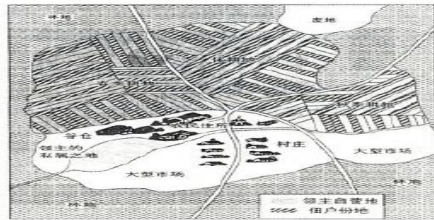


(时间 70 分钟, 满分 100 分)

7. 19 世纪初期，英国诗人威廉·华兹华斯创作了诗歌《郊游》，发出了如下的感叹。据此判断，诗人描绘的景象应该出现在（ ）



九年级历史试题 第 1 页 共 4 页



- ①为限制王权提供了法律保障 ②宣告了保护私有财产等基本原则
- ③宣告了北美的独立 ④使日本成为世界第二经济大国
- A. ②③ B. ①③ C. ③④ D. ①②

13. 19 世纪 60 年代初，棉纺织业成为世界上最重要的制造业，“美国也因棉花出口而跃入世界经济的中心舞台”。但棉花种植却与自由劳动相冲突，给这个新生国家带来了危机，导致了美国（ ）

- A. 独立战争爆发 B. 西进运动开展 C. 南北战争爆发 D. 罗斯福新政实施

14. 新冠肺炎疫情影响爆发以来，人类对生物学认识逐步深入。历史上打破千百年来“上帝创造万物”的神创论，在生物科学领域掀起伟大革命的专著是（ ）

- A. 《天工开物》 B. 《物种起源》 C. 《农政全书》 D. 《自然哲学的数学原理》

15. 下图反应的史实是（ ）



- A. 法国大革命时期的欧洲 B. 拿破仑帝国时期的欧洲
- C. 南北战争时期的美国 D. 第一次世界大战前的欧洲

16. 他们把自己的一生都献给了无产阶级解放事业，他们共同创立的学说，成为指引全世界劳动人民为实现社会主义和共产主义伟大理想而进行斗争的理论和行动指南。历史上第一次把他们的学说付诸实践并取得成功的革命是（ ）

- A. 法国大革命 B. 法国巴黎公社 C. 俄国十月革命 D. 中国的社会主义革命

17. 列宁说，新经济政策是一种用“改良主义的方法”来解决苏维埃俄国过渡时期经济发展战略任务的长期政策。这里的“改良主义”是指（ ）

- A. 照搬资本主义的经济政策 B. 强化经济建设的行政干预
- C. 消灭非社会主义经济成分 D. 强调利用多种经济和商品经济

18. 罗斯福新政实施后美国经济缓慢复苏。其中通过投资兴建大量公共设施，为失业者提供就业机会的措施是（ ）

- A. 整顿金融体系 B. 推行“以工代赈” C. 调整农业政策 D. 加强对工业的计划指导

19. 第二次世界大战中，标志着世界反法西斯同盟正式形成的是（ ）

- A. 苏军攻克柏林 B. 斯大林格勒保卫战胜利
- C. 雅尔塔会议召开 D. 《联合国家宣言》的签署

20. 战后西欧国家面临的窘迫是：在东方，来自苏联和东欧盟国的威胁日益严重；在西方，来自美国的经济渗透和政治控制不断加强。为改变“欧洲不再是欧洲人的欧洲”的状况，西欧国家作出的选择是（ ）

- A. 接受美国的经济援助 B. 加入美国主导的北约
- C. 成立欧共体联合自强 D. 成立欧盟

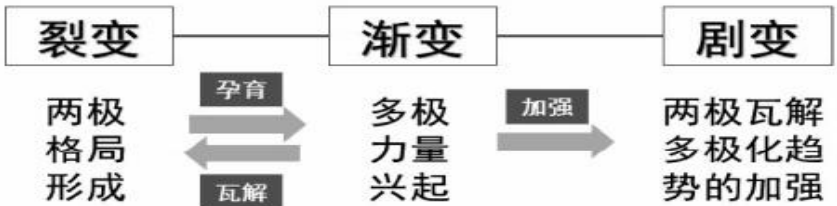
21. 第二次世界大战结束后，尽管发生了冷战和多次局部战争，但是 70 多年以来，没有发生过新的世界大战，一些局部冲突也得到政治解决。1948 年联合国维持和平行动开始实施，到 2018 年，已经进行了 71 项，完成 57 项。这些维和行动，对控制局部战争扩大、解决地区冲突发挥了有效作用。这说明联合国（ ）

- A. 促进了世界经济的增长 B. 避免了局部战争的发生
- C. 助推了两极格局的结束 D. 推动了世界和平与稳定

22. 我国加入世贸组织十年间，生产总值年均增长超过 10%，出口增长了 493%，外商直接投资 7595 亿美元，国际贸易总量增长 140%。这说明世界贸易组织（ ）

- A. 为成员国发展提供契机 B. 解决了国际贸易争端
- C. 维护了世界的持久和平 D. 重建了国际金融秩序

23. 下面是李老师在历史课堂上展示的课件。它反映出（ ）



- A. 一战前的欧洲局势 B. 一战后初期国际形势
- C. 二战前的国际关系 D. 二战后世界格局变化

24. 建设美丽家园是人类的共同梦想。面对生态环境挑战，人类是一荣俱荣、一损俱损的命运共同体，没有哪个国家能独善其身。为此，世界应该()
- A. 推进贸易自由 B. 追求携手合作应对 C. 增强军事实力 D. 提高妇女社会地位
25. 1950 年，世界人口只有约 25 亿。1987 年 7 月 11 日，世界人口突破 50 亿。2011 年，世界人口达到 70 亿。人口过快增长带来()
- A. 人均资源增多 B. 环境压力增大 C. 就业压力减小 D. 性别歧视消除

二、非选择题（26 题 16 分，27 题 16 分，28 题 18 分，共 50 分）

26. 法律文献是国家统治的有力支柱，它为国家权力提供了法律依据，有利于调节社会和经济生活中的矛盾，稳固国家统治。阅读材料，完成下列问题。（16 分）

材料一 1901 年，考古学家在伊朗的苏撒考古时发现了一个刻有“法典”的石柱，该石柱后被劫掠到巴黎的卢浮宫博物馆。这根石柱上部的浮雕，呈现的是巴比伦人的太阳神沙玛什向国王授予权杖的情景。

(1)材料一中石柱上所刻的法典名称是什么？（1 分）这部法典在历史上的地位如何？（1 分）

材料二 法律条文限制了国王的立法权、财政权、司法大权和军权。同时，它又将议会所拥有的“自由”和权力用法律的形式加以肯定。国王的权力由法律赋予，王权置于议会的法权之下。

(2)材料二中体现的是英国资产阶级革命中颁布的哪部文献？（2 分）它使英国确立了什么样的政治体制？（2 分）

材料三 我们以殖民地的善良人民的名义和权力，谨庄严地宣布并昭告：这些联合殖民地从此成为、而且名正言顺地应当成为自由独立的合众国；它们解除对于英王的一切隶属关系，而它们与大不列颠王国之间的一切政治联系亦应从此完全废止。

(3)材料三中体现的是美国独立战争中颁布的哪部文献？（2 分）它的发表标志着什么？（2 分）

材料四 这份宣言阐明了关于自由、财产和安全的基本原则——“……法律是公众的意志的表达……自由存在于做任何不损害别人的事情的权力中……”

材料五 1862 年，林肯发表宣言，宣布从 1863 年 1 月 1 日起，南方叛乱地区的奴隶永远获得自由，

- 拥有一定权利。
- (4)材料四中体现的是法国大革命中颁布的哪部文献？（2 分）材料五废除黑人奴隶制的文献是什么？（2 分）
- (5)综合上述材料，谈谈你对人类社会民主与法制发展的认识。（2 分）

27. 世界历史在曲折中发展，灾难与危机不断威胁人类的生存。阅读材料，回答问题。（16 分）

材料一 1919 年，《凡尔赛条约》签订后，法国元帅脱口而出：“这不是和平，这是二十年的休战！”

(1)材料一中《凡尔赛条约》签订后的 20 年间，世界处于什么政治格局中？（2 分）哪一事件使“二十年的休战”结束？（2 分）

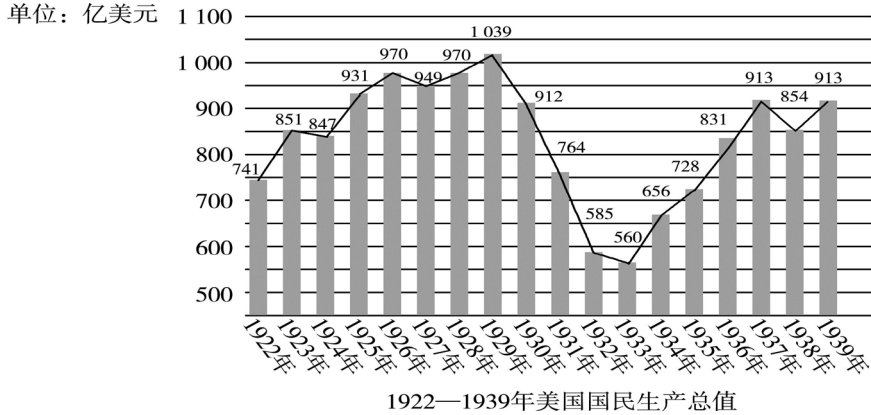
材料二 第二次世界大战是人类历史上规模最大的一次战争，在很多方面产生了深远的影响。这场战争历时六年多，遍及世界各地，损耗了大量财富，夷平了许多城市和村庄，无数生灵涂炭。

(2)材料二中人类历史上规模最大的一次战争中，“开辟第二战场”的是哪一重要战役。（2 分）

材料三 1945 年 5 月 8 日，美国驻苏参赞凯南说：人们在欢呼跳跃……他们认为战争结束了，但我认为战争才刚刚开始。

(3)材料三中凯南所说的“刚刚开始”的战争指的是什么？（2 分）这场战争在经济上的表现是什么？（2 分）

材料四





（4）根据材料四，概括 1922—1939 年美国国民生产总值变化的趋势。（2 分）造成 1929—1933 年美国
经济下滑的直接原因是什么？（2 分）罗斯福上台后，采取了什么对策？（2 分）

28. 创新促发展，各种进步的力量推动社会的不断前进。阅读下列材料，回答问题。（18 分）

【思想之光】

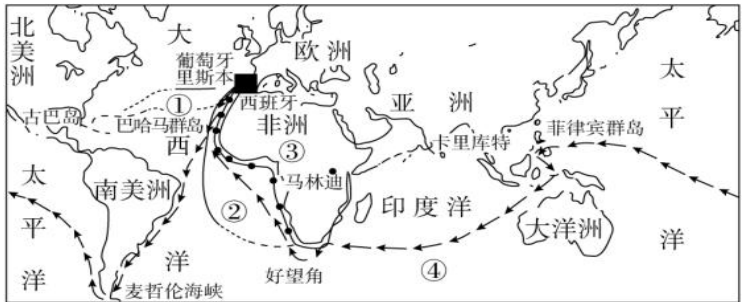
材料一：

<p>14-16 世纪，在欧洲出现意义深远的思想解放运动。（他）以新奇的目光重新审视一切的勇气、热情 and 才能使人类精神从经院的暗室，冲向色彩缤纷的新天地……我们相信伟大的时代塑造了达·芬奇那些人，而达·芬奇他们又成为那个时代一个个不朽的标记。</p> <p>——侯建新《社会转型时期的西欧与中国》</p>	 <p>图一 《共产党宣言》</p>	 <p>图二 巴黎公社运动</p>
---	---	--

- （1）思想创新是人类进步的源泉。材料一中这场“思想解放运动”指的是什么？（1 分）他“新奇的目光”中蕴含着怎样的时代精神？（1 分）
- （2）从历史地位（价值）方面分别解读图一和图二反映的史事，并简述两者之间的联系。（4 分）

【勇敢尝试】


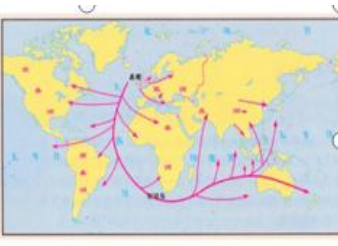
材料二：

<p>如果可以把 1492 年看作经济全球化的开始，那么首先是葡萄牙和西班牙开启了现代的全球化。</p> <p>——海军《火预言：2049 年的世界》</p>	 <p>图三</p>
---	--

（3）依据材料二，分析作者把哪一事件看作是经济全球化的开端？（2 分）根据图三，指出哥伦布和麦哲伦的航线（提示：使用图中的数字表示）。（2 分）

【科技创新】

材料三：

 <p>图四 蒸汽机</p>	 <p>图五 19 世纪后期英国海外贸易图</p>	<p>19 世纪的德国引领了第二次工业革命，站在了世界科学技术发展的前沿。电气时代的一批重要发明在德国诞生。从 1851 年到 1900 年，在重大科技革新和发明创造方面，德国取得的成果达到 202 项，超过英法两国的总和，居世界第二位。</p> <p>——《大国崛起·帝国春秋》</p>	<p>五个月后，世界上第一台计算机在美国宾夕法尼亚大学诞生。这台重达 30 吨、占地 160 平方米的计算机，实际功能还不如今天的一些袖珍计算器，但它的诞生，却象征着第三次工业革命即将来临，美国率先占领了信息时代的制高点。这是美国在 20 世纪后期成为全球唯一一个超级大国的重要原因。</p> <p>——《大国崛起·大道行思》</p>
---	--	--	---

- （4）结合材料三两幅图片和所学知识，简要说明以上两幅图片所反映史实之间的关系。（2 分）
- （5）分析材料，第二次工业革命中最显著的成就是什么？列举交通领域的一项“德国引领第二次工业革命”的重要发明。阅读材料，第三次科技革命的重要成就是什么？（3 分）

【启迪智慧】

（6）没有三次工业革命的发明与创造，人类社会将不会产生这么多重大的积极影响，不会有火车，不会有飞机，不会有互联网……，但是有人说，正是三次科技革命也将人类带入了诸如生态环境恶化等很多问题，请谈一谈你自己对科技革命的看法？（3 分）