

2022-2023学年度第二学期 乐考卷

二年级数学

(苏教版)



时间：60分钟

满分：100分

题号	一	二	三	四	五	六	七	八	总分	等级
得分										

tián yi tián

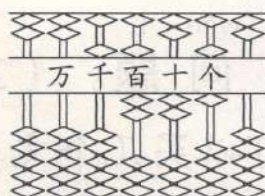
一、填一填。(24分)

1.



写作：_____

读作：_____

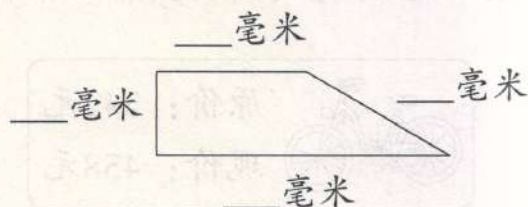


写作：_____

读作：_____

2. 量一量。

3. 有23个羽毛球，平均分给5人，每人分_____个，还剩_____个。



4. 角有_____个顶点和_____条边，正方形有4个_____角。

5. 一个四位数，它的最高位和最低位都是7，其它数位上是0，这个数是_____，与它相邻的两个数是_____和_____。

6. 60秒 = () 分 7米 = () 厘米

1时15分 = () 分 6厘米 = () 毫米

40分米 = () 米 100厘米 = () 分米

7. $240 + 325 < 5\square 0$, \square 里最小填_____。 $\triangle \div 7 = 4\cdots\cdots\bigcirc$, \bigcirc 里最大填_____。

pàn duàn

二、判断。(5分)

1. 钟面上秒针走一圈是100秒。
2. 49除以8商5余9。
3. 比670多60的数是610。
4. 红领巾上面有1个钝角。
5. 6个千、8个百和7个一组成的数是6807。

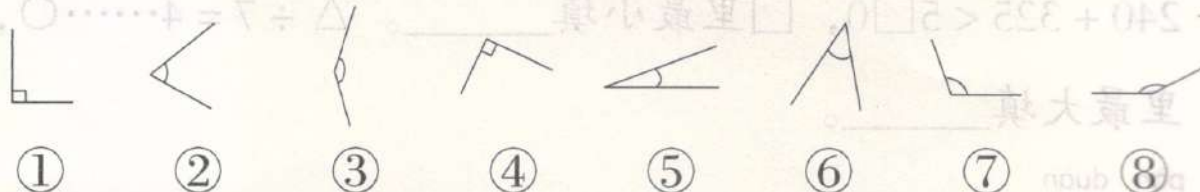


xuǎn yì xuǎn

三、选一选。(10分)

1. 9时零5分可以写成()。A. 9:5 B. 9:05 C. 9:50
2. 傍晚丫丫面向太阳,她的前面是()。
A. 西 B. 东 C. 南
3. 下列最接近9000的数是()。
A. 8989 B. 9099 C. 9009
4. 丫丫和丁丁各做20道计算题,丫丫用了3分钟,丁丁用了195秒,两人相比()。
A. 做得一样快 B. 丁丁做得快 C. 丫丫做得快
5. 水果店有苹果216箱,苹果比梨少45箱。求梨有多少箱?列式正确的是()。
A. $216 - 45$ B. $216 + 45$ C. $216 + 45 + 216$

四、^{fēn yī fēn}分一分。^{tián xù hào}(填序号)(8分)



锐角：_____ 直角：_____ 钝角：_____

五、^{kàn tú tián yī tián}看图填一填。(8分)

- 广场的_____面是丫丫家，
西面是_____。
- 冬冬家在图书馆的_____面。
- 丁丁家的_____面是居委会。

丁丁家	图书馆	超市
冬冬家	居委会	丫丫家
小明家	广场	朵朵家

北 ↑

六、^{jì suàn}计算。(20分)

- 直接写得数。(6分)

$$70 + 80 = \quad 600 + 2100 = \quad 130 - 60 =$$

$$1100 - 700 = \quad 900 - 400 = \quad 90 - 62 =$$

- 用竖式计算。(8分)

$$72 \div 9 \quad 69 \div 8 \quad 412 + 298 \quad 701 - 457$$

- 认真计算。(6分)

$$823 - 415 - 26$$

$$78 + 342 - 205$$



shù jù shōu jí

七、数据收集。(丫丫统计了本班学生最喜欢吃的水果。根据右边的记录,在下面的表格中填一填。)

(5分)

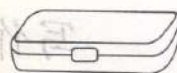
火龙果	香蕉	草莓	西瓜	其它
____人	____人	____人	____人	____人

火龙果	正
香蕉	正一
草莓	正正正T
西瓜	正正T
其它	正

jiě jué wèn tí

八、解决问题。(20分)

1. 50元可以买几个文具盒,还剩多少元?(5分)



8元

2. 这辆自行车现价比原价便宜多少元?(5分)



原价: 542元

现价: 458元

3. 水果店运来600个西瓜,上午卖出216个,下午比上午多卖出137个。

(1) 下午卖出多少个西瓜?(5分)

(2) 还剩多少个西瓜?(5分)