

2022-2023学年度第二学期 乐考卷

一年级数学

(苏教版)



时间：60分钟

满分：100分

题号	一	二	三	四	五	六	七	八	九	总分	等级
得分											

tián yi tián

一、填一填。(1题2分,其余每空1分,共25分)

1.




_____元_____角



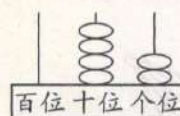
_____元_____角

2.



_____个十和_____个一

合起来是_____



_____个十和_____个一

合起来是_____

3. 一个两位数,个位上是0,十位上是7,这个数是_____,

与它相邻的两个数是_____和_____。

4. 3元 = _____角 50分 = _____角 1元5角 = _____角

5. 35 88 76 48 94

(1) 将上面各数按从小到大的顺序排一排。

_____ < _____ < _____ < _____ < _____

(2) 上面的几个数中,与90最接近的数是_____。



6. 在○里填上“>”“<”或“=”。

$$87 - 5 \bigcirc 87 - 50 \quad 14 - 8 \bigcirc 12 - 6$$

$$56 - 20 \bigcirc 56 + 20 \quad 75 - 4 \bigcirc 75 - 9$$

7. 妈妈买来一些鸡蛋，吃了21个，还剩30个，买来了 个鸡蛋。

二、判断。(对的打“√”，错的打“×”)(5分)

1. 一张  可以换2张 .

2. 计数器的十位上有5个珠子，表示5个十。

3. 两位数一定比一位数大。

4. 人民币最大面值是50元。

5. 比41多5的数是36。



三、选一选。(10分)

1. 最大的两位数是()。

A. 10

B. 89

C. 99

2. 100中的“1”表示()。

A. 1个百

B. 1个十

C. 1个一

3. 下列算式结果是六十多的是()。

A. $98 - 41$

B. $8 + 57$

C. $43 + 31$

4. $\triangle \square \bigcirc \triangle \square \bigcirc \triangle \square \cdots$ ，下一个图形是()。

A. \triangle

B. \square

C. \bigcirc

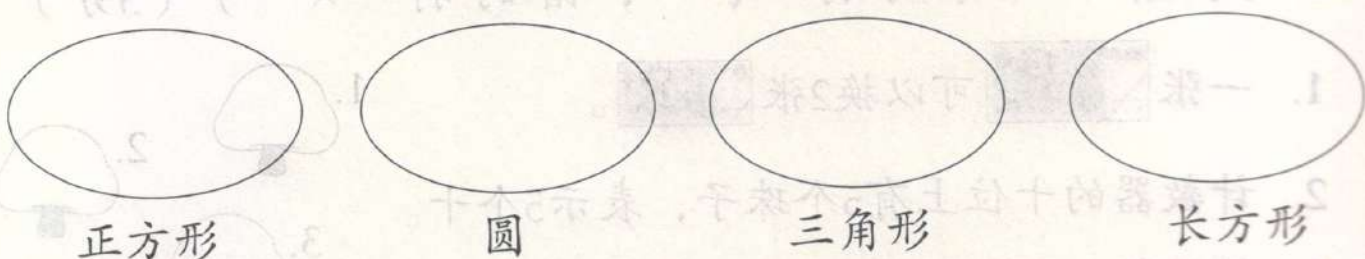
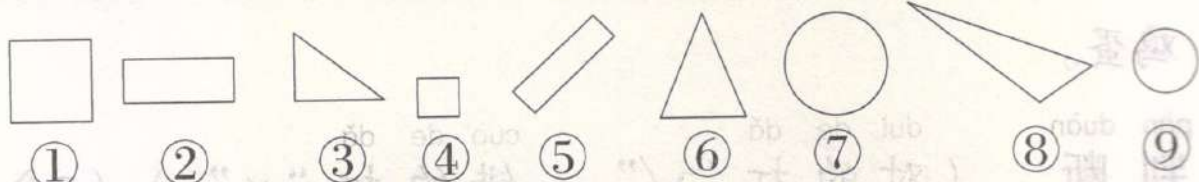
5. 丫丫的爸爸今年36岁，妈妈比他的年龄小一些，丫丫妈妈的年龄可能是（ ）岁。

A. 45

B. 25

C. 34

四、把图形送回家。（填序号）（9分）



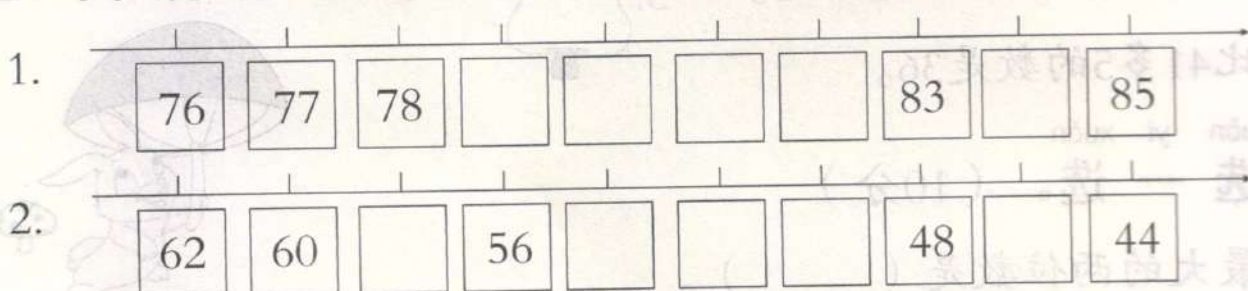
正方形

圆

三角形

长方形

五、找规律填一填。（10分）



六、在○里填上“+”或“-”。（9分）

$15 \bigcirc 6 = 9$

$42 \bigcirc 2 = 44$

$40 \bigcirc 16 = 56$

$14 \bigcirc 7 = 21$

$56 \bigcirc 6 = 50$

$80 \bigcirc 9 = 71$

$16 \bigcirc 8 = 8$

$70 \bigcirc 18 = 88$

$54 \bigcirc 50 = 4$

七、直接写得数。（9分）

$13 - 7 =$

$20 + 60 =$

$14 - 8 =$

$80 - 30 =$
 $10 + 43 =$
 $76 - 5 =$

$75 - 40 =$
 $51 + 7 =$
 $47 - 8 =$

suàn yì suàn

八、算一算。(8分)

8 2	4 2	9 0	6 1
- 2 6	+ 3 8	- 4 8	+ 7

jiě jué wèn tí

九、解决问题。(15分)

1. 还剩多少个?(4分)

$\square \bigcirc \square = \square (\text{个})$

我拔了62个胡萝卜，
送给小羊24个。



2.



36元



57元



41元



24元

(1) 买一把雨伞和一个闹钟一共多少元?(4分)

(2) 一个足球比一个台灯贵多少元?(4分)

(3) 你还能提出什么问题?(3分)

> > > >