


2022—2023 学年度下期二年级数学期末教学质量检测试题

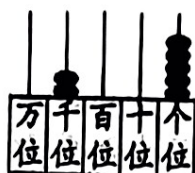
一、填空。(每空 1 分, 共 24 分。)

1. 看图写数。




写作: _____

读作: _____



写作: _____

读作: _____



写作: _____

读作: _____

2. $24 \div 4 = 6$, 表示把 () 平均分成 () 份, 每份是 (); 也可以表示 24 里面有 () 个 ()。

3. 从 72 里连续减去 () 个 9, 结果是 0。

4. 计算 $42 - 4 \times 8$ 时, 应先算 () 法, 再算 () 法。

5. 二 (1) 班有女生 30 人, 男生 24 人, 如果每 6 人分一组, 可以分成 () 组。列综合算式是 ()。

6. 小明的体重约 25 (), 他的文具盒约重 100 ()。

7. 有一堆苹果, 比 30 个多, 比 40 个少, 分的份数和每份的个数同样多, 这堆苹果有可能是 () 个。

8. 神州八号航天飞船升空是做 () 运动, 围绕地球转动时做 () 运动。

9. ☆△△☆△△☆△△……像这样排列, 第 25 个图形是 ()。

10. 和 3989 相邻的两个数是 () 和 ()。

二、选择题。(10 分)

1. 下列算式中, () 的商是 8。

① $18 \div 6$

② 2×4

③ $56 \div 7$

2. 小明和小军比赛写 28 个大字, 小明每分钟写 7 个, 小军用了 7 分钟完成,
() 书写的速度快。

- ①小明 ②小军 ③一样快

3. 下面 4 个数中只读一个零的数是 ()。

- ①5110 ②6200 ③4007 ④8000

4.     中有 () 个是轴对称图形。

- ①1 ②2 ③3 ④4

5. 在下边的方格中, 每行、每列都有 1~4 这四个数, 并且每个数在每行、每列都只出现一次。B 是 ()。

①2

②3

③4

		1	
	2	A	3
	C		
	3	B	

三、判一判。(10 分)

1. 读数和写数都是从高位起。 ()
2. 2985 和 7206 中的 2 表示的意思相同。 ()
3. 1000 克铁比 1 千克棉花重。 ()
4. 一百一百的数, 990 后面是 1000. ()
5. 在计算有余数的除法时, 除数一定要比余数小。 ()

四、计算。

1. 口算。(8 分)

$63 \div 7 =$	$70 + 80 =$	$30 \div 6 =$	$4400 - 400 =$
$7 \times 8 + 20 =$	$67 - 30 - 5 =$	$1500 - 700 =$	$76 - 20 \div 5 =$

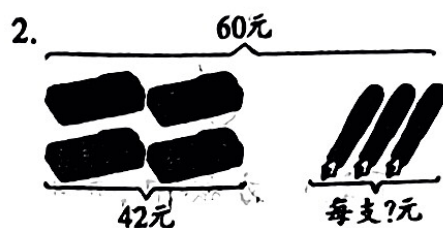
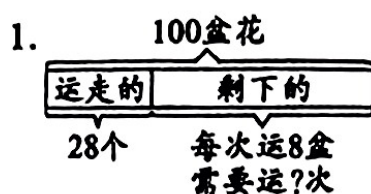
2. 列竖式计算。(6分)

$54 \div 7 =$

$70 \div 9 =$

$100 - 56 =$

3. 看图列式计算。(6分)



五、解决问题。

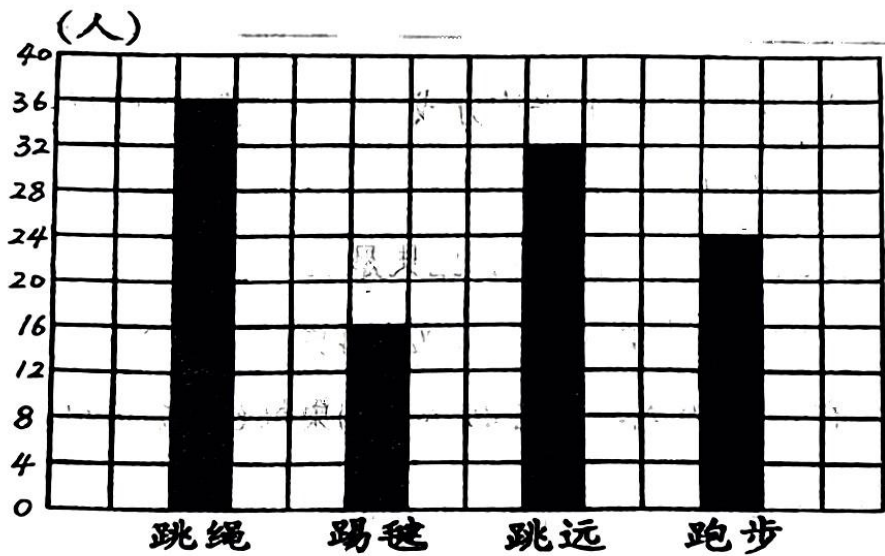
1. 原来一个皮球 14 元，现在降价促销，一次买 5 个 45 元。现在每个皮球多少元？比原来便宜多少钱？（6分）

2. 张老师和王老师带领 64 名同学去教育实践基地进行研学实践活动，每 8 名同学租一辆车，至少要租多少辆车？（6分）

3. 修路队要修一条 80 米长的桥，已经修好了 45 米，剩下的要 5 天修完，平均每天修多少米？（6分）

4. 超市里运来 4000 千克大米，已经卖出 1500 千克，又运来 3000 千克，超市现在还有大米多少千克？（6 分）

5. 二年级两个班参加学校运动会项目情况如下（每人限一项，每人都参加学校运动会）（12 分）



(1) 填写下表。（4 分）

项目	跳绳	踢毽	跳远	跑步
人数				

(2) 每格代表（ ）人。（2 分）

(3) 参加（ ）的人最多，参加（ ）的人最少。（2 分）

(4) 二年级一共（ ）人。（2 分）

(5) 跳绳的比跑步的多（ ）人。（2 分）