

二、仔细推敲,认真判断。(对的打“√”,错的打“×”,共5分)

1. 一个三位数比 800 大,那么这个三位数的百位上一定是 9。.....()
2. 一张长方形纸的四个角都是直角。.....()
3. 百货商店上午的营业时间是 9:00~12:00,上午营业 3 时。.....()
4. 一根铁丝长 250 厘米,剪掉 1 米,还剩 150 厘米。.....()
5. 在 $680 < \square 89$ 中, \square 最小能填的数字是 7。.....()

三、反复比较,合理选择。(把正确答案的序号填在后面的括号内,共5分)

1. 分针从 12 走到 5,经过的时间是()。.....()
A. 5 分 B. 5 时 C. 25 分
2. 最小的三位数与最大的两位数相加,和是()。.....()
A. 1000 B. 999 C. 199
3. 在 $\bigcirc \div \square = \triangle \cdots \cdots 5$ 中,除数最小是()。.....()
A. 6 B. 7 C. 9
4. 妈妈上午 8 时上班,工作 4 小时下班,妈妈()时下班。.....()
A. 11 B. 12 C. 10
5. 超市共购进 68 台饮水机,一辆车最多装 8 台,至少需要运()次才能全部运完。.....()
A. 7 B. 8 C. 9

四、仔细审题,认真计算。(10+8+6=24 分)

1. 直接写得数。

$480+25=$	$30 \div 6=$	$500+450=$	$300+700=$	$370-200=$
$46 \div 5=$	$420+80=$	$630-600=$	$500-80=$	$60 \div 9=$

2. 用竖式计算。(带*的验算)

* $55 \div 8=$

* $476+248=$

$564-341=$


3. 用你喜欢的方法计算。

$$436 + (248 + 164)$$

$$864 - 168 - 232$$

五、按要求操作。(6+4+4=14分)


1. 在下面的方格纸上画一个占8个格的长方形,画一个占9个格的正方形。



2. 按要求画出钟面上的时针和分针。




经过了 20 分钟



经过了 35 分钟



3. 每层货架上玩具的总价相同



= 9 元

= () 元

= () 元

六、联系实际,解决问题。(4+4+4=12 分)


1. 我校二年级男生有 238 人,女生的人数比男生少 43 人,二年级一共有多少人?

2. 一根绳子长 17 米,每 3 米做一条跳绳,可以做几条跳绳,还剩几米?

3.

苹果	梨	桔子	西瓜
320 千克	280 千克	175 千克	410 千克

小货车一次最多装载 1000 千克,
小货车一次装哪三种水果合适?



载重 1000 千克

密

封

线