

2022 ~ 2023 学年下学期期末质量检测

# 二年级数学

(考试时间:60 分钟;满分:100 分)

座号	
----	--

题号	一	二	三	四	五	六	总分
得分							

得分	评卷人

一、直接写出得数。(5 分)

$$\begin{array}{lllll}
 120 - 80 = & 45 \div 5 = & 71 - 27 = & 65 + 35 = & 67 + 28 = \\
 80 - 18 = & 1500 - 900 = & 92 - 26 = & 56 + 32 = & 800 + 700 =
 \end{array}$$

得分	评卷人

二、填空题。(每空 1 分,共 34 分)

- 一个数是 56,另一个数是 27,这两个数的和是( ),差是( )。
- 一个四位数,千位上的数字是 4,十位数上的数字是 3,其他数位上的数字都是 0,这个数是( ),读作( )。
- 4378 是一个( )位数,它的最高位是( )位,其中的“7”表示( )。
- 用 0,5,7,9 组成最大的四位数是( ),最小的四位数是( ),最接近 7000 的数是( ),最接近 9000 的数是( )。
- 在○里填上“>”“<”或“=”。
 

七千五百零八○7058

909○990

200 毫米○2 米

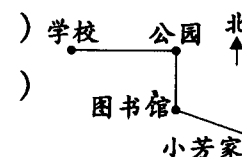
2 分○200 秒

795 - 303○302 + 190

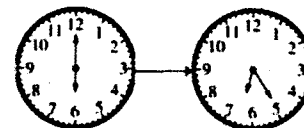
800 - 456○700 - 456
- 在括号里填上合适的单位。
 

(1)小芳立定跳远能跳 12( )。
 (2)刘阿姨的身高大约是 165( )。
 (3)小军从家走到人民公园,大约要用 15( )。
 (4)兰兰在跑道走 1 圈,大约要用 20 分钟;如果走 3 圈,大约要用 1( )。

7. 下图是小芳家到学校的线路图,图书馆在小芳家的( )面,从小芳家到图书馆后向( )走到公园,再从公园向( )走到学校。



8. 如图,图中左边钟面上是( )时,右面钟面上是( )时( )分,分针走过了( )个小格。



9. 右图中有( )个直角。



10. 小红折了 32 个纸船,小明比小红多折 14 个,小刚比小明少折 19 个,小明折了( )个纸船,小刚折了( )个纸船,小刚比小红少折了( )个纸船,三人一共折了( )个纸船。

11. 有一盒糖果,平均分给 8 个人,每人 7 颗,还剩 6 颗,这盒糖一共有( )颗。

得分	评卷人

三、选择题。(将正确答案的序号填在括号里,共 6 分)

- 下面的式子中,计算正确的是( )。
 

A.  $47 \div 5 = 8 \dots 7$ 
B.  $55 \div 8 = 7 \dots 1$ 
C.  $73 \div 8 = 9 \dots 1$
- 王奶奶高 155 厘米,李阿姨高 16 分米,刘大妈高 1 米 68 厘米,她们三人中,( )最高。
 

A. 王奶奶
B. 李阿姨
C. 刘大妈
- 钟面上几时整时,时针和分针形成的角是直角? 下面答案正确的是( )。
 

A. 1 时和 7 时
B. 3 时和 9 时
C. 6 时和 12 时
- 多味缘餐厅,每 5 人一桌,现在有 27 人,至少需要( )张桌子。
 

A. 5
B. 6
C. 7
- 用一个直角和一个锐角拼出来的一定是( )。
 

A. 直角
B. 锐角
C. 钝角
- 妈妈手机银行卡上显示余额是 600 元。她想在网上购买一个 358 元的电饭锅和一个 239 元的电熨斗。够吗?( )
 

A. 够
B. 不够
C. 无法判断

得分	评卷人

四、用竖式计算。(带☆的要验算,共 9 分)

$76 \div 9 =$

$413 + 597 =$

$582 - 210 =$

$\star 900 - 455 =$

候选人	小昊	小希	小迪	小媛
票数/票				

(2) 得票最多的是( ), 得票最少的是( ), 他们相差( )票。(3分)

(3) 你还能得到什么信息? 写一写。(2分)

得分	评卷人

五、按要求完成下面各题。(共23分)

1. (4分)



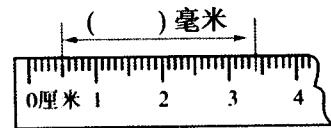
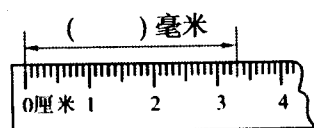
(1) 白兔可能有多少只? (请在下表对应的方格中画○)

1326	1770	1300只


(2) 黑兔可能有多少只? (请在下表对应的方格中画△)

1348只	2770只	1300只

2. 写出下面的长度各是多少毫米。(4分)



3. 在方格纸上画一个直角、一个锐角和一个钝角。(6分)



4. (9分) 幸福小学组织“小学生诗词大赛”, 为了选派一名同学代表本班参加比赛, 二(1)班全班42名同学对4名候选人进行投票(每人投1票), 投票结果如下:

小昊: 正正 小希: 正正正 小迪: 正正正 小媛:

(1) 小刚擦黑板的时候不小心把小媛的票数擦掉了, 请你算一算, 把下表填写完整。(4分)

得分	评卷人

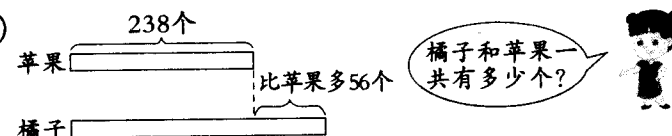
六、解决问题。(共23分)

1. 仓库原来有面粉多少袋? (4分)

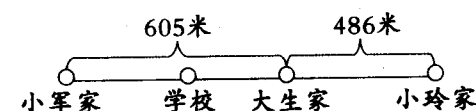
已经运走了688袋, 还剩下239袋。



2. (4分)



3. 小军家离学校350米, 小玲家离学校多少米? (5分)



4. 小林走一步的长度大约是35厘米, 爸爸走一步的长度大约是65厘米。(10分)

(1) 谁的步子长? 长多少? (5分)

(2) 小林和爸爸各走一步共是多少厘米? 合多少分米? (5分)