





2023 年春期期终文化素质调研小学一年级 数学学科作业题


题 号	一	二	三	四	总 分
得 分					

一、我会填一填。(31 分)

- “88”左边的“8”表示 8 个 () ; “88”在 () 和 () 的中间。
- 7 个一和 6 个十合起来是 () , 再添上 1 个十是 () 。
- 在 17、100、73、69 中, () 比 70 少得多, () 最接近 70。
- () 添上 23 就是 100, () 减少 2 就是 96。

- 一张  可以换 () 张  ; 一张  可以换 () 张  。

- 76 角 = () 元 () 角 5 元 5 角 = () 角
1 元 4 角 + 6 角 = () 元 2 角 + 30 分 = () 角
- 有 34 个皮球, 每 10 个装一盒, 能装满 () 盒, 还剩 () 个。
- 明明在计算 $36 - 8$ 时, 是按下图这样圈的, 他的算法是: 先算 () , 再算 () 。



- 先找规律, 再接着画一画或写一写。(画出或写出 3 个)
(1) $\triangle \square \square \triangle \square \square \triangle \square$ _____
(2) $\square \square \bigcirc \triangle \square \square \bigcirc \triangle \square$ _____
(3) 9, 13, 17, 21, 25, _____
(4) 76, 70, 64, 58, _____
- 联欢会上, 笑笑按照 3 个红气球, 2 个黄气球, 1 个绿气球的顺序把气球串起来装饰教室, 第 16 个气球是 () 。



11. 从 9, 3, 4 这 3 个数中任选两个数, 组成最大的两位数是 (), 最小的两位数是 ()。

12. 下图是百数表的一部分, 先观察规律, 再把表格里的数填完整。

22	23	24
32	33	34
42	()	()

我发现: 横着看, 每一行 () 位上的数相同; 竖着看, 每一列 () 位上的数相同。

二、我会算一算。(28 分)

1. 直接写出得数。(8 分)

$$\begin{array}{llll} 14-5= & 61-5= & 40-10= & 79-(4+3)= \\ 32+8= & 26+7= & 71+7= & 74-60+3= \end{array}$$

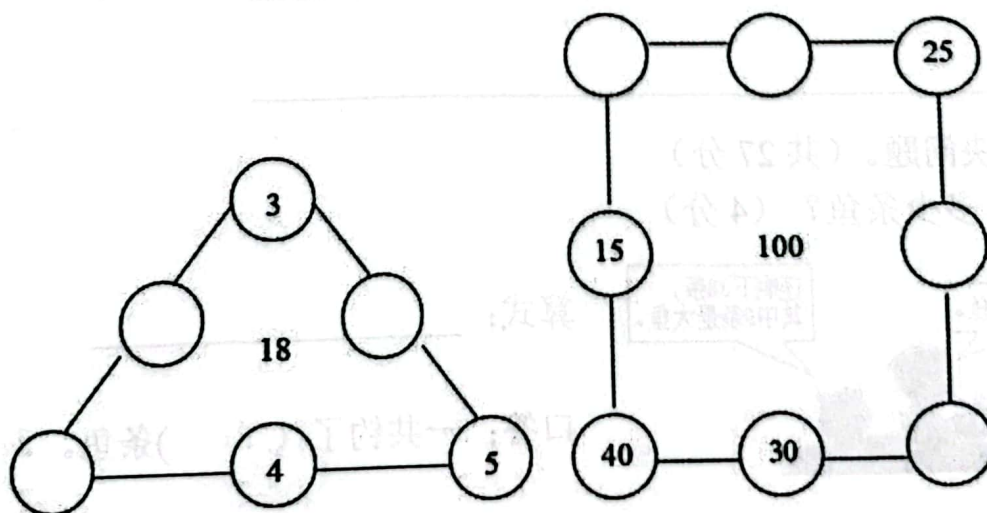
2. 在括号内填上“>”、“<”或“=”。(6 分)

$$\begin{array}{ll} 45+5 () 48 & 36+7 () 37+6 \\ 5 \text{ 元 } 8 \text{ 角 } () 6 \text{ 元 } & 100 \text{ 分 } () 1 \text{ 元 } \\ 80-29 () 37+25 & 6 \text{ 角 } + 7 \text{ 角 } () 1 \text{ 元 } 2 \text{ 角 } \end{array}$$


3. 在括号里填上合适的数。(7 分)

$$\begin{array}{lll} () - 6 = 59 & 67 - () = 28 & () + 20 = 30 - 4 \\ 4 + () = 72 & () + 9 < 45 & 58 - () = 17 + () \end{array}$$

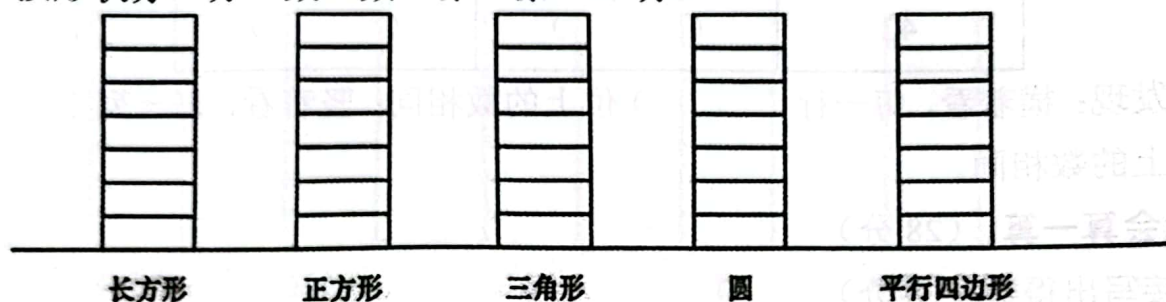
4. 在圆圈里填数, 使每条线上三个数的和与中间的数相等。(7 分)



三、我会做一做。(14分)



(1) 按形状分一分、数一数、涂一涂。(5分)



(2) 个数最多的图形是(), 个数最少的图形是()。再添()

个正方形, 正方形的数量就与圆的数量一样多; 如果小明要拼4个 ,

一共需要()个圆。(4分)

(3) 如果把这些图形分成两组, 你会吗? 把你分的结果写在表格中。(2分)

分类		
个数		

(4) 根据分的结果, 提一个数学问题并列式解决。(3分)

问题: _____

列式: _____

四、我会解决问题。(共27分)

1. 一共钓了多少条鱼?(4分)




算式: _____

口答: 一共钓了()条鱼。



2.



(1) 买一袋大米和一袋面粉，一共要多少元？(3分)

算式：_____ 口答：一共要()元。

(2) 买一箱牛奶付了60元，找回2元。你能算出一箱牛奶的价钱吗？(3分)

算式：_____ 口答：一箱牛奶的价钱是()元。

3. 购物。

(1) 买3双袜子一共多少元？(3分)

算式：_____

口答：买3双袜子一共()元。



(2) 买一条裤子，付了一张50元，找回多少元？(3分)

算式：_____ 口答：找回()元。

(3) 买1件上衣，付_____张5元和_____张10元正好。(2分)

4.



①5元正好可以买哪两样物品？(列式表示)(3分)

算式：_____

口答：5元正好可以买()和()。(写序号)

②小红拿1元钱，买一根冰棍和一个雪糕，够吗？(在正确答案括号里打“√”)

(2分)

口答：够() 不够()。

③你还能提出什么数学问题？列式解决。(4分)

问题：_____

算式：_____

