

2023年春二年级数学学科素养游园摘星活动单

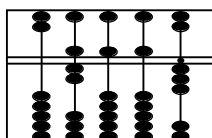
(活动时间 60 分钟 总☆数 100 颗)

活动项目	一	二	三	四	五	总☆数
应得☆数	35	5	10	25	25	100
实得☆数						
评价等级						

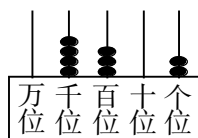
同学们，期末游园摘星活动开始了。本次活动的五个项目共有100颗☆，希望大家加油摘哟！评价等级：90—100颗☆为“A”；80—89颗☆为“B”；60—79颗☆为“C”；59颗☆以下为“D”。

一、我会填一填，说一说。(共 35 颗☆)

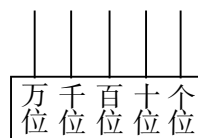
1. 看图写数，看数画珠。(3 颗☆)



()



()



2000

- 一个四位数，个位上是3，最高位上是最大的一位数，其余各位上都是0，这个数是()，读作()。(2 颗☆)
- 时针走1大格，分针正好走()圈，是()分。(2 颗☆)
- 在括号里填上适当的数。(4 颗☆)

$$3\text{km} = () \text{m}$$

$$5\text{分} = () \text{秒}$$

$$80\text{mm} = () \text{cm}$$

$$1\text{时}30\text{分} = () \text{分}$$

- 在括号里填上适当的长度单位或时间单位。(3 颗☆)

(1) 平昌到成都的距离大约是430()。

(2) 一张身份证的厚度大约1()。

(3) 健康生活要求，每天大约锻炼1()。

- 在○里填上“>”、“<”或“=”。(3 颗☆)

$$1000 \bigcirc 999$$

$$2999 \bigcirc 3000$$

$$1\text{分}40\text{秒} \bigcirc 100\text{秒}$$

- 找规律，再说一说。(4 颗☆)

(1) ○ △ △ ◇ ◇ ○ △ △ ◇ ◇ ……按这样的顺序画，第43个图形是()。(2 颗☆)

(2) 30, 40, 70, 110, 180, ()。(2 颗☆)

8. 在有余数的除法算式 $\star \div 6 = 8 \cdots \square$ 中, 余数最大是 (), 这时被除数是 ()。(2 颗 ☆)
9. 在长是 7cm, 宽是 5cm 的长方形里截 1 个最大的正方形, 正方形的边长是 () cm; 剩下的图形是 1 个长方形, 这个长方形的长是 () cm, 宽是 () cm。(3 颗 ☆)
10. 根据 $\bigcirc + \bigcirc + \bigcirc = 18$ 、 $24 = \star + \star + \star$ 、 $\square + \square = 18$, 求出 $\bigcirc + \star + \square = ()$ 。(2 颗 ☆)
11. 聪聪参加游泳训练, 从晚上 7:00 开始, 到晚上 8:30 结束, 他训练了 () 时 () 分。(2 颗 ☆)
12. 一个长方形相邻的两条边分别是 6cm 和 5cm, 它的四条边加起来是 ()。(2 颗 ☆)
13. 把 54 颗苹果放在盒子里, 每个大盒子可以放 9 颗, 每个小盒子可以放 6 颗, 可以怎么放呢。说一说有 () 种放法。(3 颗 ☆)

二、我会选择, 再说一说。(每题 1 颗 ☆, 共 5 颗 ☆)

14. 一筐苹果, 平均分给 8 个小朋友后, 还剩 3 颗。你认为这筐苹果不可能的颗数是 ()。

A. 27 颗

B. 43 颗

C. 65 颗

15. 五个小朋友在做轮流连续报数的游戏。下列数中, () 是文文报的。

A. 31

B. 32

C. 33



16. 下面各数中只读一个零的是 ()。

A. 880

B. 2050

C. 1500

17. 用 1 个 3, 2 个 0, 1 个 7 组成的一个零都不读的四位数有 ()。

A. 2 个

B. 3 个

C. 4 个

18. 有 46 颗糖, 最少拿走 () 颗, 就能平均分给 6 个小朋友。





A. 2

B. 3

C. 4

三、我会写一写, 画一画, 说一说。(共 10 颗 ☆)

19. 写一写, 画一画。(4 颗 ☆)



_____ : _____

_____ : _____

8 : 06

4 : 50

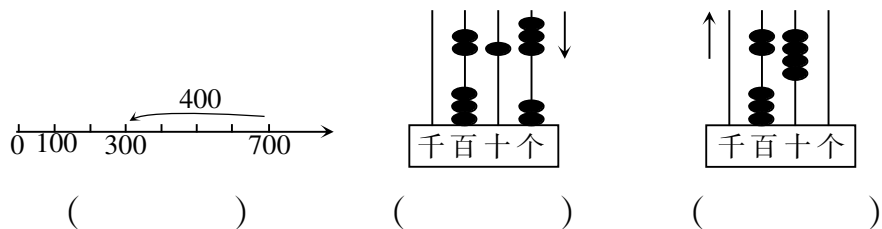
20. 我会看图说算式。(每小题3颗☆, 共6颗☆)



$$17 \div \square = \square (\quad) \cdots \cdots \square (\quad)$$

$$17 \div \square = \square (\quad) \cdots \cdots \square (\quad)$$

(2)



四、我会细心审题, 认真计算, 最后说出答案。(共25颗☆)

21. 直接说出得数。(5颗☆)

$$780 - 80 = \quad 680 - 640 = \quad 360 + 240 = \quad 370 + 300 = \quad 72 \div 8 =$$

22. 用竖式计算。(8颗☆)

$$600 - 329 = \quad 39 \div 8 = \quad 42 \div 8 = \quad 279 + 411 =$$

23. 在□里填合适的数字。(6颗☆)

(1)
$$\begin{array}{r} 3 \square 4 \\ + 13 \square \\ \hline \square 0 1 \end{array}$$

(2)
$$\begin{array}{r} 73 \square \\ - \square 6 9 \\ \hline 2 \square 7 \end{array}$$

24. 我会计算。(6颗☆)

$$157 + 164 + 184 = \quad 683 - 170 - 287 = \quad 810 - 368 + 120 =$$

五、我会问题解决, 然后讲一讲。(共25颗☆)

25. 妈妈有300元钱, 买食用油用了145元, 买大米用了137元, 还剩下多少元?(5颗☆)

26. 有 57 条金鱼，每 6 条装 1 个鱼缸，可以装几个鱼缸？还剩几条？
(5 颗 ☆)

27. 君君跳绳 214 个，华华比君君少跳 45 个，两人一共跳了多少个？
(5 颗 ☆)

28. 下面是二（1）班同学喜欢的运动项目用“正”字统计如下。
(10 颗 ☆)

足球	正下
篮球	正正
排球	正正丁
踢毽子	正正正正正正

(1) 把上面的统计结果填入下表中。(4 颗 ☆)

项目	足球	篮球	排球	踢毽子
人数				

(2) 喜欢哪种运动项目的人最多？喜欢哪种运动项目的人最少？
(2 颗 ☆)

(3) 如果让你给学校买体育器材，你会多买什么器材？为什么？
(2 颗 ☆)

(4) 你还能提出其他数学问题并解答吗？(2 颗 ☆)