

# 2023年春一年级数学学科素养游园摘星活动单

(活动时间 60 分钟 总☆数 100 颗)

活动项目	一	二	三	四	五	总☆数
应得☆数	33	7	18	16	26	100
实得☆数						
评价等级						

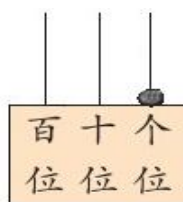
同学们，期末游园摘星活动开始了。本次活动的五个项目共有100颗☆，希望大家加油摘哟！评价等级：90—100颗☆为“A”；80—89颗☆为“B”；60—79颗☆为“C”；59颗☆以下为“D”。

## 一、我会填一填，说一说。(共33颗☆)

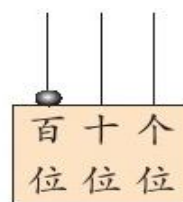
### 1. 看图说数。(6颗☆)



( )



( )



( )

个位上的一颗算珠表示 ( )；十位上的一颗算珠表示 ( )；百位上的一颗算珠表示 ( )。

### 2. (1) 8个十和3个一组成 ( )。(1颗☆)

(2) 89读作 ( )。(1颗☆)

(3) 一百里面有 ( ) 个十。(1颗☆)

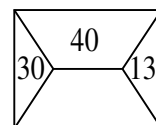
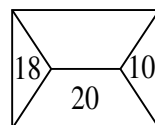
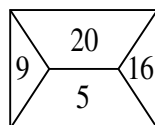
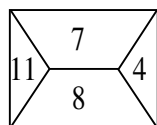
### 3. 说出个位上都是5的3个数：( ), ( ), ( )。(3颗☆)

### 4. 说一说与99相邻的两个数分别是 ( ), ( )。(2颗☆)

### 5. 根据规律说一说。(7颗☆)

(1) 83 81 79 77 ( ) ( ) ( ) (3颗☆)

(2) (4颗☆)





6. 说出在○里应该填“>”、“<”、或“=”。(4颗☆)

100○99+1    9分○1角    10角○1元    4元○3元9角

7. 把下面的数按从大到小的顺序说一说。(3颗☆)



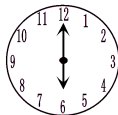
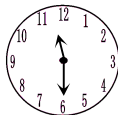
80    17    71    (    ) > (    ) > (    )

8. 人民币的单位有(    ), (    ), (    )。(3颗☆)

9. 一张  能换 (    ) 张  或 (    ) 张 。  
(2颗☆)

二、我会比一比，连一连，再说一说。(共7颗☆)

10. 认一认，连一连，再说一说。(4颗☆)



刚过4时

快8时了


6时


11时半

11. 想一想，说一说，再连一连。(3颗☆)


用  画

画出的图形  


用  画

画出的图形  


用  画

画出的图形  


三、我会算一算，还会说出得数。(共18颗☆)

12. 直接说出下面各题的得数。(8颗☆)

$60 + 16 =$

$23 - 0 =$

$100 - 30 =$

$17 + 0 =$

$40 + 60 - 8 =$

$25 + 75 =$

$66 - 34 + 6 =$

$75 - 35 =$

13. 计算。(10颗☆)

$$\begin{array}{r} (1) \quad (4 \text{ 颗 } \star) \quad 37 \\ + 48 \\ \hline \end{array}$$

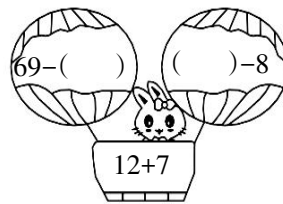


$$\begin{array}{r} 63 \\ - 38 \\ \hline \end{array}$$

$$\begin{array}{r} 54 \\ + 26 \\ \hline \end{array}$$

$$\begin{array}{r} 90 \\ - 43 \\ \hline \end{array}$$

(2) 下面每组中各算式的得数相等，你能说出括号里面的数吗？

(6 颗 ☆)

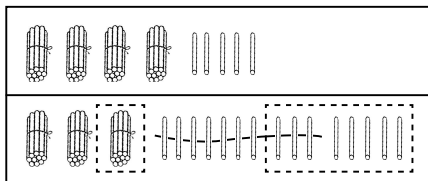


#### 四、我会估一估，画一画，再说一说。(共 16 颗 ☆)

14. 一串有规律的珠子 (2 黑 1 白依次排列)，中间被遮住了 6 颗。在被遮住的珠子里，白珠子可能有 ( ) 颗，黑珠子可能有 ( ) 颗，先猜一猜再画一画 ( )。(共 4 颗 ☆，其中第 3 空 2 颗 ☆)

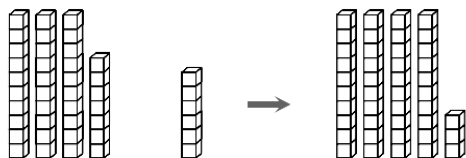
15. 看图说算式，再说说怎么计算。(8 颗 ☆)

(1)



算式：( )  
( )

(2)



算式：( )  
( )

16. 估一估，说一说。(4 颗 ☆)




红红可能有多少元 (画 “√”) 兵兵可能有多少元? (画 “×”)

100 元	28 元	17 元	5 元

五、我会问题解决，然后讲一讲。（共 26 颗 ☆）

17. 下面是一（5）班学生最喜欢的小动物的情况。（10 颗 ☆）



(1) 根据上图填写下表。（5 颗 ☆）

					
	狮子	兔子	小熊	猴子	小象
人数					

(2) 喜欢（ ）的人数最多，喜欢（ ）和（ ）的人数同样多。（3 颗 ☆）

(3) 你能提一个数学问题并解答吗？（2 颗 ☆）

18. 在课外活动中踢毽子。俊俊踢了 35 个，聪聪踢了 28 个，俊俊比聪聪多踢了多少个？（5 颗 ☆）

$$\square \bigcirc \square = \square \text{ (个)}$$

19. 妈妈去超市买苹果用去 42 元，买大米用去 35 元，买肉用去 21 元。（6 颗 ☆）

(1) 妈妈购买上面物品一共用了多少元？

$$\square \bigcirc \square \bigcirc \square = \square \text{ (元)}$$

(2) 妈妈有 100 元，还剩多少元？

$$\square \bigcirc \square = \square \text{ (元)}$$

20. 兰兰和她的两个好朋友一起去动物园，门票 16 元一张。她们买门票一共要花多少元？（5 颗 ☆）

$$\square \bigcirc \square \bigcirc \square = \square \text{ (元)}$$