

小学 2022—2023 学年度第二学期期末


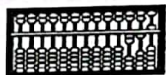
## 二年级数学试题 (青岛版)

时间: 40 分钟

等级: \_\_\_\_\_

### 一、我会选



- “3498”中的4,表示4个( )。A. 千 B. 百 C. 十
- 右面算盘上表示的数是( )。  
A. 215 B. 211 C. 251
- 下面的数中,最接近7000的是( )。  
A. 6889 B. 6985 C. 7102
- 用一堆小棒摆 $\square$ ,摆了4个后,还剩几根小棒不够摆一个了,剩下的小棒不可能是( )根。 A. 6 B. 4 C. 1
- 如图,小棒长( )毫米。  
A. 89 B. 79 C. 9
- 看图,括号里应该填的单位是( )。  
A. m B. dm C. cm
- $9\square\square-5\square\square$ 的差,不可能是( )。  
A. 二百多 B. 三百多 C. 四百多
- 学校的报告厅有400个座位。  
安排( )年级学生一起开会比较合适。  
A. 一、二 B. 二、三 C. 一、三
- 老师们去接种疫苗,每次只能进去6名老师,张老师排在第33个,他应该是第( )组进去的。 A. 5 B. 6 C. 7
- 下面( )组小棒能摆成一个长方形。  
A. B. C.



一年级	202人
二年级	228人
三年级	196人

### 二、我会填

- 如图,涂色部分能种200棵花,估一估,空白部分大约能种( )棵花。
- 一个四位数,它的千位和十位上的数都是7,其余数位上都是0,这个数是( ),读作( )。
- 按规律填数: 3856 3857 ( ) ( ) ( )  
9100 9000 ( ) ( ) ( )
- 在○里填上“>”“<”或“=”。  
4058○4085 3米○26分米 80毫米○8厘米 9分米○100厘米
- 如图,从一个长12厘米、宽7厘米的长方形纸上剪去一个最大的正方形。这个正方形的边长是( )厘米;剩下的小长方形的长和宽分别是( )厘米和( )厘米。
- 算式中的字母代表几?  
$$\begin{array}{r} M \ N \ 8 \\ - \quad M \ N \\ \hline 7 \ 7 \ 3 \end{array}$$
  
M=( )  
N=( )




### 三、我会做

- 下面是4个小朋友看到的河马的样子。请你把他们的名字填在合适的位置。



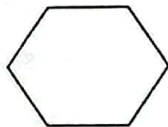
小刚 小丽 小芳 小东



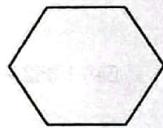
- 在下面的图形中画一条线,让它变成符合要求的样子。



变成2个三角形



变成2个四边形



变成1个五边形和1个三角形

题号	得分	评价人
一		
二		
三		
四		
五		
总分		



3. 把下面的扣子用你喜欢的方式先分类，再统计一下。



(1) 按照形状分类统计

合计	圆形	方形

(2) 还可以怎么分类呢？填一填。

合计		

四、我会算

1. 直接写得数

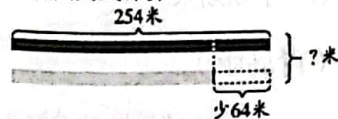
$630 + 240 =$	$40 + 70 =$	$13 - 5 =$	$470 - 220 =$
$56 \div 7 =$	$60 + 80 =$	$37 - 27 =$	$5000 - 3000 =$
$300 + 70 =$	$110 - 20 =$	$54 \div 6 =$	$26 + 64 =$
$720 - 120 =$	$70 + 50 =$	$130 - 90 =$	$72 \div 9 =$
$7000 + 300 =$	$28 \div 7 =$	$42 \div 6 =$	$980 - 460 =$

2. 写出竖式计算（带※要保留验算竖式）

$328 + 476 =$	$\times 703 - 594 =$	$67 \div 7 =$
---------------	----------------------	---------------

3. 计算  $648 + 352 - 517 =$   $860 - 354 - 198 =$

4. 看图列式计算



五、解决问题我能行

1.



(1) 妈妈带了 30 元钱，最多能买几份 ？

答：最多能买（ ）份 .

(2) 如果要买 6 份 ，还差多少钱？

答：还差（ ）元钱。

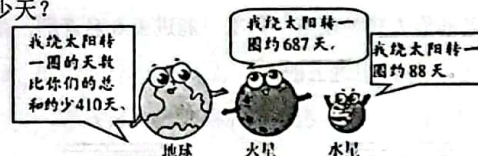
2. 餐厅原来有 38 千克苹果，又花 54 元买了一些。如果每千克苹果 6 元钱，现在餐厅有多少千克苹果？

答：现在有（ ）千克苹果。

3. 园林工人买了一批树苗，打算种在迎宾路上。种了 295 棵，还剩 124 棵没有种。园林工人买了多少棵树苗？

答：工人买了（ ）棵树苗。

4. 地球绕太阳转一圈大约是多少天？



答：地球绕太阳转一圈大约是（ ）天。