





2022—2023 学年第二学期学科素养期末综合

一年级数学

一、我会选。

- 下列数中, () 比 39 大且比 42 小。
A. 37 B. 40 C. 52
- $2\square < 25$, \square 中可以填的数字是 ()。
A. 4 B. 5 C. 6
- 李叔叔的年龄是一个两位数, 它的个位上是 5, 十位上是 4, 李叔叔 () 岁。
A. 54 B. 45 C. 49
- () 个同样的小正方形可以拼成一个大正方形。
A. 2 B. 4 C. 8
- 淘气排队买电影票, 他前面有 7 人, 后面有 22 人, 一共有 () 人排队买电影票。
A. 30 B. 29 C. 28
- 两个完全一样的正方形一定能拼成一个 ()。
A. 三角形 B. 正方形 C. 长方形
- 用  可以印出来的图形是 ()。
A.  B.  C. 
- 奇思有 56 个本子, 比妙想少得多, 妙想可能有 () 个本子。
A. 59 B. 90 C. 27
- 与 $64 - 30$ 的得数相等的算式是 ()。
A. $82 - 48$ B. $82 - 58$ C. $80 - 64$
- 妈妈买一件上衣 83 元, 付 100 元, 应找回 () 元。
A. 7 B. 17 C. 27

11. 一件上衣 64 元，一条裤子比它便宜 9 元，一条裤子（ ）元。

A. 45

B. 55

C. 73

12. 右边的图中共有（ ）个正方形。



A. 5

B. 4

C. 1

13. 淘气用 表示 21，那么 表示（ ）。

A. 21

B. 31

C. 13

14. 小猫钓了 24 条鱼，比猫妈妈少钓了 6 条，猫妈妈钓了（ ）条鱼。

A. 18

B. 22

C. 30

15. 如右图，小红看到的是（ ）。


A.



B.



C.



二、我会填。

1. 找规律，填数字。

27, 25, 23, (), (), ()。

2. 最大的两位数是（ ），它再添上 1 就是（ ）。

3. 比 42 多 6 的数是（ ）；比 33 少 8 的数是（ ）。

4. 猜猜我是谁？

27 比我多 6。

()

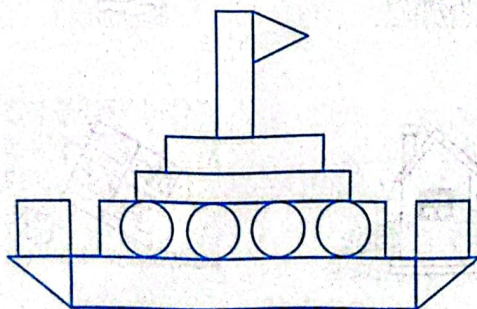
我比 19 少 6。

()

我再添上 5 就是 32。

()

5. 你认识这些图形吗？数一数，图中每种图形各有几个？



长方形	正方形	圆	三角形
()个	()个	()个	()个

6. 在○里填上“>”“<”或“=”。

$29+32$ ○ $32+29$ $36-8$ ○ $36+8$ 62 ○ $64-3$ $77-8$ ○ $77-9$

7. 小东可能拍了多少下？在你认为合适的答案下面画“√”。

我拍了 46 下。



亮亮



小东

我拍的比你多得多。

25下	49下	92下

三、我会算。

1. 直接写出得数。

$36-4=$

$60-4=$

$68+12=$

$50+30+20=$

$100-60=$

$22+60=$

$13-8=$

$12+12-12=$

2. 用竖式计算。

$45+33=$

$86-68=$

$100-36=$

$55+27=$

四、我会连。

1. 它们拍到的分别是什么？连一连。



2. 连一连，按虚线折起来的样子。



五、我会解决问题。

1. 一共摘了多少个苹果？

$$\square \bigcirc \square = \square \text{ (个)}$$

答：一共摘了_____个苹果。

我摘了 15 个苹果。



我摘了 13 个苹果。

2. 还要种多少棵树？

$$\square \bigcirc \square = \square \text{ (棵)}$$

答：还要种_____棵树。

一共要种 30 棵树。



已经种了 15 棵树。

3. 妈妈买了一袋饼干，里面有 26 块，笑笑吃了 7 块后，还剩多少块饼干？

$$\square \bigcirc \square = \square \text{ (块)}$$

答：还剩_____块饼干。

4. 学校运动队买了一些体育用品。




比  少买 9 个


25 个

比  多买 18 个


(1)  买了多少个？

$$\square \bigcirc \square = \square \text{ (个)}$$

答：  买了_____个。

(2)  买了多少个？

$$\square \bigcirc \square = \square \text{ (个)}$$

答：  买了_____个。