

2022-2023 学年度第二学期学习效果评估

四年级数学

题号	一	二	三	四	五	六	七	总分
得分								

考生注意：本试卷满分 100 分，考试时间 90 分钟。

得分	评卷人

一、认真填一填。(每空 1 分，共 25 分)

- 3.25 由 3 个 ()，2 个 () 和 5 个 () 组成。
- 20 厘米 = () 米 50 克 = () 千克
5 元 5 角 = () 元
- 在一个直角三角形中，两个锐角之和是 () 度。
- 钝角三角形中有一个角是 () 角，有两个角是 () 角。
- 2.5 的 8 倍是 ()，2 个 1.6 的 5 倍是 ()。
- 若 $8+a=b+7$ ，则 a () b 。(填“>”“<”或“=”)
- 一辆公交车上有乘客 40 人，中途下去 x 人，又上来 8 人，现在车上有乘客 () 人。
- 在○里填上“>”“<”或“=”。
 5.3×1.2 ○ 5.3 5.43×0.99 ○ 5.43 4.84×0.9 ○ 0.9
- 如果 $25 \times 25 = 625$ ，那么 $2.5 \times 25 =$ ()， $2.5 \times 2.5 =$ ()， $250 \times 2.5 =$ ()。
- 一个两位小数保留一位小数后的结果是 0.5，这个两位小数最小是 ()，最大是 ()。
- 计算 $3.24 \times 5.68 + 6.76 \times 5.68$ 可以运用 () 使计算变得简便。
- 长方形、正方形、平行四边形和梯形都是 () 边形，其中 () 和 () 是轴对称图形。

得分	评卷人

二、细心判一判。(对的打“√”，错的打“×”，每小题 1 分，共 5 分)

- 小数都比整数大。 ()
- 有一个角是锐角的三角形叫锐角三角形。 ()
- $5.86 \times 101 = 5.86 \times 100 + 5.86$ 。 ()
- 图形之间没有空隙，也不重叠，是密铺。 ()



5. 长方形是特殊的平行四边形。

()

得分	评卷人

三、精心选一选。(把正确答案的序号填入括号内，每小题 2 分，共 10 分)

1. 下面图形中，具有稳定性的是 ()。



2. 下面各式子中，() 不是方程。

A. $3x=2.7$

B. $2a=0$

C. $x+2x$

3. $a \times b \times 2$ 用简便方法表示是 ()。

A. $2ab$

B. $2 \times ab$

C. $2 \times (a+b)$

4. 计算 $4.5+5.5 \times 0.2$ 的结果是 ()。

A. 20

B. 5.6

C. 2

5. 下面与 2.4 分米不相等的是 ()。

A. 0.24m

B. 2.40dm

C. 2.04dm

得分	评卷人

四、计算小能手。(共 27 分)

1. 口算。(5 分)

$1-0.7=$

$0.5+2.5=$

$0.7 \times 9=$

$10 \times 0.01=$

$0.03 \times 7=$

$0.8 \times 100=$

$1.2 \times 0.3=$

$0.13 \times 3=$

$20 \times 0.5=$

$2.8 \times 0.2=$

2. 列竖式计算。(6 分)

$2.4 \times 6.7=$

$0.247 \times 3.4=$

$6.3 \times 10.1=$

$250 \times 1.3=$

$5.74+2.6=$

$8.6-3.08=$

3. 用你喜欢的方法计算。(8 分)

$3.8+5.46+2.2$

$2.8 \times 0.5+0.1 \times 2.8$



$$0.25 \times 7.9 \times 0.4$$

$$8.56 \times 101 - 8.56$$

4. 解方程。(8分)

$$x + 23.5 = 50$$

$$8x + 12 = 260$$

$$x \div 0.8 = 1.25$$

$$34 + 2x = 48$$

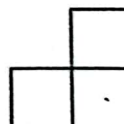
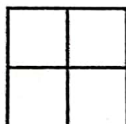
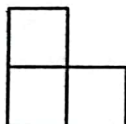
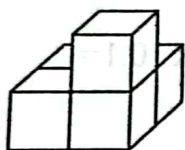
得分	评卷人

五、慧眼识图连一连。(共3分)

从上面看

从正面看

从右面看



得分	评卷人

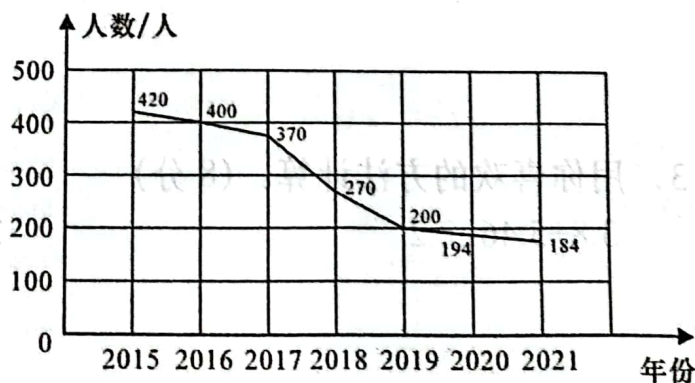
六、我学会了统计。(共6分)

如图是某个地区人口出生情况统计图，看图回答下列问题。

(1) () 年出生的人口最多，() 年出生的人口最少。

(2) () 年至 () 年人口下降的最快。

(3) () 年至 () 年人口下降的最慢。



得分	评卷人


七、解决问题我最棒。(共 24 分)

1. 一块长方形菜地，长 10.6m，宽 6.5m，全部用来种黄瓜，如果每平方米产黄瓜 4kg，这块菜地共产黄瓜多少千克？（5 分）

2. 动物园里比身高，小鹿高 1.94m，鹿妈妈高 2.38m，鹿爸爸的身高比小鹿与鹿妈妈身高之和少 0.25m，鹿爸爸身高多少米？（6 分）

3. 小明、小红比赛投球。小明投中了 31 分，比小红投中的 2 倍少 5 分。小红投中了多少分？（列方程解答，6 分）

4. 下面是图书馆上星期 5 天借书人数的统计。（7 分）



(1) 星期（ ）去图书馆借书的人数最多，星期（ ）去图书馆借书的人数最少。（2 分）

(2) 上星期 5 天平均每天有多少人去图书馆借书？（5 分）

