


# 一年级下册数学综合练习

计分\_\_\_\_\_

## 一、填空。（每小题2分，共24分）

1.

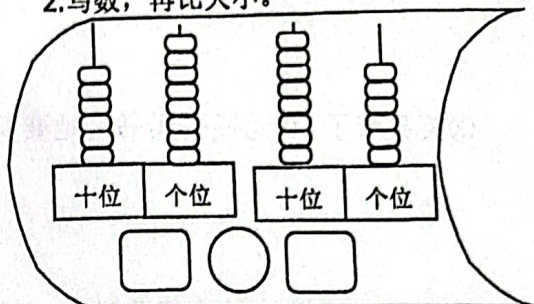


数一数

☆有（ ）个

\*有（ ）个

2.写数，再比大小。



3.写出十位上是8的所有两位数：\_\_\_\_\_

4.（ ）个十和（ ）个一是48。。71里面有（ ）个十和（ ）个一。

5.看一看，再填数：33，36，39，（ ），（ ）

6.用3、5、6三个数字中的两个数组成两位数，最大的数是（ ），最小的是（ ）。

7.右图中有\_\_\_\_\_个△，有\_\_\_\_\_个□。



8.

$$\begin{array}{r} 36 \\ - 2\heartsuit \\ \hline 7 \end{array} \quad \heartsuit = ( )$$

$$\begin{array}{r} 50 \\ - \text{wavy line} \\ \hline 14 \end{array} \quad \text{wavy line} = ( )$$

9.在○里填上“<”“>”或“=”。

$$38+52 \bigcirc 54+37$$


$$68-42 \bigcirc 68-43$$

10. 有（ ）个面是圆形， 每个面都是（ ）形。

11.接着画下去： \_\_\_\_\_

12.一只鸡妈妈在草地上看见13只小公鸡和17只小母鸡在玩耍。草地上一共有（ ）只鸡。

二、他们分别看到了哪一面？  
用线连一连。  
(3分)





### 三、计算（共18分）

1. 直接写出得数。（10分）

$16+8=$

$43-30=$

$62-6=$

$23+9=$

$50+25=$

$16-8=$

$34-17=$

$49-27=$

$75+5=$

$61-4=$

2. 用竖式计算。（8分）

$70-17=$

$44+16=$

$39+29=$

$100-45=$

### 四、想一想，画一画，分一分。（共2+2+6=10分）

1. 商店里有苹果80袋。



梨比苹果少得多。



香蕉比苹果少一些。

梨可能有多少袋？（画○）

香蕉可能有多少袋？（画√）

|     |     |     |     |
|-----|-----|-----|-----|
| 85袋 | 75袋 | 55袋 | 15袋 |
|     |     |     |     |

2.

这瓶黑豆有20粒。



这瓶黑豆大约有多少粒？

在你认为合适的答案下面画“√”。

|     |     |      |
|-----|-----|------|
| 30粒 | 60粒 | 100粒 |
|     |     |      |

3. 按不同的标准分下面的图形，一直分下去。



五、游戏。(3+3+3=9分)

1. 打靶。

85~95

填什么数，才能打中？



25+\_\_\_\_\_

30+\_\_\_\_\_

48+\_\_\_\_\_

2. 小朋友们套圈，每次套两个。



A. 15分 B. 24分 C. 18分 D. 29分

①淘气得39分。他套中的是：\_\_\_\_\_和\_\_\_\_\_。

②笑笑得分第二，她套中的是\_\_\_\_\_和\_\_\_\_\_。

③小明得分最少，他套中了\_\_\_\_\_和\_\_\_\_\_。

3. 猜一猜。



我比47大28。



我减去32就是40。




我加上35就是57。



六、解决问题。(每问3分。36分)

1.



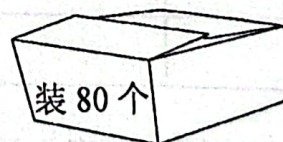
小鸡和小鸭一共有多少只？

$$\square \bigcirc \square = \square \text{ (只)}$$

小鸭比小鸡少多少只？

$$\square \bigcirc \square = \square \text{ (只)}$$

2. 把茶杯全部放进箱子里，能装得下吗？算一算。



3. 图书角的图书借出34本后还有50本，图书角原来有多少本书？



4.



①一本语文书比一本英语书便宜多少元?

②淘气有 20 元钱, 买 1 本数学书, 还剩多少元?

③笑笑带了 50 元钱去买书, 她要买 1 本语文和 1 本英语书, 钱够吗?

5. 小东买一双鞋, 付给营业员 60 元钱, 找回 32 元。小东买的这双鞋多少元?

6.



①淘气有多少张邮票?

②高高有多少张邮票?

7.

幼儿园小朋友一分钟跳绳成绩表

| 姓名 | 刘平 | 张晓 | 李月 | 合计  |
|----|----|----|----|-----|
| 成绩 | 42 | 25 |    | 100 |

①张晓要多跳多少下, 就和刘平一样多?

②李月跳了多少下?