



2022-2023 学年度第二学期期末教学质量评估

一年级数学 冀教版

(时间: 60分钟 满分: 100分)

注意事项 1. 选择题部分必须使用2B铅笔填涂, 非选择题部分必须用0.5毫米的黑色签字笔书写。要求字体工整、笔迹清楚。 2. 请按照题号顺序在相应的答题区域内作答, 超出答题区域书写的答案无效。 3. 保持卷面清洁, 不要折叠, 不要弄破。	填涂样例 正确填涂 <input checked="" type="checkbox"/> <input checked="" type="checkbox"/> 错误 <input type="checkbox"/> <input type="checkbox"/> <input type="checkbox"/> <input type="checkbox"/> 填涂 <input type="checkbox"/> <input type="checkbox"/> <input type="checkbox"/> <input type="checkbox"/> 缺考 <input type="checkbox"/> 违纪 <input type="checkbox"/>	条形码粘贴处
---	--	--------

题号	一	二	三	四	五	六	七	八	总分
得分									

一、直接写得数。(10分)

$$\begin{array}{llll}
 60 + 6 = & 8 + 51 = & 20 + 50 = & 22 + 23 = \\
 19 + 57 = & 73 - 30 = & 38 - 8 = & 94 - 54 = \\
 54 - 32 = & 73 - 37 = & &
 \end{array}$$

二、判一判。(10分)

- 时针指向6, 分针指向12, 是12时30分。 ()
- 用2张5角的钱可以换10张1角的钱。 ()
- 😊 中, 😊 在 ♡ 的上面, ♡ 在 😊 的下面。 ()
- 圆柱的上下两个面都是正方形的。 ()
- 张老师带领48名同学去公园, 每人一张票, 一共要48张票。 ()

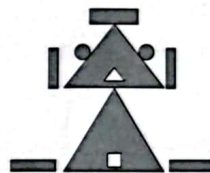
三、填一填。(24分)

- 如图所示的交通信号灯, 最上面的是_____灯, 最下面的是_____灯, 从下往上数, 排第_____的是黄灯。



- 某小区小卖部一天卖出了55个冰棍。则55读作_____, 其中左数第一个“5”表示5个_____, 第二个“5”表示_____。

- 右图中, 长方形有_____个, 圆有_____个, 正方形有_____个, 三角形有_____个, 共有图形_____个。



- 2张 , 2张 和5枚 共是_____。

- 如右图, 分针指着_____, 时针指着_____和_____中间, 是_____, 也可以写成_____。



- 找规律, 填一填, 画一画。

(1)

22	35
57	

13	52
65	

13	14
27	

50	
80	

(2) ○ □ ☆ △ ○ □ ☆ △ ○ □ ☆ △ ○ □ () ()

- 比一比。

$15 \bigcirc 25$

$2\text{元}3\text{角} \bigcirc 3\text{元}5\text{角}$

$8 \bigcirc 39 - 36$


$26 + 15 \bigcirc 56 - 15$



xuǎn yi xuǎn



四、选一选。(10分)

- [A] [B] [C]
- [A] [B] [C]
- [A] [B] [C]
- [A] [B] [C]
- [A] [B] [C]



1. 用  可以画出的图形是 ()。
- A. 圆 B. 三角形 C. 正方形

2. 如图,左边的盘子里可能有 () 块糖。
- A. 10 B. 60 C. 30
- 

- ? 块
50块

3. $50+3$ 的和十位上是 ()。
- A. 8 B. 9 C. 8或9
4. 将一个正方形对折一次折成相等的两部分,这相等的两部分的图形不可能是 (),
- A. 三角形 B. 长方形 C. 正方形
5. 一个  35元5角,一个  12元5角,各买一个共需要付 ()。
- A. 48元5角 B. 48元 C. 47元

huà shí zhēn
五、画 时 针。(6分)



12:00



3:00



大约12时

rèn wèi zhì
六、认 位 置。(10分)

1. 6的 () 面是5和2;
9的 () 面是2和7。
2. 5的上面是 ();

1	9	4
5	2	6
8	7	3

5的下面是 ()。

3. 4和9在1的 () 面。

shù shì jì suàn

七、竖 式 计 算。(12分)

$46+26=$ $71-35=$ $57+8=$ $84-43=$

jiě jué wèn tí

八、解 决 问 题。(18分)

1. 某村去年建造了58个大棚,今年建造的大棚数比去年多18个,今年建造的大棚数是多少个?

2. 河里原来有35只小鸭子,游走一些后,还剩下9只,游走了几只?

3. 为了增强学生体魄,朝阳小学组织了课后体育小组,跑步小组有86人。

跳远的可能有多少人? (画“○”) 跳绳的可能有多少人? (画“√”)

88人	12人	76人

