

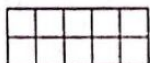
## 数学试卷

座号

题号	一	二	三	四	五	六	七	八	总分
得分									

得分

一、按分数涂一涂。(4分)

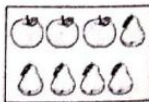
 $\frac{1}{3}$  $\frac{3}{8}$  $\frac{9}{10}$  $\frac{5}{6}$ 

得分

二、填空。(每空1分,共28分)

- 15个24相加的和是( ),35的40倍是( )。
- 边长是1米的正方形的面积是( )平方米。
- 3个 $\frac{1}{7}$ 是( ),读作:( )。
- $896 \div 8$ ,商的最高位是( )位,商是( )。
- 在( )里填上合适的单位名称。
  - (1)笑笑的身高约是135( );
  - (2)一个西瓜约重6( );
  - (3)一辆客车约装货4( );
  - (4)北京到郑州的铁路长约696( );
  - (5)数学课本封面长约26( ),它的面积约是5( )。
- 3平方米=( )平方分米      5000平方厘米=( )平方分米  
2吨=( )千克      8000克=( )千克
- 正方形有( )条对称轴。

- 右图中,苹果占全部水果的( ),梨占全部水果的( )。



- 在( )里填上“>”、“<”或“=”。

$42 \times 35$  ○  $42 \times 34$

$156 \div 3$  ○  $156 \div 4$

$28 \times 13$  ○  $14 \times 26$

$1 - \frac{3}{4}$  ○  $1 - \frac{2}{3}$

- 估算  $79 \times 61$ ,可以把79看作( ),把61看作( ),结果大约是( )。

- 一个苹果重250克,4个苹果重( )千克。

得分

三、把52支铅笔平均分给4个班,每个班分到多少支? 分一分,算一算。(8分)



$\square \bigcirc \square = \square$  ( )

- (1)我们可以这样想:用小棒代替铅笔分一分,每个班分1筒后,还剩( )筒和( )支,共( )支。再平均分给4个班,每班分到( )支。最后每班共分得( )支。

- (2)用竖式表示:

$$\begin{array}{r}
 1 \square \\
 4 \overline{) 52} \\
 \underline{4} \phantom{0} \dots\dots \text{分掉了} ( ) \text{个十} \\
 1 \square \phantom{0} \dots\dots \text{还剩下} ( ) \text{个十和} ( ) \text{个一} \\
 \underline{\phantom{00}} \phantom{0} \dots\dots \text{分掉了} ( ) \text{个一} \\
 \phantom{00} \phantom{0}
 \end{array}$$

得分

四、选择题。(6分)

- 商中间有0的是( )。
  - A.  $960 \div 8$
  - B.  $416 \div 4$
  - C.  $205 \div 5$
- 与  $546 \div 2 \div 3$  的结果相同的是( )。
  - A.  $546 \div 2 \times 3$
  - B.  $546 \times 2 \div 3$
  - C.  $546 \div (2 \times 3)$
- 下列图形不是轴对称图形的是( )。
  - A.
  - B.
  - C.
  - D.
- 李叔叔要把127个西瓜全部装箱,每箱装5个,至少要准备( )个包装箱。
  - A. 25
  - B. 26
  - C. 27
- 汽车在笔直的公路上行驶时,车身的运动属于( )现象,车轮的运动属



于( )现象。

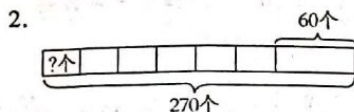
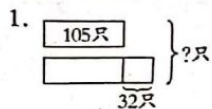
A. 平移

B. 旋转

C. 无法确定

得分

五、看图列式计算。(6分)



得分

六、计算。(共20分)

1. 直接写得数。(6分)

$125 \times 4 =$

$330 \times 20 =$

$100 - 65 =$

$16 \times 5 =$

$2000 + 800 =$

$101 \times 5 =$

$56 \div 4 =$

$84 \div 4 =$

$\frac{1}{2} + \frac{1}{2} =$

$\frac{2}{8} + \frac{3}{8} =$

$1 - \frac{4}{5} =$

$\frac{9}{10} - \frac{2}{10} =$

2. 竖式计算。(8分)

$434 \div 7 =$

$47 \times 28 =$

$840 \div 8 =$

$35 \times 13 =$

3. 脱式计算。(6分)

$820 \div 4 \times 6$

$228 + 72 \div 6$

$(393 + 167) \div 5$

得分

七、解决问题。(共22分)

1. 妈妈买了一块巧克力蛋糕,姐姐吃了蛋糕的 $\frac{3}{7}$ ,弟弟吃了蛋糕的 $\frac{2}{7}$ 。姐姐和弟弟一共吃了几分之几? 还剩几分之几?(6分)

2. 为了参加书法比赛,学校买了3盒钢笔,每盒有2支,一共花了108元,平均每支钢笔多少元?(4分)

3. (1)买26个书包需要多少元?(3分)

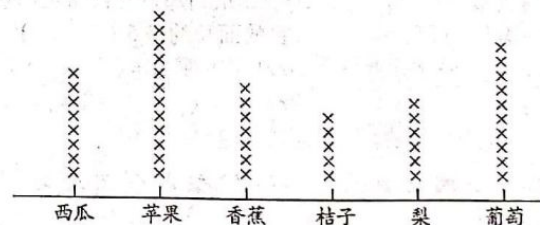


(2)买45个文具盒,1000元够吗?(3分)

4. 花园里有一块长方形草坪,长是80分米,宽是50分米,面积是多少平方分米?合多少平方米?(6分)

得分

八、下面是根据三(1)同学最喜欢吃的水果画的图。(6分)



1. 根据上图填一填。(3分)

水果种类	西瓜	苹果	香蕉	桔子	梨	葡萄
人数	( )人	( )人	( )人	( )人	( )人	( )人

2. 三(1)班共有( )名同学。

3. 三(1)班喜欢吃( )的人数最多,喜欢吃( )的人数最少。

