

衡阳市二零二三年春季期末质量检测卷

三年级 数学

(时间: 80 分钟 满分: 100 分)

一	二	三	四	五	六	总分

一、认真审题，填一填。(每空 1 分，共 25 分)

- 填上合适的单位或数。
300 平方厘米=() 平方分米 () 平方分米=7 平方米
一块地砖的面积是 80 () 6 分米=() 米(填小数)
22 时是晚上() 时 5 年=() 个月
- 一台彩电售价 2 199 元，买 4 台大约要花() 元。
- $\square \div 59 = 6$ ，如果商是三位数， \square 里最小填()；如果商是两位数， \square 里最大填()。
- 按规律填数。
(1) 6.9, 7.2, 7.5, (), 8.1, ()。
(2) 10, 9.6, 9.2, (), (), 8。
- 李老师从家出发往西北方向走 600 米到学校，他放学沿原路返回应该沿着() 方向，走() 米到家。
- 欢欢的妈妈比欢欢大 24 岁，可是她俩过的生日次数一样多，妈妈的生日是() 月() 日。
- 小风 14:30 开始上网课，上了 70 分钟，网课结束时刻是()。
- 在 \bigcirc 里填上“>”“<”或“=”。
 $400 \div 5 \bigcirc 30 \times 3$ $1800 \div 3 \bigcirc 2000 \div 4$
 $1.5 \text{ 米} \bigcirc 20 \text{ 分米}$ $3.6 \text{ 元} \bigcirc 3 \text{ 元 } 6 \text{ 分}$
- 每套校服 78 元，买 51 套这样的校服，大约用() 元。
- 妈妈用 36 分米长的蕾丝边给方桌布做了一圈花边，方桌边长是() 分米，方桌面积是() 平方分米。

二、火眼金睛判对错。(对的画“√”，错的画“×”)。(每小题 1 分，共 5 分)

- 小数末尾的零可以不读。 ()
- 地图通常是按照上南下北左西右东绘制的。 ()
- 用 0、2、3、5 可以组成 6 个没有重复数字的两位数。 ()

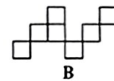
- 面积相等的长方形周长一定相等。 ()
- 东东在 4 月 31 日参加期中考试。 ()

三、选一选。(将正确答案的序号填在括号里)(每小题 1 分，共 8 分)

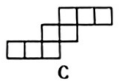
- 下面的图形中面积最小的是()。(每个小正方形的面积是 1 平方厘米)



A



B



C

- 一次跳远比赛，小亮跳了 18 分米，小刚跳了 2.1 米，小新跳了 2 米 2 分米，他们当中() 跳得最远。
A. 小亮 B. 小刚 C. 小新
- 下列年份不是闰年的是()。
A. 2020 年 B. 1884 年 C. 2700 年
- 下面的涂色部分的面积不能用 0.4 表示的是()。



A



B



C

- 下面算式的商最接近 80 的是()。
A. $540 \div 6$ B. $241 \div 3$ C. $486 \div 6$
- 4 个好朋友聚会坐一排，一共有() 种坐法。
A. 8 B. 12 C. 24
- 一列动车在沈阳、长春、哈尔滨 3 个城市往返，需要制作() 种不同的车票。
A. 3 B. 4 C. 6
- 8 个同学一共剪 77 个窗花，平均每个同学大约剪了() 个窗花。
A. 12 B. 11 C. 10

四、细心的你，算一算。(共 28 分)

- 直接写出得数。(每小题 1 分，共 8 分)

$$\begin{array}{llll} 800 \div 4 = & 30 \times 50 = & 1.5 - 0.7 = & 84 \div 4 = \\ 240 \times 3 = & 52 \times 38 \approx & 729 \div 8 \approx & 99 \times 38 \approx \end{array}$$

- 列竖式计算，带 Δ 的要验算。共 20 分，每题 3 分，验算每题 4 分)

$$12 - 9.8 = \quad 35.4 + 6.7 = \quad \Delta 700 \div 9 =$$

38×29=

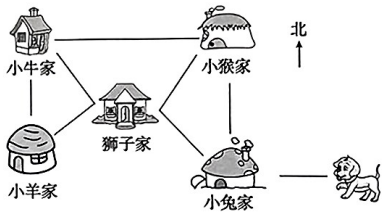
98×54=

△425÷7=

2. 教室的一面墙壁长 6 米，高 3 米，墙上有一个长 2 米，高 1 米的窗户，粉刷这面墙壁每平方米需要 2 千克油漆，一共需要多少千克油漆？(5 分)


五、动手操作，我能行。(共 7 分)

1. 填空 (4 分)



小牛家在狮子家的()方向，小羊家在小兔家的()面。
小猴家在狮子家的()方向，在小兔家的()面。

2. 在下面方格中画出与图中已知长方形面积相等的正方形。(3 分)



六、聪明的你，答一答。(共 27 分)

1. 实验二小的课外社团搞得如火如荼，其中创客、人工智能、编织活动室每次都爆满。
每个活动室有 4 排，每排 12 个座位。这三个活动室一共有多少个座位？(5 分)

4. 给长 6 米，宽 4 米的长方形客厅地面铺地砖。如果用边长是 2 分米的正方形地砖铺地面，一共需要多少块？如果每块地砖 5 元，一共需要多少元？(6 分)

5. 军军一家 10: 30 乘船从甲地出发前往乙地，两地相距 360 千米，船预计 16: 30 到达。
这艘船平均每小时行多少千米？(4 分)

3. 下面是两个文具店笔类上周销售情况统计表：

五星文具店					晨光文具店				
单位：支					单位：支				
蜡笔	毛笔	圆珠笔	铅笔	钢笔	蜡笔	毛笔	圆珠笔	铅笔	钢笔
140	120	230	180	200	120	110	270	240	210

(1)把上面两个统计表合并成一个统计表。(5 分)

数量 / 种类 店名	蜡笔	毛笔	圆珠笔	铅笔	钢笔
	五星文具店	晨光文具店	五星文具店	晨光文具店	五星文具店
五星文具店					
晨光文具店					

(2)晨光文具店的圆珠笔比五星文具店多卖多少支？(2 分)