

[illegible]

二年级数学第 1 页 (共 4 页)











第一关：火眼金睛（共 27 颗星）

1. 圈出正确的质量单位。


2. 在旋转现象下面画○，在平移动现象下面画△ 在轴对称图形下打“√”



() () () ()

4. 画一画:           第21个图形是 ()
数一数: 6780, (), 6980, (), 7180。

③最大的四位数是（ 9999 ），最小的四位数是（ 1000 ）。

根，这一堆共有（ ）根。再添（ ）根，正好能摆6个 

7. 一根绳子长 16 米，对折两次后，将绳子平均分成（ ）段，每段长（ ）米。

第二关：神机妙算（共25颗星）

1.速算。1700-900= 500+400= 9÷1= 8×8=

250+40= 2600-2000= 42÷6= 63÷9=

2.列竖式计算。

 $40 \div 5 =$ $46 \div 7 =$ $73 \div 9 =$ $35 \div 8 =$

3. 脱式计算。

 $78 - (16 + 23)$ $36 \div 6 \times 2$ $29 - 40 \div 5$

二年级数学第2页(共4页)



扫描全能王 创建

第三关：能工巧匠 (共 15 颗星)

1. 下面是二年 (1) 班男同学的身高，具体如下

110 厘米以下	110-120 厘米	120-130 厘米	130 厘米以上
△ △ △ △	√ √ √ √ √ √	正 正 一	正

(1) 把上面的统计结果填入下表中。


身高	110 厘米以下	110-120 厘米	120-130 厘米	130 厘米以上
人数				

(2) 身高是 () 的男生最多，身高是 () 的男生最少。

(3) 身高是 120-130 厘米的男生比身高是 130 以上的男生多 () 人。这个班一共有 () 名男生。

(4) 由此可以看出什么？你能提出什么建议？

2. 画图表示 $14 \div 4 = 3 \dots 2$ 的含义。



第四关：启智增慧 (共 33 颗星)

1. 舞蹈队有 24 个同学跳孔雀舞。

(1) 如果排成 5 行，平均每行几个同学，还多几个？

(2) 你能设计一个排列方案，正好排完，没有多余的同学吗？

画一画：

算一算：

1. 购物小能手。



洗衣机 2800 元 风扇 528 元 电视机 3098 元 冰箱 5000 元

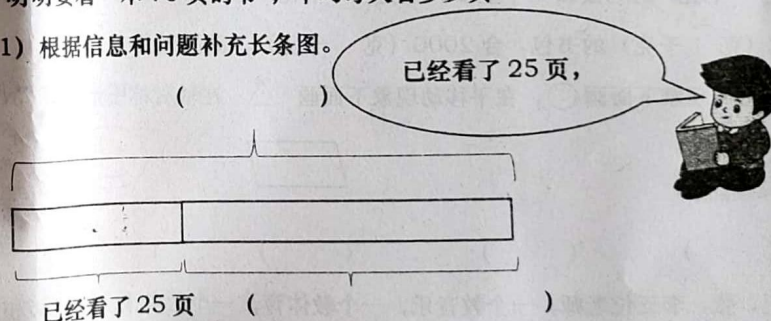
(1) 买一台洗衣机和一台冰箱一共要多少元？

(2) 爸爸想买一台电风扇和一台电视机，带 4000 元够吗？

2. 一位老师带着 43 名同学去郊游，每 5 人租一辆，至少要租多少辆车？

3. 明明要看一本 70 页的书，平均每天看多少页？

(1) 根据信息和问题补充长条图。



(2) 你会列综合算式表示解答过程吗？

