

2022-2023 学年度下学期期末学业质量评价

三年 数学

(时间: 60 分钟 满分: 100 分)

一、填一填。(30分)

1. 48×25 的积是()位数, 积的末尾有()个0。 $608 \div 4$ 商的最高位是()位。

2. 把一张长方形纸平均分成6份, 取其中1份是 $\frac{(\quad)}{6}$, 取()份是 $\frac{5}{6}$ 。

3. 52×39 的积大约是(), 准确积是()。

4. 神舟飞船升向天空时, 属于()现象。当它进入预定轨道, 绕地球飞行时, 属于()现象。

5. 按规律填空。(1) $\frac{1}{8}$ 、 $\frac{3}{8}$ 、 $\frac{5}{8}$ 、()。

(2) $\frac{3}{10}$ 、 $\frac{4}{9}$ 、 $\frac{5}{8}$ 、()。

6. 一块面积是 56dm^2 的长方形台布, 长是 8dm , 它的周长是() dm 。

7. 在○里填上“>”“<”或“=”。

$$\frac{3}{5} \bigcirc \frac{3}{7} \quad \frac{8}{8} \bigcirc 1 \quad \frac{5}{9} \bigcirc \frac{8}{9} \quad 28 \times 32 \bigcirc 30 \times 30$$

$$240 \div 3 \bigcirc 240 \div 6 \quad 522 \div 6 \bigcirc 364 \div 7 \quad 80\text{cm}^2 \bigcirc 8\text{dm}^2$$

$$9000\text{dm}^2 \bigcirc 9\text{m}^2 \quad 6\text{吨} \bigcirc 6000\text{克}$$

8. 要使 $\square 42 \div 6$ 商是三位数, \square 最小填()。

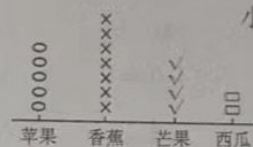
9. 在()里填上合适的单位。

楠楠的体重是45()。他家客厅地面面积是30()。周日他和妈妈乘坐载重是1()的电梯下楼去超市, 买了一个重4()的西瓜, 还买了一盒饼干重850(), 这盒饼干的底面是正方形, 面积是4()。

10. 生活中你见过很多轴对称图形, 请写出两个()和()。

二、辨一辨。(5分)

1. 小爽统计出同学们喜欢吃不同水果的人数。()



2. 笑笑在一张边长是 1dm 的正方形的纸上画了一个长 18cm , 宽 5cm 的长方形。()

3.
$$\begin{array}{r} 48 \\ \times 15 \\ \hline 240 \\ 480 \\ \hline \end{array}$$
 ()

表示 48×10

4. 肖肖请4名同学到家里庆祝生日, 妈妈买了一个生日蛋糕, 切了5块, 每个人都能分到这块蛋糕的 $\frac{1}{5}$ 。()

5. 被除数中间没有0, 商的中间就一定没有0。()

三、选一选。(5分)

1. 小明的爸爸体重是 65kg , 妈妈的体重比爸爸重 2000g , 爸爸和妈妈的体重一共是() kg 。

A. 132 B. 130 C. 128

2. 在下面一组数中有()个分数。

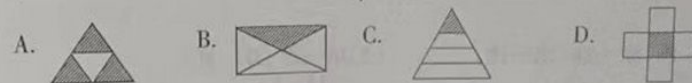
26 7.3 $\frac{3}{8}$ 0 $\frac{1}{17}$

A. 1 B. 2 C. 3

3. 15×4 的积再乘()与 150×40 的积相同。

A. 10 B. 100 C. 1000

4. 下面图形的阴影部分占整个图形 $\frac{1}{4}$ 的是()。



5. 最大两位数与最小两位数的积是()。

A. 900 B. 1089 C. 990

四、算一算。(30分)

1. 直接写得数。(6分)

$630 \div 3 =$

$110 \times 5 =$

$38 \times 4 =$

$390 \div 3 =$

$\frac{4}{8} + \frac{1}{8} =$

$40 \times 40 =$

$1.8 + 2.1 =$

$4 - 0.6 =$

$4000 \div 8 =$

$\frac{4}{9} + \frac{5}{9} =$

$60 \times 15 =$

$1 - \frac{4}{5} =$

2. 用竖式计算,带※的要验算。(12分)

$\text{※ } 704 \div 3 =$

$28 \times 33 =$

$6.8 + 2.4 =$

$84 \times 32 =$

$580 \div 5 =$

$960 \div 8 =$

3. 脱式计算。(12分)

$480 \div 4 + 162$

$(150 - 98) \times 31$

$603 \div 9 \times 25$

$54 \times (180 \div 3)$

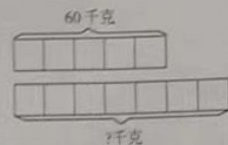
$900 - 28 \times 16$

$909 \div 3 \div 3$

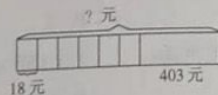
五、解决问题。(共30分,7题6分)

1. 看图列式解答。

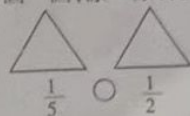
(1)



(2)



2. (1) 画一画,涂一涂,比一比。




(2) 填一填,算一算。

$24 \times 13 = (\quad)$

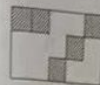
×			

3. 一箱红枣,第一天吃了它的 $\frac{3}{7}$,第二天吃了它的 $\frac{1}{7}$ 。



(1) 比一比哪天吃的多? (2) 多几分之几?

4. 每个小正方形的边长是1cm,这个大长方形的长是()cm,宽是()cm。算一算长方形的面积是多少 cm^2 ?



5. 一所学校有四层楼,每层有12个班,平均每班有45人,这所学校一共有多少人?

6. 超市进了610箱矿泉水,已经卖了75箱,剩下的计划5天卖完,平均每天卖多少箱?

7. 一条人行道长24米,宽3米,用面积是8平方分米的正方形地砖铺路,需要这样的地砖多少块?

如果改成边长是3分米的地砖铺路,需要这样的地砖多少块?