

小学数学二年级下册项目化练习题

时间：40 分钟

2023 年 7 月

考号
姓名
班级
学校

题
答
要
不
内
线
封
密

一、我会填。

1. $54 \div 9 = ()$ ，读作 ()，表示把 54 平均分成 () 份，每份是 ()；也可以表示 54 里面有 () 个 ()。根据乘法口诀 () 求商。

2. 一个四位数，它的最高位上的数是 6，个位上是最大的一位数，其余各位都是 0，这个数是 ()。与它相邻的两个数是 () 和 ()。

3. 钟面上时针的转动是 () 现象，分针从 12 走到 7，所经过的时间是 () 分钟。

4. 在 () 里填上合适的单位。

明明的身高是 140 ()，体重是 37 ()。

数学课本约重 150 () 一个篮球约重 450 ()

5. 一台空调的价格是 2023 元，约是 () 元。

6. 在 \bigcirc 里填上 “>” “<” 或 “=”。

$$24 \div 3 \bigcirc 40 \div 5$$

$$160 - 60 \bigcirc 160 - 59$$

$$4900 \text{ 克} \bigcirc 5 \text{ 千克}$$

7. 用 2、0、9、3 组成的四位数中，最大的是 ()，最小的是 ()。

8. 有 21 本故事书，平均分给 4 名同学，每名同学分到 () 本；再添 () 本就能让每名同学多分一本了。

9. 最大的四位数和最小的五位数相差 ()。

10. 把 $36 - 27 = 9$ ， $63 \div 9 = 7$ 合并成综合算式是 ()。

11. 有音乐、美术、数学三本书，小红、小刚和小丽各拿一本。小红拿的是音乐书，小丽拿的不是数学书。小刚拿的是 () 书，小丽拿的是 () 书。




二、我会判断。（对的打 “√”，错的打 “×”）

1. 读 6003 时，要读两个零。 ()



2. 一串彩灯，按“红、黄、绿、蓝”的顺序排列，则第 28 盏彩灯是蓝色。 ()
3. 1 千克棉花比 1000 克铁要轻。 ()
4. 把 24 块糖果分给 4 个小朋友，每人一定分得 6 块。 ()
5. 在有余数的除法中，余数一定小于除数。 ()

三、我会选择。

1. 下面算式中，余数是 5 的是 ()。
- ① $30 \div 6$ ② $25 \div 4$ ③ $54 \div 7$
2. 下列不是轴对称图形的是 ()。
- ①  ②  ③ 
3. 34 名同学去划船，每条船最多坐 6 人。至少要租 () 条船。
- ① 5 ② 6 ③ 7
4. $8\square26 > 853\square$ 里有 () 种填法。
- ① 4 ② 5 ③ 6
5. 一根绳子剪成 5 米一段，剪了 5 次，这根绳子长 () 米。
- ① 30 ② 25 ③ 20

四、我会算。

1. 直接写得数。

$$\begin{array}{lllll} 18 \div 2 = & 3700 - 700 = & 16 \div 2 = & 800 + 600 = & 6400 + 200 = \\ 5 \times 9 = & 72 \div 9 = & 54 + 36 = & 7 \times 6 = & 71 \div 8 = \end{array}$$

2. 列竖式计算。

$$22 \div 5 = \qquad 53 \div 6 = \qquad 56 \div 8 =$$



3. 脱式计算。

① $16 \div 2 \times 4$

② $64 - (27 + 28)$

③ $40 - 40 \div 5$

④ $(18 + 36) \div 9$

五、画图表示 $18 \div 3 = 6$ 的含义。



六、我会统计。

下面是二（1）班三位班长候选人得票统计情况。

王明	刘亮	张英
正正丁	正丁	正正正正一

（1）把统计结果填在下表中。

姓名	王明	刘亮	张英
票数			

（2）每位同学只投一票，那么参加投票的共有（ ）人。

（3）根据统计结果，应该选（ ）当班长。

（4）有两位同学缺勤没能参加投票，如果他们也投票，结果（ ）（“会”或“不会”）改变。

七、我会解决问题。

1. 一张纸可以剪 7 个五角星。要剪 36 个五角星，至少要用多少张纸？

2. 一段 60 米长的路，前 5 天修了 28 米，剩下的 4 天修完。平均每天修多少米？



3. 有 42 颗玻璃珠，平均分给小华和 6 个小朋友，每人分得几颗？

4. 象棋是中国传统益智棋类游戏。按照下面这样排列下去，第 38 枚棋子是什么？

兵 卒 相 士 炮 兵 卒 相 士 炮 ……

5. 李老师本来准备买 5 本故事书，你认为他怎样买更划算？



原价：每本 6 元。

注：购买 6 本及以上，

每本优惠 1 元。

6. 一共有 31 只小动物。动物酒店每间大房住 9 只，每间小房住 4 只。

(1) 如果都住大房，至少要住几间？

(2) 如果都住小房，最多可以住满几间？还余几只小动物？

(3) 大房和小房搭配，怎样安排能正好住满？

题

答

要

不

内

线

封

密

