

# 2022—2023 学年度(下)小学文化素质期末测试题

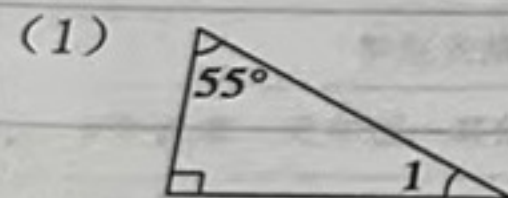
## 四年数学

题号	一	二	三	四	五	卷面分	总分
得分							

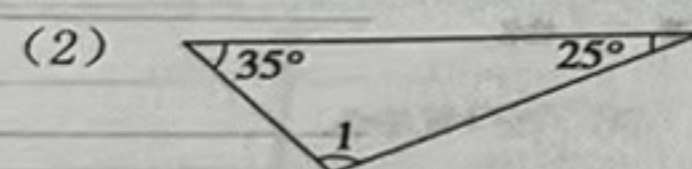
得分	评卷人

### 一、填一填。(每题2分,共20分)

- 0.064 里面有 ( ) 个千分之一; 6 个百分之一写成小数是 ( )。
- 1 吨 40 千克 = ( ) 吨      4 米 5 厘米 = ( ) 米
- 在 0.840, 0.804, 0.824, 8.004 这四个数中最大的是 ( ), 最小的是 ( )。
- 0.045 的 ( ) 倍是 45; 5.8 的  $\frac{1}{( )}$  是 0.058。
- 一个三角形中, 有两个角的度数分别是  $40^\circ$  和  $60^\circ$ , 那么另一个角是 ( ) $^\circ$ , 这是一个 ( ) 三角形。
- 找规律, 填一填: 9, 8.2, 7.4, ( ), 5.8, ( )。
- 根据  $24 \times 16 = 384$ , 在括号里填上适当的数。  
 ( )  $\times$  ( ) = 3.84      ( )  $\times$  ( ) = 0.384
- 写出下面各角的度数。



$\angle 1 = ( )^\circ$



$\angle 1 = ( )^\circ$

- 如果三角形的两条边的长分别是 4 厘米和 10 厘米, 第三条边也是整厘米数, 那么第三条边最短是 ( ) 厘米, 最长是 ( ) 厘米。


- 一份稿件共有  $a$  个字, 刘老师平均每分钟打  $b$  个字, 打了  $c$  分钟, 这时刘老师打完了 ( ) 个字, 刘老师还有 ( ) 个字没打完。

得分	评卷人

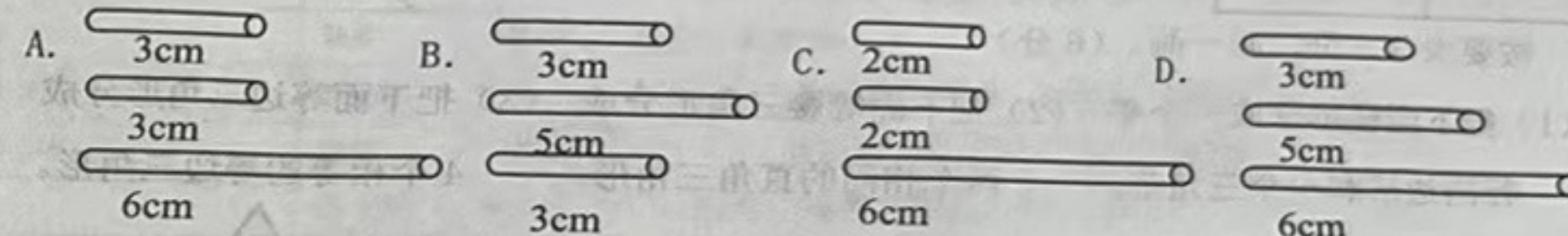
### 二、选一选。(每题2分,共10分)

- 下面各图中涂色部分可以用 0.2 表示的是 ( )。  
 A. B. C. D.
- 玲玲去买书, 她只有 15 元, 能够买下面哪两本书? 可以买 ( ) 和 ( )。  
 A. 6.95 元      B. 9.05 元      C. 8.40 元      D. 7.89 元

- 下面图形中 ( ) 不是梯形。



- 下面 ( ) 组小棒可以围成等腰三角形。



- 甲数是  $a$ , 比乙数多  $b$ , 表示甲、乙两数之和的式子是 ( )。

A.  $2a+b$       B.  $2a-b$       C.  $a+2b$       D.  $2a-2b$

得分	评卷人

### 三、算一算。(共26分)

- 直接写出得数。(8分)

$5.8 - 2.8 =$        $1.4 + 2.6 =$        $4.2 + 2.22 =$        $0.12 \times 4 =$   
 $2 \div 100 =$        $0.063 \times 100 =$        $0.054 \times 1000 =$        $64.9 \div 1000 =$

- 列竖式计算。(6分)

$14.52 + 4.68 =$        $8.5 - 6.48 =$        $5.08 \times 4.5 =$



3. 用简便的方法计算下面各题。(6分)

(1)  $12.7 + 0.96 + 0.04 + 5.3$

(2)  $5.26 \times 3.78 + 3.78 \times 4.74$

4. 解方程。(6分)

$5x = 70$

$4x - 15 = 45$

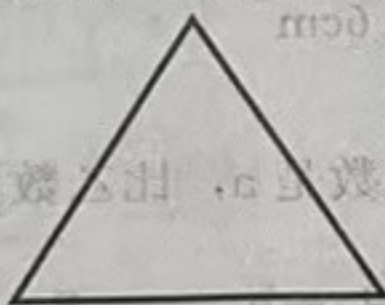


$6x + 7 = 43$

得分	评卷人

四、画一画。(共9分)

1. 按要求分一分,画一画。(6分)


- (1) 把下面梯形分成一个平行四边形和一个三角形。  
 (2) 把下面等腰三角形分成两个相同的直角三角形。  
 (3) 把下面等边三角形分成4个相等的等边三角形。



2. 在方格纸上画出从不同角度看到下面立体图形的形状。(3分)



正面



上面



左面

得分	评卷人

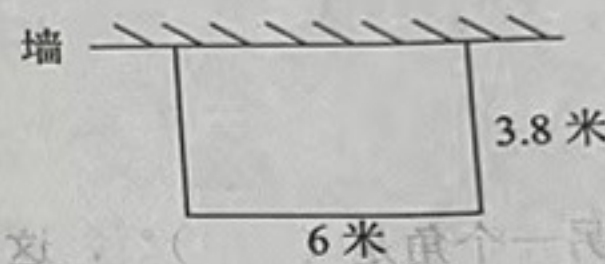
五、做一做。(每题5分,共30分)

1. 3年前,淘气比一棵小树高0.35米。现在这棵小树长到了2.35米,比3年前高了1.18米。3年前,淘气有多高?

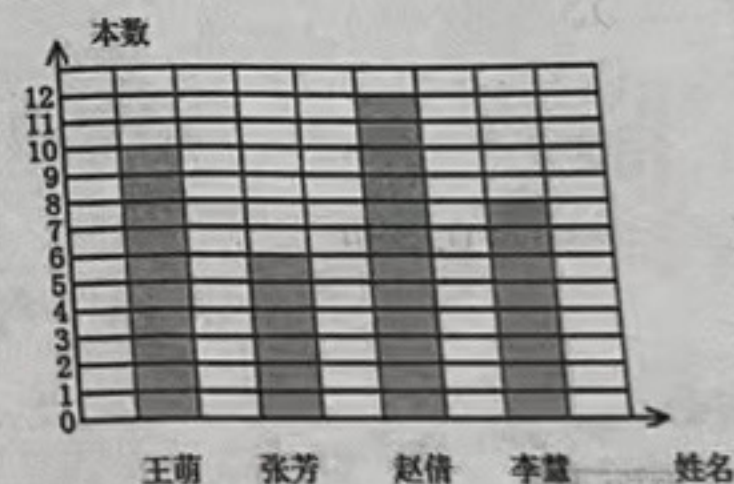
2. 李奶奶家买了1吨煤,平均每天烧12.24千克,已经烧了25天。这吨煤还剩多少千克?

3. 欣欣服装厂运来一批布,每套成人装需用布3.75米,每套童装需用布2.25米,这批布正好能做成人装和童装各40套,这批布共有多少米?

4. 李奶奶靠墙用篱笆围了一个长方形的菜园(如下图)。如果每平方米施肥0.8千克,这个菜园需要施肥多少千克?



5. 下面是四(1)班第一小组本学期阅读课外书本数的统计图。请根据统计图回答问题。



- (1) 本学期第一小组平均每人阅读多少本课外书?  
 (2) 请写出两条你从图中发现的数学信息。

6.

心里想一个数,把它乘4,再减去30,等于130。这个数是多少?

列方程试一试。



装订线

不要

答

题