

(满分 100 分, 70 分钟完成)

评分: _____

一、认真思考, 正确填空。(每题 2 分, 共 20 分)

- 25 平方米 = () 平方分米
- 40 的 8 倍是 (); () 的 7 倍是 560。
- 24×50 的积的末尾有 () 个 0; $618 \div 6$ 的商是 () 位数。
- 用分数表示下面各图的涂色部分。



()



()

- 下列运动是平移的画“△”, 是旋转的画“○”。



()



()

- 在括号里填上合适的单位。



体重 30 ()



载重 5 ()

- 在括号里填上 >、< 或 =。

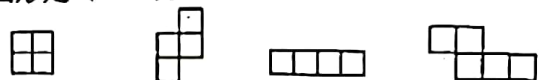
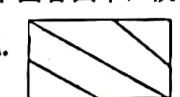


$$\frac{1}{5} () \frac{1}{4} \quad \frac{4}{5} () 1 \quad 1 () \frac{6}{6} \quad \frac{1}{2} () \frac{1}{4}$$

- 估算 61×49 时, 可以把 61 看作 60, 把 49 看作 (), 估算结果为 ()。

- 一块蛋糕平均分成 8 份, 1 份是这个蛋糕的 $(\frac{\quad}{\quad})$, 5 份是这块蛋糕的 $(\frac{\quad}{\quad})$ 。

- 一个正方形的周长是 32 厘米, 这个正方形的面积是 () 平方厘米。

二、选择题。(将正确答案的序号填在括号里)。(每题 2 分, 共 16 分)

- 笑笑妈妈的体重是 54 ()。
A. 克 B. 千克 C. 吨
- 下面 4 幅图形都是用相同的小正方形拼成的, 那么周长一样长的图形是 ()。

 ① ② ③ ④
 A. ①和③ B. ①和② C. ②和③
- 边长是 1 米的正方形的面积是 ()。
A. 1 米 B. 1 平方米 C. 4 平方米
- 下面各图中, 阴影部分可以用 $\frac{1}{4}$ 来表示的是 ()。
 A.  B.  C. 
- $606 \div 6$ 和 $816 \div 8$ 的商都接近 ()。
A. 120 B. 100 C. 10
- 400 元 () 买 16 个 24 元的书包。
A. 够 B. 不够 C. 正好



17. 爸爸买了一块蛋糕, 小华吃了这块蛋糕的 $\frac{2}{8}$, 妈妈吃了这块蛋糕的 $\frac{1}{8}$, 还剩 () 没有吃。

- A. $\frac{2}{8}$ B. $\frac{3}{8}$ C. $\frac{5}{8}$

18. 在一个长 8 米, 宽 6 米的长方形纸上剪掉一个最大的正方形, 剩余面积是 ()。

- A. 24 平方米 B. 16 平方米 C. 12 平方米

三、我会计算。(共 27 分)

19. 直接写得数。(8 分)

$$30 \times 40 = \quad 80 \times 50 = \quad 400 \div 5 = \quad 612 \div 6 =$$

$$\frac{3}{5} - \frac{1}{5} = \quad \frac{4}{7} + \frac{1}{7} = \quad 1 - \frac{5}{6} = \quad \frac{5}{9} + \frac{4}{9} =$$

20. 用竖式计算, 带*的要验算。(10 分)

$$16 \times 35 =$$

$$*735 \div 7 =$$

$$396 \div 9 =$$

21. 用递等式计算。(9 分)

$$600 - 200 \div 4$$

$$15 \times 6 \times 9$$

$$512 \div (2 \times 4)$$

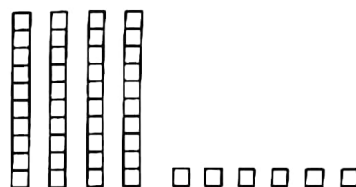
四、按要求做题。(共 7 分)

22. 想一想, 画一画。在轴对称图形下面画 \checkmark , 不是的画 \times 。(4 分)



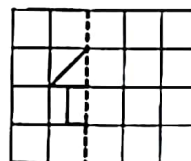
23. 算一算, 圈一圈。(3 分)

$$46 \div 2 = (\quad)$$

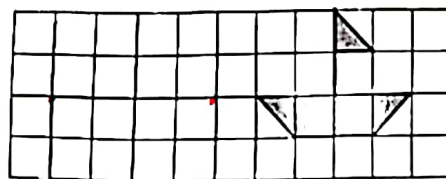


五、动手操作。(共 6 分)


24. 画出图中的轴对称图形的另一半。



25. 画出小船向左平移 5 格后的图形。



26. 画 2 个面积是 12 平方厘米的长方形。(每个小方格是 1 平方厘米)



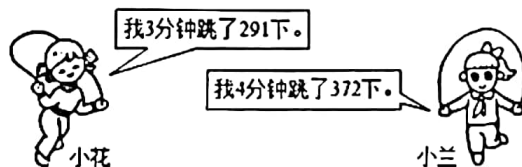
六、解决问题。(每题 6 分, 共 24 分)

27. 某专卖店新进了 80 个冰墩墩, 每个冰墩墩的进货价是 28 元, 该店这次购进冰墩墩一共用了多少元钱?

冰墩墩



28. 跳绳比赛。谁平均每分钟跳的次数多?



29. 一条围巾 22 元, 一双袜子 7 元, 妈妈用 50 元正好买了一条围巾和几双袜子。妈妈买了几双袜子?

30. 三(1)班同学“喜欢的动物”投票情况如下图(×代表 1 票)。



- (1) 喜欢 () 的同学最多。
- (2) 喜欢 () 的同学最少。
- (3) 三(1)班一共有多少名同学参与了投票?

