

# 厦门实小2022-2023学年第二学期二年级数学学科期末素养测评卷

姓名：\_\_\_\_\_ 班级：\_\_\_\_\_  
座位号：\_\_\_\_\_

## 注意事项


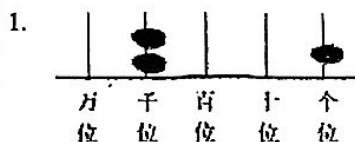
1. 答题前，考生先将自己的姓名、班级、考场填写清楚，并认真核对条形码上的姓名和准考证号。
2. 选择题部分请按题号用2B铅笔填涂方框，修改时用橡皮擦干净，不留痕迹。
3. 非选择题部分请按题号用0.5毫米黑色墨水签字笔书写，否则作答无效。要求字体工整、笔迹清晰。作图时，必须用2B铅笔，并描浓。
4. 在草稿纸、试题卷上答题无效。
5. 请勿折叠答题卡，保持字体工整、笔迹清晰、卡面清洁。

正确填涂

缺考标记



## 一、填空题



写作：( ) 读作：( )

2. 用3、0、5、9这四个数写出最大的四位数是( )，最小的四位数是( )，它们大约相差( )。

3. 由8个千、3个十和9个一组成的数是( )，它的最高位是( )位，与它相邻的两个数是( )和( )。

4.  $\star \div 7 = 9 \dots \triangle$  中， $\triangle$ 最大可以填( )，当 $\triangle$ 最大值时， $\star$ 是( )。

5. 35人坐船，每条船限乘8人，至少要( )条船。

6. 物体的运动是旋转的画“o”，是平移的画“—”。



( ) ( ) ( ) ( ) ( )

7. 6根香蕉大约1000克，18根香蕉大约重( )千克。

8.  $\circ \blacktriangle \square \circ \blacktriangle \square \circ \blacktriangle \square \circ \dots$  第25个图形是( )，第27个图形是( )。

9. 口袋里有十几个球，每次取走3个，取几次后正好能取完；每次取走4个，取几次后还剩3个，口袋里原有( )个球。

10. 一道除法算式，除数是9。壮壮把被除数的十位上的数字和个位上的数字看颠倒了，结果除得的商是6，这道题正确的商应该是( )。



11. 苹果和荔枝的价格如右表。妈妈买了1千克

苹果和500克荔枝，共花了( )元。

水果	价格
苹果	8元500克
荔枝	6元500克

12. 在下面的方格里，每行、每列都有1~4这四个数，并且每个数在每行、每列都只出现一次，A是( )，B是( )。

2			3
B	4		A
			2

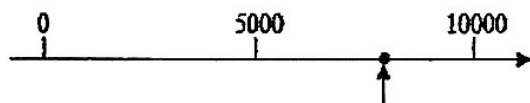
## 二、选择题

1. 下列图形中，不是轴对称图形的是( )



2. 右图中箭头所指的点大约表示( )。

A. 5200 B. 7800 C. 9100 D. 6000



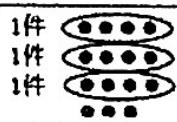
3. 每件衣服要钉4个扣子，一共有15个扣子，最多可以钉几件衣服？三位同学的做法中，正确的是( )。

A.

$$15 \div 4 = 2 \cdots 7$$

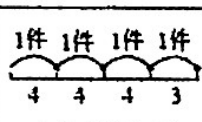
小东：最多钉2件。

B.



小西：最多钉3件。

C.



小北：最多钉4件。

D.

$$15 - 4 - 4 - 4 = 3$$

小南：最多钉4件。

4. 下面选项( )可以用算式  $8 \div 2 = 4$  来表示。

A. 有8个苹果，拿走了2个，还剩几个？

B. 有8个苹果，平均放在4个盘子，每个盘子放几个？

C. 有8个苹果，放在2个盘子，每个盘子放几个？

D. 有8个苹果，每个盘子放2个，可以放在几个盘子？

5. 17个苹果，每个小朋友分5个，可以分给几个小朋友？还剩几个？下边竖式中箭头所指的数表示( )。

A. 一共有15个苹果

B. 分掉了15个苹果

C. 还剩15个苹果

D. 分给15个小朋友

$$\begin{array}{r} 3 \\ 5 \overline{) 17} \\ \underline{15} \\ 2 \end{array}$$

### 三、计算题

#### 1. 口算

$42 \div 6 =$

$7 \div 7 =$

$1300 - 700 =$

$1000 + 400 =$

$700 + 900 =$

$34 \div 8 =$

$700 + 300 =$

$22 \div 3 =$

$60 + 80 =$

$54 \div 9 =$

$2400 - 2000 =$

$18 \div 9 =$

#### 2. 竖式计算

$38 \div 8 =$

$55 \div 7 =$

$47 \div 6 =$

$30 \div 5 =$

#### 3. 脱式计算

$64 - 64 \div 8$

$32 \div 4 \times 2$

$74 - 28 + 35$

$(82 - 28) \div 9$

### 四、解决问题

1. 某工程队修一条长100米的公路,已经修了55米,剩下的计划5天修完,剩下的平均每天修多少米?

答: 剩下的平均每天修 ( ) 米。

2. 有39箱苹果,王叔叔每次最多能运8箱,至少要运多少次才能运完这些苹果?

答: 至少要运 ( ) 次才能运完。

3. 妈妈想买1双袜子,买哪种最便宜?



(1) 35 元



(2) 9 元



(3) 24 元

答: 买第 ( ) 种袜子最便宜。

绘画	舞蹈	足球	围棋
正正正一	正正下	✱	正丁

(1) 把统计的结果填在下表中。

兴趣小组	绘画	舞蹈	足球	围棋
人数				

- (2) 参加( )兴趣小组的人数最少, 比参加绘画兴趣小组的人数少( )人。
- (3) 参加舞蹈的人数至少再增加( )人就可以超过绘画小组的人数。
- (4) 同学们最喜欢的两个兴趣小组一共有( )人。

5. 快乐的儿童乐园。



男生有16人,  
女生有8人。

过山车	每次 6 元	每辆坐 4 人
摇摆车	每次 9 元	每辆坐 6 人
碰碰车	每次 6 元	每辆坐 3 人

(1) 男生和女生都坐摇摆车, 需要几辆?

答: 需要( )辆。

(2) 有50元, 如果只坐碰碰车, 可以坐几次, 还剩多少元?

答: 可以坐( )次, 还剩( )元。

(3) 坐1次过山车和7次摇摆车, 最多可以坐多少人?

答: 最多可以坐( )人。

