








# 一年级数学综合练习题

## 一、我会选。(将正确答案序号填在括号里)

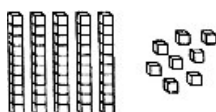
-  32 元,  的价格比  贵多了,  可能是( )元钱。  
 A. 35                                      B. 40                                      C. 96
- 一张 20 元人民币可以换( )张 5 元人民币。  
 A. 2    B. 4    C. 5
- 红领巾是( )的,我国的国旗是( )的。  
 A. 三角形                                  B. 正方形                                  C. 长方形
- 摆一个正方形,你会选择哪组小棒?( )  
 A.       B.       C. 
- 62 个 , 每 10 个装一盒,可以装满( )盒。  
 A. 8    B. 7    C. 6

## 二、我会填。

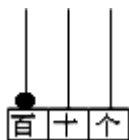
- 看图写数。



( )



( )



( )

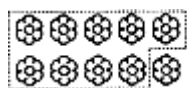
- 从右边起第一位是( )位,第二位是( )位,第三位是( )位。

8. 70 是由 7 个( )组成的,它前面一个数是( ),后面一个数是( )。
9. 八十六写作( );60 读作( )。
10. 三个小朋友折星星,每人折 6 个。他们一共折了( )个。
11. 4 元 5 角=( )角      4 角+6 元 5 角=( )元( )角
12. 88 左边的“8”表示 8 个( ),右边的“8”表示 8 个( )。
13. 15 个小朋友排队做操,小红前面有 8 个小朋友,小红后面有( )个小朋友。

14. ( )比 50 多 3;32 比( )多 12。

15. 比 61 小、比 58 大的数是( )和( )。

16. 计算  $12 - 9 = \square$  可以这样算:先算  $\square - 9 = \square$ ,



再用  $\square + \square = 3$ 。

17. 先写数,再比较大小。

六十六	十六	六十	三十六	六十三
( )	( )	( )	( )	( )
( )	( )	( )	( )	( )

( ) > ( ) > ( ) > ( ) > ( )

18. 在○里填上“>”“<”或“=”。

$11 - 6 \bigcirc 6$       6 元  $\bigcirc$  7 角 8 分       $29 + 9 \bigcirc 68 - 30$

$12 - 7 \bigcirc 12 - 5$       6 角 + 4 角  $\bigcirc$  10 元       $73 + 9 \bigcirc 9 + 73$

19. 个位上是 2,十位上是 8,这个数是( ),与它最接近的整十数是( )。
20. 计算  $66 - (22 + 8)$  时,先算( )法,再算( )法,最后结果得( )。

21. 找规律,填一填,画一画。

(1) 38, 39, ( ), ( ), 42

(2) 1, 3, ( ), 7, ( ), 11

(3) 100, ( ), 90, ( ), 80, 75

(4)  ( ) ( )

### 三、我会算。

22. 口算。

$6 + 54 =$

$47 + 6 =$

$96 - 40 =$

$31 + 5 - 7 =$

$58 - 4 =$

$3 + 30 =$

$12 - ( ) = 7$

$64 - 4 + 5 =$

$16 + 9 =$

$77 - 5 =$

$( ) + 20 = 70$

$40 - (19 + 1) =$

$43 + 7 =$

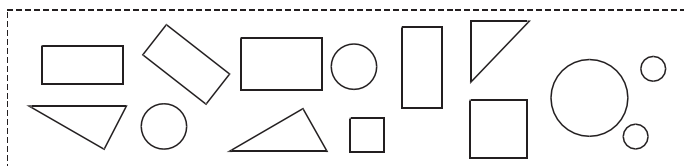
$62 - 6 =$

$( ) + ( ) = 17$

$93 - (12 - 9) =$

### 四、按形状整理下面虚线框中的图形。

23.



(1) 方法一: 涂一涂

(2) 方法二: 填一填

○ □ △ □  
○ □ △ □  
○ □ △ □  
○ □ △ □  
○ □ △ □  
○ □ △ □  
○ □ △ □

图形	圆	正方形	三角形	长方形
个数				

### 五、我会看图列式。

24.



? 个

13个

$\square \bigcirc \square = \square (\text{个})$

25.



? 个

$\square \bigcirc \square = \square (\text{个})$

## 六、我会解决问题。

26. 家长会时老师在教室左右两边摆放椅子,左边摆 24 把,右边摆 20 把。要来 45 位家长,够坐吗?(在正确答案的后边画√号)

够 ☐

不够 ☐

27. 学校体育室有 26 个足球和 18 个篮球。借给一年级 8 个足球后,体育室还有多少个足球?(4 分)

$$\square \bigcirc \square = \square (\text{个})$$

口答:体育室还有( )个足球。

28. 一共有 15 只小鸡。



- (1) 左边有 9 只,右边有几只?

- (2) 白色有 7 只,灰色有几只?

$$\square \bigcirc \square = \square (\text{只})$$

$$\square \bigcirc \square = \square (\text{只})$$

口答:右边有( )只,灰色有( )只。

29. 还剩多少本书?



$$\square \bigcirc \square \bigcirc \square = \square (\text{本})$$

口答:还剩( )本书。