



二年级数学综合练习题

一、我会选,将正确答案的序号填在括号里。

1. 平移  可以与下面的()重合。
- A.  B.  C. 
2. 下列各数中,一个零也不读的是()。
- A. 8900 B. 6005 C. 5050
3. 在算式 $\bigcirc \div \square = 5 \cdots 6$ 中,除数最小填()。
- A. 5 B. 6 C. 7
4. 下列各数中,最接近 7000 的是()。
- A. 7060 B. 7600 C. 5960
5. 有 26 箱苹果,张爷爷每次最多能运 8 箱。至少要运()次才能运完这些苹果。
- A. 3 B. 4 C. 5

二、我会填。

6. 华山西峰的海拔约为 二千零八十三 米。横线上的数写作(),它的最高位是()位。
7. 27 个乒乓球,每 6 个装一盒,能装满()盒,还剩()个乒乓球。
8. 计算 $45 \div 9$ 和 $45 \div 5$ 都要用到的乘法口诀是()。
9. 在 6060 这个数中,从左边数第一个“6”表示 6 个(),第二个“6”表示 6 个()。
10. 3999 后边紧接着的 3 个数是()、()、()。

11. 在()里填上合适的单位。

一支铅笔长约 20() 爸爸的体重约 70()

一个西瓜重 4000() 一棵杨树高 5()

12. “神州八号”飞船发射升空属于()现象,螺旋桨工作属于()现象。(填“平移”或“旋转”)

13. 按照□○△ □○△ □○△的规律摆,第 16 个图形是()。

14. 把下面各数按照从大到小的顺序排列。

8800 8000 8008 8080 880 808

() > () > () > () > () > ()

15. 在○里填上“<”、“>”、“=”。

$54 \div 9$ ○ $48 \div 6$ 2×4 ○ $42 \div 7$ 5800 克 ○ 6 千克

16. 小丽、小华和小敏进行跳绳比赛。小敏说:“我不是第一名。”小华说:“我也不是第一名,但是我比小敏成绩好。”小华获得第()名,小敏获得第()名,小丽获得第()名。

三、我会算。

17. 口算。

$64 \div 8 =$ $16 \div 4 =$ $160 - 70 =$ $50 + () = 300$

$6 \div 1 =$ $9 \times 4 =$ $600 + 800 =$ $() \div 4 = 8$

$28 \div 7 =$ $9 \div 9 =$ $2500 - 1000 =$ $8 \times () = 56$

$7 \times 5 =$ $35 \div 7 =$ $3000 + 6000 =$ $() \div () = 8$

18. 列竖式计算。

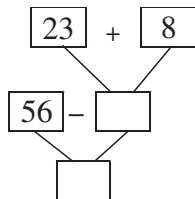
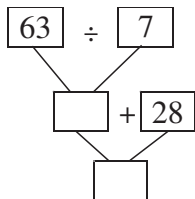
$60 \div 9$

$38 \div 4$

$39 \div 6$

$$64 \div (51 - 43)$$

20. 先填空,再在横线上列综合算式。





(1) 

$$\boxed{} \times \boxed{} = \boxed{}$$

$$\boxed{} \div \boxed{} = \boxed{} \quad \boxed{} \div \boxed{} = \boxed{}$$

(2)

	
38 元	6 元/只
? 元	

22. 下面是二(1)班同学最喜欢吃的蔬菜情况统计表。(每人只投一票)

黄瓜	西红柿	白菜	豆角
正正正正正正	正正正下	正正正	正正正正

(1)完成下表。

种 类	黄 瓜	西红柿	白 菜	豆 角
人 数				

(2)喜欢吃()的人最少,喜欢吃黄瓜的比喜欢吃西红柿的多()人。

(3)学校食堂买菜时应多买点(),因为它最受欢迎。

六、解决问题

23. 明明在海边捡了 45 个贝壳,每 8 个贝壳穿一串。这些贝壳最多可以穿几串?

口答:最多可以穿()串。

24. 二年(2)班共有 54 名同学,转走了 5 名同学,剩下的同学分成 7 组,平均每组有多少名同学?

口答:平均每组有()名同学。

25. 科技小组有男生 28 人,女生 17 人。每 5 人为一组,一共可以分为多少个小组?

口答:一共可以分为()个小组。

26. 为美化环境,绿化工人要在广场栽 80 棵树,已经栽了 6 行,每行 9 棵。还要栽多少棵?先说一说你要先解答什么,然后再解答。

先求:_____

口答:还要栽()棵。