

## 2022—2023 学年度第二学期期末学情诊断 二年级数学

题号	一	二	三	四	五	总分	等级
得分							

得分	评卷人

一、计算。(29 分)

1. 直接写得数。(10 分)

$$420 + 500 = \quad 50 \times 8 = \quad 30 \div 6 = \quad 400 - 40 = \quad 5900 - 2000 =$$

$$650 - 70 = \quad 300 \times 2 = \quad 63 \div 9 = \quad 1600 - 700 = \quad 120 + 50 =$$

2. 用竖式计算，带☆的要验算。(20 分)

$$\star 279 + 335 =$$

$$\star 807 - 439 =$$

$$59 \times 7 =$$

$$467 \times 8$$

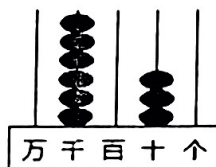
$$608 - 238 + 76 =$$

$$713 - 249 - 386 =$$


得分	评卷人

## 二、我会填（共 28 分）

### 1. 写出表示的数字

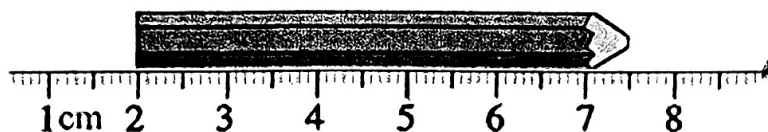


(       )



(       )

### 2.



铅笔长 (       ) cm (       ) mm

3. 用 2 7 4 三张数字卡片组成的最大三位数是 (       ), 最小的三位数是 (       )。

4. 9999 加 1 是 (       ), 它里面有 (       ) 个一千。

5. 在 (       ) 里填上合适的单位名称。

一粒大米的宽约 2 (       )

一辆卡车的载重量约是 5 (       )

学校操场跑道长 200 (       )

一枝铅笔长约 2 (       )

一个西瓜约重 8 (       )。

6. 在括号里填上合适的数。

80 毫米 = (       ) 厘米

5 分米 = (       ) 厘米

9000 米 = (       ) 千米

6 吨 = (       ) 千克

7. 找规律, 填一填。

3997, 3998, 3999, (       ), 4001

○ □ △ ○ □ △ ○ (       ) △

8. 在○里填上“>”、“<”或“=”。

$5705 \bigcirc 7009$

$503+439 \bigcirc 934$

$312+508 \bigcirc 800$

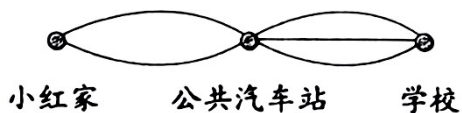
$69 \times 2 \bigcirc 67+68$

$30 \text{ 厘米} \bigcirc 30 \text{ 分米}$

$2 \text{ 千米} \bigcirc 1 \text{ 千米 } 99 \text{ 米}$

9. 一个数是由 6 个千、8 个百和 6 个一组成的，这个数是( )。

10. 右图中，小红家到公共汽车站有 2 条路可走，从公共汽车站到学校有 3 条路可走。从小红家到学校，有( )种不同的走法。



11. 下面算式中的 A=( ), B=( )。

$$\begin{array}{r} \text{A B 3} \\ - \text{A B} \\ \hline 678 \end{array}$$

得分	评卷人

三、我会选择（把正确答案的序号写在括号内）。（6 分）

1. 下面各数中，一个“0”也不读的是( )。

A. 5060

B. 5006

C. 5600

2. 四年级有 306 名学生，五年级有 298 名学生，二年级的学生人数比四、五年级的总数少一些，二年级可能有( )名学生。

A. 290

B. 590

C. 620

3. 一个数百位上是 1，千位上是 5，其他各位都是 0，这个数是( )。

A. 1500

B. 5100

C. 1005

4. 要计量从东平到泰安的路程用( )作单位比较合适。

A. 米

B. 分米

C. 千米

5. 黄花比红花多 10 朵，黄花有 40 朵，红花有几朵？正确算式是( )。

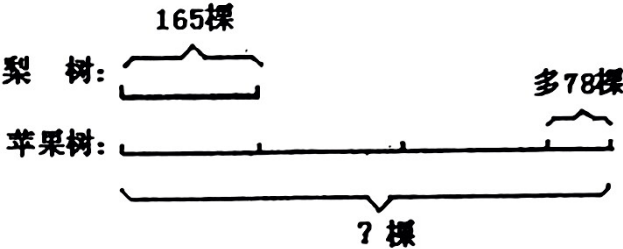
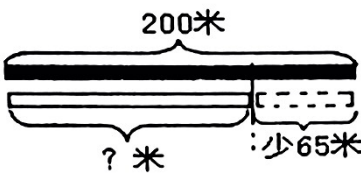
- A.  $40+10$       B.  $40-10$       C.  $40+40-10$

6. ☆☆☆○○※☆☆○○○○※…像这样依次重复下去，第 32 个是( )。

- A、☆                      B、○                      C、※

得分	评卷人

四、看图列式计算。(6 分)



得分	评卷人

五、统计 (10 分)

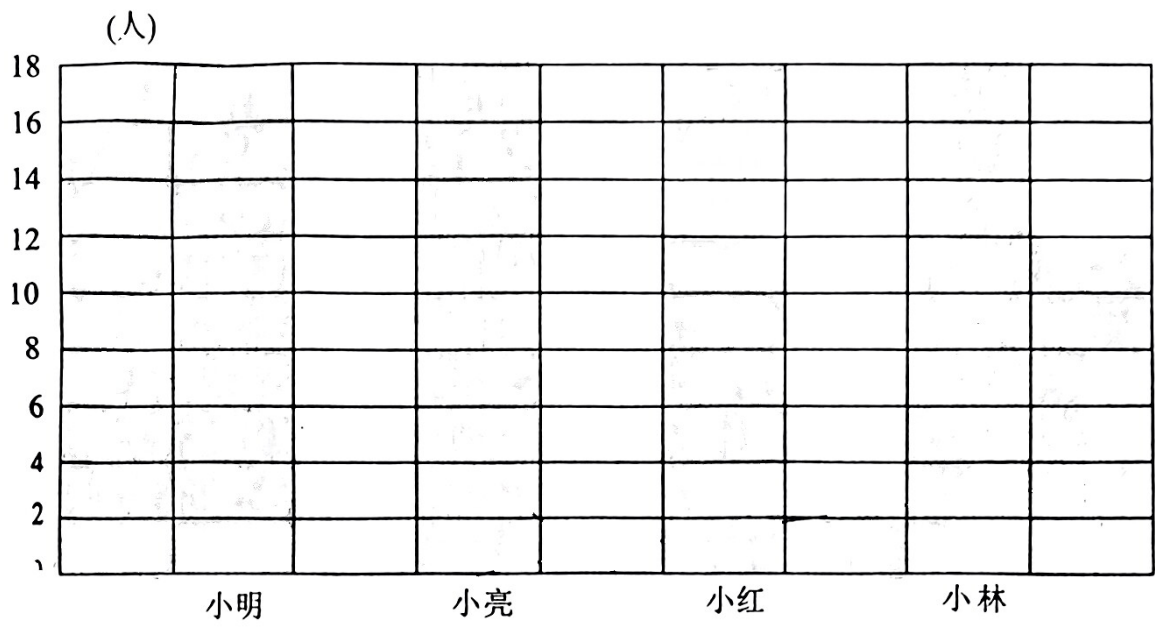
下面是“劳动小能手”竞选统计表。

小明	正    正    正    下
小亮	正    下
小红	正    正
小林	正    正    正

(1) 完成下面的统计表。

姓名	小明	小亮	小红	小林
票数				

(1) 根据统计表的数据，在下面的条形统计图中表示出来。



(3) ( ) 可以当选“劳动小能手”。参与投票的一共有 ( ) 人。

得分	评卷人

六、解决问题（20 分）

1. 学校图书室有漫画 187 本，故事书比漫画多 235 本，故事书和卡通书一共有多少本？

2. 超市有 245 瓶可乐，第一天卖了 153 瓶，第二天卖了 89 瓶。还剩多少瓶？

3. 学校买了 8 个 排球，每个 140 元，一共花了多少钱？

4. 每个书架能摆放 514 本书，4 个书架大约能摆多少本书？

5. 希望小学二年级有学生 127 人，一年级的人数比二年级的 2 倍少 30 人，一年级有多少人？