

# 2022—2023（下）三年级数学综合素质评价

等级	书写

温馨提示：亲爱的同学，希望你在答题时能认真书写，字迹端正，保持卷面整洁。我们将对你的书写情况进行评价！

## 一、填一填。

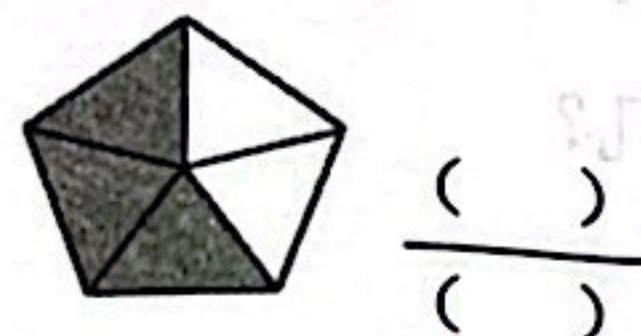
1. 6 吨 = ( ) 千克

400 平方厘米 = ( ) 平方分米

2. 看图写数。



( ) 元



$\frac{(\quad)}{(\quad)}$


3. 在横线上填出适当的单位。

(1) 一个停车位的面积约 12 \_\_\_\_\_。

(2) 同学们每节课间休息 10 \_\_\_\_\_。

(3) 一座桥承重 10 \_\_\_\_\_。

4. 右图中，学校在动物园的 ( ) 方向。




5. 下面物体的运动是平移还是旋转？

(1) 在计数器上拨珠，珠子的运动是 ( )。

(2) 钟面上时针的运动是 ( )。

6. ( ) 重约 1 克， ( ) 重约 1 千克。

7. 右图中，小狗的数量占小动物总数的  $\frac{(\quad)}{(\quad)}$ 。



8. 在 ○ 里填上 “>” “<” 或 “=”。

1999 克 ○ 2 千克      5 平方米 ○ 50 平方分米      24 时 ○ 一天

9. 把一块钢板平均分成 8 块，每块是它的  $\frac{(\quad)}{(\quad)}$ ，4 块是它的  $\frac{(\quad)}{(\quad)}$ 。

10. 找规律填数。

(1) 0.4, 0.6, 0.8, ( ), ( )。

(2)  $\frac{9}{10}$ ,  $\frac{7}{10}$ ,  $\frac{5}{10}$ , ( ), ( )。

11. 用 4 个边长为 12 厘米的小正方形拼成一个大正方形，这个大正方形的周长是 ( ) 厘米，面积是 ( ) 平方厘米。






## 二、选一选。


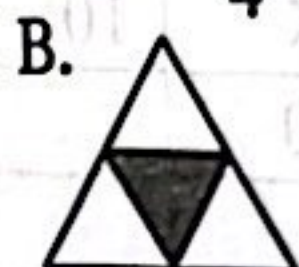
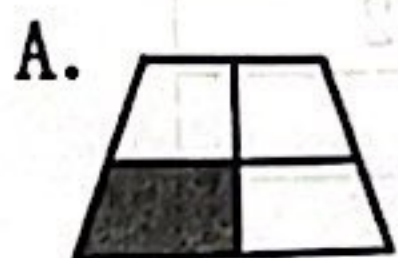
1. 下面图（ ）是轴对称图形。



2. 下面图形中，图（ ）没有面积。



3. 下图中的阴影部分能用  $\frac{1}{4}$  表示的是图（ ）。




4.  $398 \div 5$  的商是（ ）位数。

A. 两

B. 三

C. 四

5. 右图中，小文看到的是图（ ）。

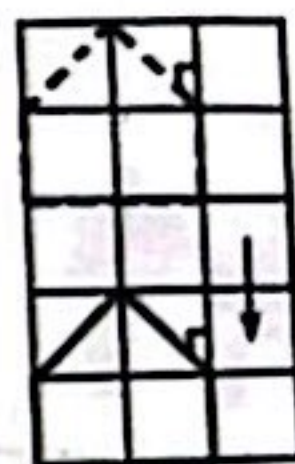


6. 右图中的小房子向下平移了（ ）格。

A. 1

B. 2

C. 3



## 三、算一算。

1. 直接写得数。

$20 \times 4 =$

$63 \div 3 =$

$211 \times 4 =$

$402 \div 2 =$

$450 \div 9 =$

$5000 + 600 =$

$\frac{2}{5} + \frac{3}{5} =$

$\frac{6}{7} - \frac{3}{7} =$

2. 列竖式计算，带“△”的要写出验算过程。

$565 \div 5 =$

$35 \times 26 =$

$\triangle 438 \div 4 =$

3. 脱式计算。


$207 - 26 \times 6$

$(154 + 227) \div 3$




#### 四、做一做。

1. 涂一涂，比一比。



$$\frac{3}{4} \bigcirc \frac{2}{4}$$



$$\frac{1}{8} \bigcirc \frac{1}{6}$$

2. 圈一圈，算一算。

$$68 \div 2 = \square$$




$$3. 12 \times 13 = \square$$

$\times$	10	2
10		
3		

4. 画一画（每个格子边长表示 1 厘米）。

在格子图中画一个面积是 24 平方厘米的长方形。



#### 五、做一做。

右面是某小学三（2）班每周上午的课程表：

	一	二	三	四	五
1	语文	数学	数学	语文	数学
2	数学	语文	语文	数学	语文
3	体育	音乐	劳动	美术	写字
4	写字	美术	体育	音乐	劳动

1. 请在下图中用画“×”的方法表示出这个班每周上午每科课程的节数。


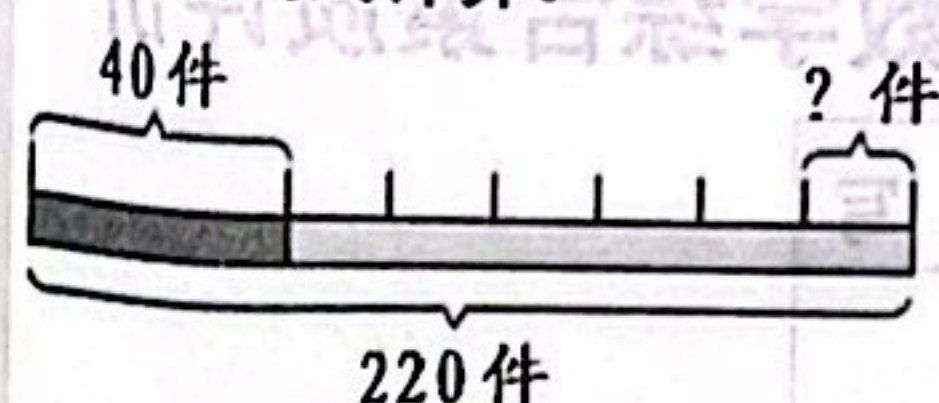
语文 数学 体育 音乐 美术 劳动 写字

2. 这个班每周上午一共有（ ）节课，其中数学课有（ ）节。

3. 劳动课节数占总课节数的  $\frac{(\quad)}{(\quad)}$ 。



## 六、看图列式计算。



## 七、解决问题。

1. 有一杯果汁，淘气喝了一些后，杯中还剩  $\frac{4}{9}$ ，淘气喝了这杯果汁的几分之几？

2. 平均每只小兔每天收胡萝卜多少根？

我们 4 天共收了  
480 根胡萝卜。



3. 订这份刊物一年需要多少钱？

订一份刊物，3  
个月要 72 元。



4. 一块长方形菜地长 16 米，宽 12 米。如果每平方米产蔬菜 5 千克，这块地一共产蔬菜多少千克？

5. 冬冬家装修厨房地面，如果用下图中的长方形地砖铺地，一共需要 40 块。如果改用下图中的正方形方砖铺地，需要多少块？

