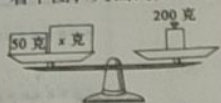


四年级数学试卷第2页 (共4页)



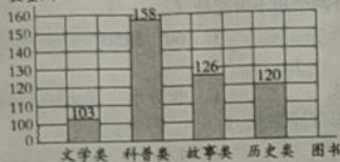
22. 如左图, 0.3是3个( ), 4个0.3是( )个( )。



23. 看下图, 列出的方程是( )。

24. 根据统计图回答问题。

光明小学图书室一周学生借阅图书情况统计图



- (1) 1格代表( )本。

- (2) ( )图书和( )图书借阅的数量差不多。

- (3) 如果图书室再购进图书, 你有什么建议?

### 三、算一算。(24分)

25. 列竖式计算。(6分)

$$7-3.21=$$

$$13.56+6.94=$$

$$9.5 \times 1.03=$$

26. 脱式计算, 能简算的要简算。(12分)

$$5.62 + 7.16 - 6.4$$

$$3.6 + 6.4 \times 0.8$$

$$1.25 \times 2.1 \times 0.8$$

$$(4+0.4) \times 2.5$$


27. 解方程。(6分)

$$6x - 12.5 = 5.5$$

$$5m \div 3 = 120$$

### 四、做一做。(7分)

28. 下面的立体图形从正面、上面和右面看到的是什么形状? 在方格纸上画一画。(3分)



正面

上面

右面


29. 2022年第24届冬季奥运会在北京成功举办。(4分)

- (1) 根据统计表数据, 绘制折线统计图。

中国队在历届冬奥会中获奖牌数统计表

届次	奖牌(枚)
第16届阿尔贝维尔	3
第17届利勒哈默尔	3
第18届长野	8
第19届盐湖城	8
第20届都灵	11
第21届温哥华	11
第22届索契	9
第23届平昌	9
第24届北京	15

中国队在历届冬奥会中获奖牌情况统计图



- (2) 观察图表, 第( )届冬奥会上中国队奖牌数量首次实现大幅提升, 之后的北京冬奥会比平昌冬奥会的奖牌数又提升了( )枚, 实现了第二次突破。

### 五、解决问题。(20分)

30. 王老师去体育用品商店买体育用品。



每副19.80元



每筒12.70元



每根7.50元



每个2.50元

- (1) 王老师买了15副羽毛球拍, 一共花了多少钱?

- (2) 王老师买了45根跳绳和45个毽子, 一共花了多少钱?

31. 一根绳子长10米, 第一次剪去2.3米。第二次剪去多少米, 才能使剩下的长度和第一次剪去的一样长?

32. 京沈高速铁路, 又名京沈客运专线, 它是一条连接北京市与沈阳市的高速铁路。于2014年3月开工建设, 2021年1月22日全线开通运营。原来从沈阳至北京乘坐普通火车大约需要10时, 速度约为70千米/时。现在高铁速度约为350千米/时, 现在从沈阳至北京约需几时? (列方程解答)