

绝密★启用前

2022-2023 学年度第二学期学习巩固练习

二年级数学

(时间:60 分钟 总分:100 分)

细心点, 你是最棒的!

评价	评价人

kuài lè tián kòng
一、快乐填空。

1. 一台平板电脑的售价为 2799 元, 横线上的数读作 (), 它是由 () 个千、() 个百、() 个十和 () 个一组成的。

2. 在 () 里填上合适的质量单位。



225 ()



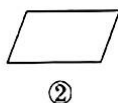
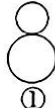
200 ()



16 ()

3. 花店每天大约卖出鲜花 3190 枝, 约 () 枝。

4. 右边的图案中, () 是轴对称图形。(填序号)



5. 我会分。



- (1) 共有 () 个气球, 把这些气球平均分给 6 个小朋友, 每个小朋友分到 () 个。

- (2) 若每个小朋友分到 3 个气球, 这些气球可以分给 () 个小朋友。

6. 在 $\square \div 7 = 6 \cdots \triangle$ 中, 余数最大是 (), 这时被除数是 ()。

7. 在 \bigcirc 里填上 “>” “<” 或 “=”。

800 克 \bigcirc 8 千克

$600+500 \bigcirc 1000+100$

$36 \div 4+9 \bigcirc 36 \div 9+4$

8. () 里最大能填几?

$3 \times () < 15$

$() \times 5 < 21$

$48 > 9 \times ()$

9. 按规律填一填。

(1) 1300, 1500, (), 1900, (), ()。

(2) 2870, 2880, (), (), 2910, 2920。

评价	评价人

pàn duàn zhèng wù
二、判断正(T)误(F)。

- () 1. 6 个一和 8 个千合起来是 6008。
- () 2. 1 袋食盐重 500 克, 两袋食盐重 1000 千克。
- () 3. 计算 8×9 和 $72 \div 8$ 时用的乘法口诀一样。
- () 4. 一个四位数, 从左边起的第一位是个位。
- () 5. 一个数除以 6, 余数可能是 0, 1, 2, 3, 4, 5。

评价	评价人

tiāo yì tiāo xuǎn yì xuǎn
三、挑一挑, 选一选。

1. 下列现象中, () 不属于平移。
①直梯的上下运动 ②拉动抽屉 ③转动的风扇
2. 一个电话手表 318 元, 一个点读机 558 元。如果各买一个, 带 800 元 ()。
①不够 ②够 ③不能确定
3. 张老师拿了 50 元去购买文具袋, 每个文具袋 8 元。右面竖式中
箭头所指的部分表示 ()。
①一共有 48 元 ②还剩 48 元 ③用去 48 元
4. 在如图的方格中, 每行、每列都有 1~4 这四个数, 并且每个数在每行、每列都只出现一次。图中的 A 应该是 ()。
① 1 ② 2 ③ 3
5. 小奇在计算 “ $5+ \square \times 8$ ” 时弄错了运算顺序, 先算加法后算乘法, 结果得数是 56, 请你帮他算一算正确的得数应该是 ()。
① 13 ② 21 ③ 42

6	
8	50
	48
	2

3		4	
4	1	A	
			2

评价	评价人

jì suàn xiǎo néng shǒu
四、计算小能手。

1. 直接写出得数。

$3 \times 7 =$

$45 \div 5 =$

$6 \times 9 =$

$200+1500 =$

$64 \div 8 =$

$1000+4000 =$

$8 \div 1 =$

$6700-900 =$

2. 列竖式计算。

(1) $34 \div 4 =$

(2) $57 \div 6 =$

(3) $22 \div 8 =$

(4) $40 \div 9 =$

3. 计算下面各题。

(1) $28 + 2 \times 6$

(2) $9 \times (40 \div 5)$

(3) $(33 + 30) \div 7$

评价	评价人

jiě jué wèn tí wǒ zuì bàng
五、解决问题我最棒。

1. 书架上一共有 35 本书，每位同学借 5 本，这些书够借给几位同学？

2. 下面是二年级同学最喜欢的动画片的投票结果。（每人只能投一部动画片）


《哪吒闹海》	△△△△△△△△△△
《大闹天宫》	正正正正正正正
《寻梦环游记》	○○○○○○○○○○○○○○
《熊出没》	√√√√√√√√

(1) 将投票结果补充完整。

动画名	《哪吒闹海》	《大闹天宫》	《寻梦环游记》	《熊出没》
票数				

(2) 根据投票结果，如果老师想给其他班同学推荐动画片，老师可能会推荐)。

3. 亮亮还剩下多少张卡片？



4. 工厂有两个员工食堂，午餐时，第一个食堂准备了 900 份米饭和 800 份面条，第二个食堂准备了 1200 份米饭。

(1) 第一个食堂一共准备了多少份午餐？

(2) 你还能提出其他数学问题并解答吗？

5. 快乐购物。



炸鸡
20元/份



汉堡
12元/个



饮料
5元/杯



薯条
9元/份

(1) 青青想买 1 个汉堡、1 份炸鸡和 1 杯饮料，她带 40 元够吗？

(2) 军军有 100 元钱，买了 1 份炸鸡后，剩下的钱最多可以买几份薯条？