

# 2022~2023 学年度第二学期期末校本课堂综合练习题

## 二年级数学 (G) 题

学生学业水平分类	优秀	良好	中等	待提高
该生本学段学业水平				

说明：1、本套练习题练习时间由科任根据本班实际情况灵活安排。

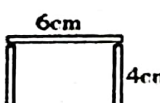
2、练习结束后，科任教师收齐课堂练习题，分析每个学生的答题情况，调整课堂教学方法，有针对性地对学生进行辅导，对学生的个性错误，采用面对面辅导，共性错误，师生在课堂上共同研究学习，因材施教。




3、本套课堂练习题不统计成绩，不排名，科任根据学生答题情况，结合本学段该生平时的学习表现，科任给该生本学段学业成绩的合理评价，评价分为优秀、良好、中等和待提高四个等级，在对应等级下面的方框里打上“√”。

### 一、小侦探。（把正确答案的序号填在括号里）（10分）

1、下面算式中，不能验算 $450-190=260$ 的是（ ）。

- ①  $260+190$                       ②  $450-260$                       ③  $260-190$

2、如图 ，用（ ）号小棒能拼成一个长方形。

- ①  5cm                      ②  4cm                      ③  6cm

3、淘气眨一下眼大约用1（ ）。

- ① 时                                      ② 分                                      ③ 秒

4、在有余数的除法算式中，余数和除数之间的关系是（ ）。

- ① 余数必须比除数小                      ② 余数必须比除数大                      ③ 余数必须和除数相等

5、 $\bigcirc \square \triangle \bigcirc \square \triangle \bigcirc \square \triangle \cdots$ 第10个图形是（ ）。

- ①  $\bigcirc$                                       ②  $\square$                                       ③  $\triangle$

### 二、判断题。对的在（ ）里打“√”，错的打“×”。（共10分）

- 1、1时=60分，1分=60秒。.....（ ）  
 2、角的两条边越长，角越大。.....（ ）  
 3、淘气身高是130cm，乐乐的身高是13分米，淘气高。.....（ ）  
 4、7593中的7表示7个百。.....（ ）



5、角有1个顶点和两条边。..... ( )

### 三、填空。(每空1分,共21分)

1、九千三百零六写作( )。3600读作( ),这是一个( )位数。

2、时针走1大格是( )时。分针走1大格是( )分。

3、在算式 $\square \div 6 = 8 \cdots \square$ 中,余数最大是( )。

4、学校跑步比赛,淘气用了16秒,笑笑用了15秒。( )的速度最快。

5、用两个8和两个0组成的四位数中,一个零也不读的是( ),只读一个零的是( )和( )。

6、括号里最大能填几。

$$2\square63 < 2636$$

$$2505 > \square315$$

7、在○里填上“>”“<”或“=”。

$$2\text{分米} \bigcirc 30\text{厘米}$$

$$2000\text{米} \bigcirc 3\text{千米}$$

8、填上合适的单位。

数学书封面长约26( )

刷牙大约需要3( )

跑100米大约需要16( )

海湾大桥约长4( )

9、在括号里填上合适的数。

$$30\text{cm} = ( )\text{dm}$$

$$90\text{秒} = ( )\text{分} ( )\text{秒}$$

### 四、我会算得又快又好。(共19分)

1、直接写出得数。(8分)

$$64 \div 8 =$$

$$42 \div 7 =$$

$$960 - 60 =$$

$$70 - 25 =$$

$$580 + 90 =$$

$$238 + 42 =$$

$$8 \times 7 =$$

$$60 + 370 =$$



2、竖式计算。带☆的要验算（每道3分，带☆的5分，共11分。）

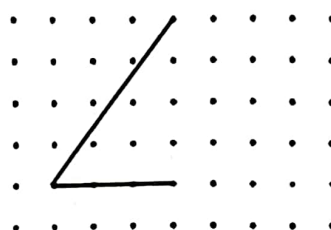
$55 \div 8 =$

$463 + 247 =$

$\star 540 - 307 =$

### 五、操作题。（共19分）

1、画一画。（每小题2分，共4分）

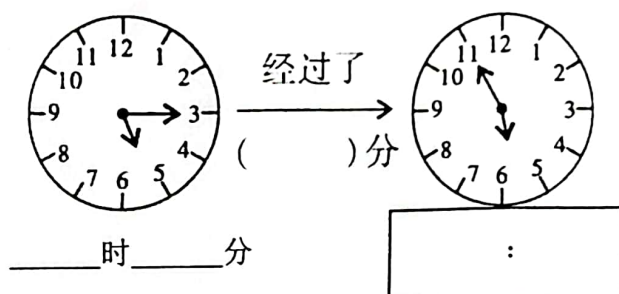


顶点 ●

接着画出一个锐角

接着画出平行四边形

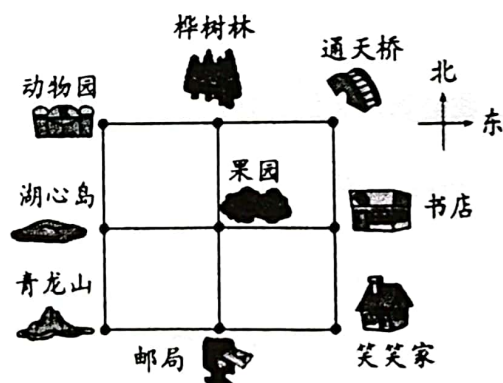
2、填一填。（5分）



3、填一填。（每空2分，共10分。）

(1) 邮局在果园的（ ）面，书店在笑笑家的（ ）面。

(2) 笑笑家在果园的（ ）方向，动物园在果园的（ ）方向，青龙山在果园的（ ）方向。



六、解决问题。（第1、2、3题5分，第4题6分，共21分）

1、二（1）班有35人去游船，一条船限乘6人，那么至少需要多少条船？

2、大象用鼻子运木材，第一批运了346根，第二批运了244根，一共运了多少根？

3、张老师带了42元去买跳绳，最多可以买几根？



每根9元

4、下面是某超市一天中文具销售情况。

橡皮	☆☆☆☆☆☆
铅笔	√√√√√√√√√√√√√√
直尺	正正

（1）卖出的（ ）最多，（ ）最少。

（2）如果你是老板，需要准备多一些（ ）售卖。（填橡皮或铅笔或直尺）

