



泮水镇中心学校2022—2023学年度第二学期期末知识检测
二年级 数学答题卡

学校：_____ 班级：_____ 姓名：_____ 考号：_____

- 注意事项**
1. 认真填写自己的学校、姓名、班级、考号，并核准条形码上的准考证号等信息，在规定的位置贴好条形码。
 2. 选择题部分必须使用2B铅笔填涂，非选择题部分使用0.5毫米的黑色签字笔书写，要求字体工整、笔迹清楚。
 3. 请按照题号顺序在各题目的答题区域内作答，超出答题区域书写的答案无效；在草稿纸、试题卷上答题无效。
 4. 保持卡面整洁，不要折叠，不要弄破，禁用涂改液，涂改胶条。

选择题填涂样例 正确填涂

贴条形码区
(正面朝上，请贴在虚线框内)

缺考标记 ☐ (填图说明：缺考考生由监考员贴条形码，并用2B铅笔填涂左边缺考标记)

一、认真排查，我会选择 (共5小题，10分)

1. 一根72米长的绳子，剪了8次，平均每段长 () 米。
A. 9 B. 6 C. 7 D. 8
2. 12个南瓜，平均放在3个筐里，每筐放几个? ()
A. 3 B. 6 C. 4 D. 2
3. 下列各图案中不是轴对称图形的是 ()
A. B. C. D.
4. 李奶奶制作了44个小灯笼，每串挂5个，最多能挂 () 串。
A. 3 B. 8 C. 9 D. 7
5. 盘子里有菠萝、橙子、西瓜、草莓四种水果，小华、小明、小伟都不吃草莓，其他水果每人只吃一种。小华说：“我不吃西瓜。”小明说：“我既不吃橙子，也不吃西瓜。”小华吃的是 ()
A. 橙子 B. 菠萝 C. 西瓜 D. 草莓

二、仔细思考，我会填空 (每空1分，共21分)

6. 一串珠子有黑白两种颜色，按这样的规律○○○○●●○○○○●●○○○○●●……串成一串，第47个珠子是 () 色。
7. 用9, 6, 0, 4四个数字组成最大的四位数是_____，组成最接近6000的四位数是_____。
8. 9040读作_____，这个数的最高位是_____位，其中的4表示4个_____。

请在各题目的答题区域内作答，超出黑色矩形边框限定区域的答案无效 [第1页 共4页]

请在各题目的答题区域内作答，超出黑色矩形边框限定区域的答案无效

9. $\square \div 9 = 3 \cdots \square$ 中，当余数最大时是_____，被除数是_____；当余数最小时是_____，被除数是_____。
10. 世界上最小的鸟是蜂鸟，大约只有2_____；一头大象约重2000_____。
11. 图书馆发给四年级一班40本新书，要平均分给班里的8个小组，每个小组能分到_____本，如果要给每个小组分4本，够分给_____个小组。
12. 将下面的算式按得数从小到大的顺序排一排。
 $24 \div 3$ 、 $48 \div 8$ 、 8×8 、 $35 \div 7$
_____ < _____ < _____ < _____
13. 王、刘、徐分别是甲、乙、丙三位小朋友的姓。甲不姓王，姓刘的不是丙，甲和乙正在听姓徐的小朋友讲故事。甲姓_____，乙姓_____，丙姓_____。

三、小心谨慎，我会计算 (共4小题，37分)

14. 直接写得数。(12分)

$7 \times 4 =$	$48 \div 6 =$	$4 \times 9 =$	$72 \div 8 =$
$1000 + 400 =$	$200 - 90 =$	$60 + 50 =$	$70 + 400 =$
$45 \div 5 \div 3 =$	$8 + 4 \times 5 =$	$8 \times (18 \div 9) =$	$60 - 3 \times 9 =$
15. 竖式计算。(12分)			
$69 \div 7 =$	$48 + 35 =$	$24 \div 6 =$	$90 - 27 =$

16. 脱式计算。(9分)

$79 - 8 \times 7$	$32 \div 4 \times 9$	$(81 - 45) \div 6$
-------------------	----------------------	--------------------

请在各题目的答题区域内作答，超出黑色矩形边框限定区域的答案无效 [第2页 共4页]

请在各题目的答题区域内作答,超出黑色矩形边框限定区域的答案无效

17. 把下面每组算式合并成一个综合算式, 写在横线上。(4分)

(1) $6 \times 9 = 54$ $54 + 6 = 60$

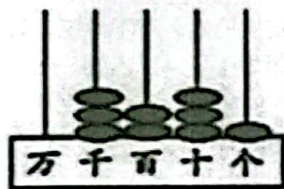
(2) $53 - 45 = 8$ $72 \div 8 = 9$

四、动手动脑，我会操作。(共3小题，共12分)

18. 看图写除法算式 (写在横线上) (4 分)



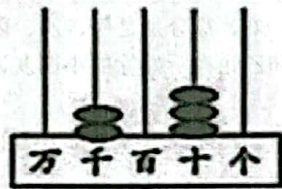
19 看图写数。(4分)



(1)

写作：()

读作：（



(2)

写作：()

读作：()

20. 在方格中, 每行、每列都有 1~4 这四个数, 并且每个数在每行、每列都只出现一次。你知道 A、B、C、D 的位置分别表示几吗? (4 分)

A = _____, B = _____,

$C =$ _____, $D =$ _____,

五、认真思考，我会解决问题（共4小题，共20分）


21. 妈妈带了 75 元钱, 买了一个西瓜用了 19 元, 剩下的钱用来买每千克 7 元的桔子, 可以买多少千克? (5 分)

答：可以买（ ）千克。

请在各题目的答题区域内作答，超出黑色矩形边框限定区域的答案无效 [第 3 页 共 4 页]

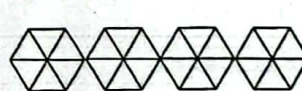
请在各题目的答题区域内作答,超出黑色矩形边框限定区域的答案无效

22. 一个旅游团有 27 位游客, 每只游船可以坐 4 个人。租 7 只游船够坐吗? (5 分)

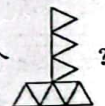


答：租 7 只游船（ ）坐。

23. (5 分)



用左面这些  能摆成几个



3

答：用左面这些△能摆成（ ）个 。

24. (5 分)



4元



8元



? 元

(1) 小明要买 6 个毽子和一顶帽子, 带 30 元够吗? (2 分)

答：帶 30 元（ ）。

(2) 老师拿了 20 元买了 3 盒蜡笔, 售货员找他 2 元。每盒蜡笔多少元?
(3 分)

答：每盒蜡笔（ ）元。

请在各题目的答题区域内作答，超出黑色矩形边框限定区域的答案无效 [第 4 页 共 4 页]