

镇雄县 2023 年春季学期期末 一年级 数学练习

学 校: _____


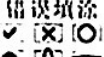
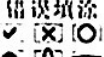
班 级: _____

姓 名: _____

考 场 号: _____ 座 位 号: _____

准考证号: _____

贴 条 形 码 区

注意 事项 1. 答题前, 考生先将自己的姓名、准考证号码填写清楚, 并将条形码准确粘在条形码区域内。 2. 答题时必须使用 2B 铅笔填涂; 非选择题必须用 0.5 毫米黑色字迹的钢笔或签字笔, 字体工整, 笔迹清楚。 3. 请按照题号顺序在各题目的答题区域内作答, 超出答题区域作答的答案无效; 在草稿纸上答题无效。 4. 保持卡面整洁, 不要折叠、弄脏、弄皱, 不准使用涂改液、修正带、刮纸刀。	正确填涂  错误填涂 
	填涂 样 例 

(考试时间: 120 分钟; 满分: 100 分)


wǒ huì tián

一、我会填。(第 6, 8 题各 5 分, 其余每空 1 分, 共 22 分)

- 我今年 () 岁了, 我上 () 年级。
- 由 9 个十和 5 个一组成的数是 (), 再加上 () 就是 100。
- 小芳今年 9 岁, 小丽今年 6 岁。小丽比小芳小 () 岁。
-



() 元 () 角

- 一张  可以换 () 张

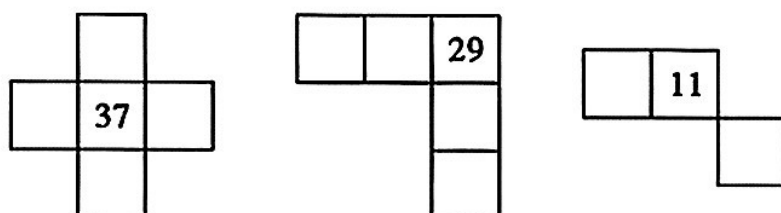


和 () 张

请在各题目的答题区域内作答, 超出黑色矩形边框限定区域的答案无效

请在各题目的答题区域内作答，超出黑色矩形边框限定区域的答案无效

6. 根据百数表填写。



7.



买的东西			
要付的钱			

8. 这些物体的表面上有哪些形状？在形状上画“√”。

	<input type="checkbox"/>	<input type="checkbox"/>	<input type="checkbox"/>	<input type="checkbox"/>
	<input type="checkbox"/>	<input type="checkbox"/>	<input type="checkbox"/>	<input type="checkbox"/>
	<input type="checkbox"/>	<input type="checkbox"/>	<input type="checkbox"/>	<input type="checkbox"/>

请在各题目的答题区域内作答，超出黑色矩形边框限定区域的答案无效

wǒ huì xuǎn

二、我会选。(选出正确答案的序号填在括号里)(每题2分，共10分)

1. 小林买了一块5角钱的橡皮擦，付给售货员1元钱，应该找回()。

- ①5角 ②8角 ③5元

2. 正确表示 $52+3$ 的是()。

- ①
- ②
- ③

请在各题目的答题区域内作答，超出黑色矩形边框限定区域的答案无效

请在各题目的答题区域内作答，超出黑色矩形边框限定区域的答案无效

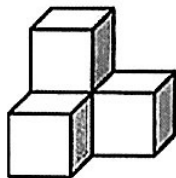
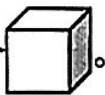
3. 按照“1, 3, 5, …”的规律，第五个数是（ ）。

①5

②7

③9

4. 下面一共有（ ）个。

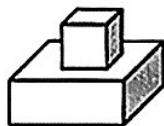


①3


②4

③5

5. （ ）搭得最稳。



①



②



③

请在各题目的答题区域内作答，超出黑色矩形边框限定区域的答案无效

suàn yí suàn

三、算一算。(共22分)

1. 直接写出得数。(每题1分，共15分)

$12+6=$

$24-20=$

$53+8=$

$56-40=$

$34+6=$

$71+6=$

$86-60=$

$51-9=$

$30+6=$

$48-30=$

$62+8=$

$77-10=$

$33+7+9=$

$100-20-8=$

$65+8-20=$

2. 在（ ）里填上适当的数。(每题1分，共7分)

$90 - () = 84$

$90 > ()$

$() + 48 = 50$

$3 \text{ 元 } 5 \text{ 角 } = () \text{ 角}$

$1 \text{ 元 } - () \text{ 角 } = 6 \text{ 角}$

$3 \text{ 元 } + 2 \text{ 元 } 4 \text{ 角 } = () \text{ 元 } () \text{ 角}$

$1 \text{ 元 } 6 \text{ 角 } + 7 \text{ 角 } = () \text{ 元 } () \text{ 角}$

请在各题目的答题区域内作答，超出黑色矩形边框限定区域的答案无效

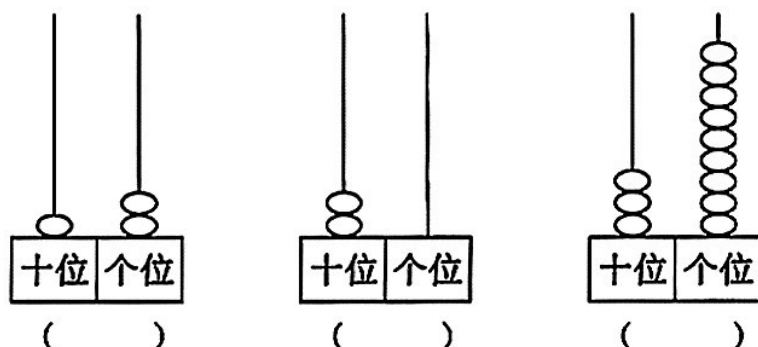
dòng shǒu cāo zuò

四、动手操作。(共18分)


1. 在横线上画出△，使△比□少3个。(2分)



2. 请在每个计数器上再画两颗珠子，然后写出数字。(6分)



3. 缺了几块砖？你可以先画一画，再填空。(2分)

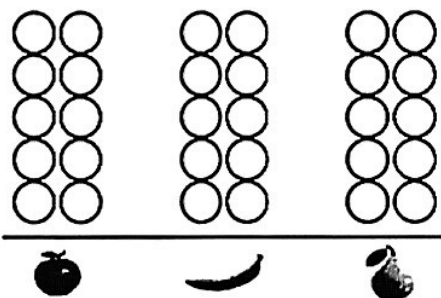


缺了 () 块 。

4. 分一分，涂一涂，填一填。(8分)



(1) (6分)



请在各题目的答题区域内作答，超出黑色矩形边框限定区域的答案无效

(2) 在正确答案前的 ☐ 里打“√”。(2分)

 比  ☐ 多一些 ☐ 少一些

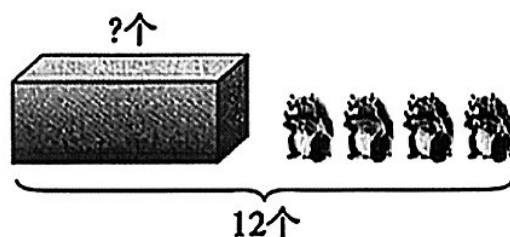
 比  ☐ 多得多 ☐ 少得多

请在各题目的答题区域内作答，超出黑色矩形边框限定区域的答案无效

kàn tú liè shì jì suàn


五、看图列式计算。(每题2分，共4分)

1.



$$\square \bigcirc \square = \square (\text{个})$$

2.



$$\square \bigcirc \square \bigcirc \square = \square$$

请在各题目的答题区域内作答，超出黑色矩形边框限定区域的答案无效

jiě jué wèn tí

六、解决问题。(共24分)

1. (4分)



$$\square \bigcirc \square = \square (\text{个})$$

答：还要编 ☐ 个。

请在各题目的答题区域内作答，超出黑色矩形边框限定区域的答案无效

2. (4分)


我吃了5条 。还剩下几条 ？



14条



$$\square \bigcirc \square = \square \text{ (条)}$$

答：还剩下 条 .

3. 每袋装4个面包，这些面包够装几袋？请你接着圈一圈，再接着写一写。(8分)




$$13 \xrightarrow{-4}$$

答：可以装满 袋，还剩下 个。

4. 一共有多少只鸭子？先用○画一画，再解答。(8分)

我前面有4只鸭子，后面有3只鸭子。



画一画：

算一算：

$$\square \bigcirc \square \bigcirc \square = \square \text{ (只)}$$

答：一共有 只鸭子。