

三年级数学

(考试时间: 80 分钟 满分: 100 分)

缺考标记		缺考标记 由监考教师填涂
填涂要求	正确填涂	 贴条形码区 (切勿贴出虚线框外)
	错误填涂示范	

1. 答题前, 同学们务必将姓名、所在班级、学校名称用黑色碳素笔填写在相应的位置, 缺考标记由监考教师填涂。

2. 选择题部分均使用 2B 铅笔作答, 并将相应选项涂黑。主观题部分均使用黑色碳素笔作答。

3. 请在各题目的答题区域内作答, 超出红色框区域的答案无效。

4. 字迹工整, 填涂规范, 保持卷面整洁, 答题卡要平整, 不要折叠。

一、选择, 把正确答案前的“□”涂满涂黑。(每小题 2 分, 共计 20 分)

- 手指甲的面积接近 ()。
☐ 1 平方厘米 ☐ 1 平方分米 ☐ 1 平方米
- 今年 2 月有 () 天。
☐ 28 ☐ 29 ☐ 30
- 象棋的口诀中有“象走田”的说法, 在下图的棋局中, 如果“象”要去吃掉对方的“兵”, 应该向 () 方向走。
☐ 西北 ☐ 东北 ☐ 东南
- 根据以下三位同学的想法, 他们正在计算的除法算式是 ()。
 小红: 因为 $12 \div 3 = 4$, 所以……
 小刚: 因为 12 个百除以 3 等于 4 个百, 所以……
 小坤: 因为 $400 \times 3 = 1200$, 所以……
☐ 120 ÷ 3 ☐ 1200 ÷ 4 ☐ 1200 ÷ 3
- 计算 $8 \square 4 \div 4$ 时, 如果商中间有 0, \square 可以填 ()。
☐ 3 ☐ 4 ☐ 5

6. 据中国铁路网消息, 2023 年 4 月 2 日恢复昆明南至香港西九龙的动车, 每天上午 8:13 从昆明南开, 下午 4:53 到香港西九龙, 一共运行 ()。

☐ 4 小时 40 分 ☐ 8 小时 40 分 ☐ 12 小时 40 分

7. 用下面的 2 个偏旁和 3 个字搭配, 组成新的字, 一共可以组成 () 个新字。

立 白 卜

☐ 5 ☐ 6 ☐ 1

8. 春风小学三年级有 6 个班, 每 2 个班举行一场篮球比赛, 一共要比赛 () 场。

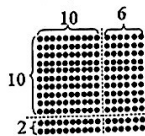
☐ 12 ☐ 15 ☐ 3

9. 右图中, 一共有多少个圆点?

正确列式为 ()。

☐ 12 × 16

☐ 12 + 16

☐ 20 × 12


10. 下表是三年级 4 个班足球比赛安排表, 三 (3) 班荣获第一名, 下面说法错误的是 ()。

对阵	时间	地点
A 组: 三 (1) — 三 (2)	15:10~15:30	东球场
B 组: 三 (3) — 三 (4)	15:10~15:30	西球场
A 组胜者 — B 组胜者 (决赛)	15:40~16:00	东球场
颁奖	16:10~16:20	西球场

☐ 三 (3) 班 15:20 在东球场参与比赛

☐ 三 (3) 班 15:45 在东球场参与比赛

☐ 三 (3) 班 15:20 在西球场参与比赛

二、填空。(每空 1 分, 共 20 分)

11. 在 \bigcirc 填上 “>” “<” 或 “=”。

45 平方米 \bigcirc 45 平方分米 $24 \times 12 \bigcirc 24 \times 3 \times 4$

1 米 3 分米 \bigcirc 0.9 米 $636 \div 8 \bigcirc 452 \div 5$

2 小时 10 分 \bigcirc 98 分

12. 小东正在海晏村看日落, 他前面是 () 方, 后面是 () 方。

13. 国产大型客机 C919 于 2023 年 5 月 28 日首次载客飞行, 中国东方航空 MU9191 从上海虹桥 10:32 起飞, 预计飞行时长 2 小时 25 分钟, 到达北京首都机场的时间是 ()。

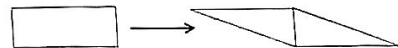
14. 儿童节是 () 月 1 日, 这个月有 () 天。

15. 一辆小火车坐 12 人, 30 辆可以坐几人? 列式为 ()。想: 先算 3 辆车坐 36 人, 再算 10 个 3 辆车人坐 () 人。

16. 一个气球 8 角, 用小数表示是 () 元, 读作 () 元。

17. 《九章算术》记载: 广从步数相乘得积步。如, 有田广 12 步, 从 14 步, 为田 168 平方步。今有田广 18 步, 从 20 步, 为田 () 平方步。

18. 一个长方形, 长 8 厘米, 宽 6 厘米, 将这个长方形沿对角线剪开, 拼成一个平行四边形, 剪拼前后, 面积不变。这个平行四边形的面积是 () 平方厘米。



19. 根据下面三题, 你发现了什么规律? 请根据规律直接写出其它各题的得数。

$15 \times 15 = 225$

$45 \times 45 = ()$

$25 \times 25 = 625$

$\dots\dots$

$35 \times 35 = 1225$

$85 \times 85 = ()$

20. 这是某汽车销售店 2018 年~2021 年燃油汽车和新能源汽车的销售情况:

年份	2018 年	2019 年	2020 年	2021 年
燃油汽车 (辆)	2222	2210	2192	2035
新能源汽车 (辆)	100	116	150	398

我发现: () 年燃油汽车销售量最多; 新能源汽车销售量逐年 ()。(填“增加”、或“减少”)

三、计算。(共 20 分)

21. 直接写出得数。(每题 1 分, 共 6 分)

$60 \div 2 =$

$46 \div 2 =$

$140 \times 6 =$

$800 \div 4 =$

$32 \times 20 =$

$9.6 - 2.4 =$

竖式计算。（每道竖式2分，带※的要验算，共14分。）

① $1+1.8=$ ② $416 \div 4=$ ③ $34 \times 12=$


④ $205 \div 5=$ ⑤ $56 \times 38=$ ⑥ $\ast 452 \div 7=$

四、观察与操作。（共10分）

23. 先涂色表示下面的小数，再比较大小。（4分）



24. 下面每个口代表1平方厘米，在方格纸上画出面积是12平方厘米的长方形，你能画几个？填写下表。（6分）



长方形	长/厘米	宽/厘米	面积/平方厘米	周长/厘米
1号	12	1	12	26
2号				
3号				

五、解决问题。（共30分）

网络空间中学

25. 六一节，星空超市开展购物积分兑换活动，每积满6分可以抵一元，王阿姨现有积分306分，可以抵几元？（5分）

26. 小丽家到学校有980米，她每天往返一次，一个星期（5天）共走几米？（5分）

27. 三（2）班举办“粽叶飘香，浓情端午”包粽子活动，有4个组参加，每组2人，一共包了192个粽子，平均每人包了几个粽子？（5分）

28. 小芳要买一套123元的书，每个月攒8元，一年能攒够吗？（5分） 不够

29. 乐乐周末写一篇不少于300字的作文，他写完后，数了数，一共有9行，每行28个字，乐乐的字数够了吗？

（1）下面是3位同学的解答过程，你认为哪些同学的解法正确，请在口里打“√”。（3分）

□小飞：

① $28 \approx 30$ ；② $30 \times 9 = 270$ （个）；③ $270 < 300$ 不够

□小丽：

① $9 \approx 10$ ；② $10 \times 28 = 280$ （个）；③ $280 < 300$ 不够

□小东：

① $300 \div 9 = 33$ （个）……3（个）；② $33 > 28$ 不够

（2）你最喜欢哪个同学的方法？请说明理由。（2分）

30. 下面是王奶奶家的菜地平面图，它的占地面积是多少平方米？（5分）

