

# 九年级历史试题

说明：请将答案填写在答题纸上。

一、选择题：(本大题共 20 题，每题 1 分，共 20 分。每小题给出的四个选项中，只有一项最符合题目要求。)

1. 由于生产力发展水平、交通条件的限制，古代文明的地域范围大多有限，其文明发源地有来自于大河流域，也有来自于海洋，以下内容正确的是  
A. 古埃及文明诞生于恒河  
B. 古印度文明诞生于两河流域  
C. 古罗马文明诞生于黑海  
D. 古希腊文明诞生于爱琴海
2. 《汉谟拉比法典》规定：“倘理发师未告知奴隶之主人而剃去非其奴隶的奴隶标识者，则此理发师应断指……”这反映此法典维护的是  
A. 奴隶的利益  
B. 奴隶主的利益  
C. 手工业者的利益  
D. 婆罗门的利益
3. 《西游记》是中国古代小说的经典作品，作品中描述了唐僧、孙悟空、如来佛祖等一系列角色，其中与“如来佛祖”有关的宗教是  
A. 伊斯兰教  
B. 道教  
C. 佛教  
D. 基督教
4. 亚瑟夫是古代雅典的公民，世代经商，家中有妻子露西，夫妇俩还有一个 6 岁的儿子，另有一个买来的奴隶。某一天，召开公民大会，这一家有资格参会的人数为  
A. 0 人  
B. 1 人  
C. 2 人  
D. 3 人
5. 罗马共和国初期，平民与贵族之间的矛盾更加尖锐，土地问题和债务问题愈加突出，平民为了争取充分的政治权利展开了激烈的斗争。为此，罗马  
A. 设立保民官  
B. 设立元老院  
C. 首创元首制  
D. 推行万民法
6. 右图是 2022 年冬奥会的会徽。请选择本届冬奥会的举办城市与奥运会的发源地搭配正确的一项  
A. 北京 古罗马  
B. 上海 古希腊  
C. 上海 古罗马  
D. 北京 古希腊
7. 德国的一位法学家说：“罗马曾经三次征服世界：第一次以武力，第二次以宗教，第三次以法律。”材料中的宗教指的是  
A. 道教  
B. 基督教  
C. 佛教  
D. 伊斯兰教
8. 中世纪西欧庄园里建有住宅、教堂、磨坊、仓库等设施，而且备有耕畜和各种生产工具。庄园的产品很少拿出去卖，除非万不得已，庄园很少出去采购。由此可见，西欧庄园  
A. 农业和手工业相当发达  
B. 为城市兴起奠定了基础  
C. 资本主义萌芽缓慢发展  
D. 基本处于自给自足状态
9. 中世纪的欧洲除了贵族世袭，各行业也基本上子承父业，各阶层之间流动受阻。大学改变了这一状况，学位使得任何阶层的人都有了社会晋升的希望。这表明，中世纪欧洲的大学  
A. 培养了大批高素质人才  
B. 促进了社会一定程度的公平  
C. 推动了教育的不断发展  
D. 消除了社会森严的等级观念
10. “帝国保存下来的古希腊和古罗马的史料、著作和哲学思想，后来传回欧洲，为中世纪欧洲突破天主教神权束缚提供了直接的动力，成为日后欧洲文艺复兴运动的思想基础。”据材料判断，这个“帝国”是



A. 亚历山大帝国 B. 查理曼帝国 C. 阿拉伯帝国 D. 拜占庭帝国

11. 日本历史上先后拜了两次老师,即古代的中国和近代的西方。其中向古代中国“拜师学艺”指的是

A. 伯里克利改革 B. 大化改新 C. 农奴制改革 D. 明治维新

12. 东败唐朝,西克埃及,长驱直入占领西班牙,至 8 世纪中期版图横跨欧、亚、非三大洲的帝国是

A. 拜占庭帝国 B. 奥斯曼帝国 C. 阿拉伯帝国 D. 波斯帝国

13. 如图是拉斐尔创作的圣母像,画家不再呈现圣母头上的光环,却赋予她纯朴善良、和蔼可亲的形象,充满了人间的爱。该作品表现了

A. 圣母的神圣威严 B. 中世纪艺术风格  
C. 人们的物质追求 D. 世俗的人性光辉



14. 《大国崛起》中写道:“欧洲贸易中心从地中海转移到大西洋沿岸,葡萄牙的里斯本、英国的伦敦等城市取代了意大利城市威尼斯、米兰等的商业中心地位。”推动上述变化的关键因素是

A. 十字军东征 B. 英国成为“日不落帝国”  
C. 新航路的开辟 D. 凡尔赛体系的形成

15. 马克思说:“资产阶级在它的不到一百年的阶级统治中所创造的生产力,比过去一切世代创造的全部生产力还要多,还要大。”他还说:“资本来到世间,从头到脚每个毛孔都滴着血和肮脏的东西。”对此理解正确的是

A. 资本主义既有进步性又有局限性 B. 资本原始积累具有残酷性  
C. 资本主义推动了人类历史的进程 D. 工业革命创造巨大生产力

16. 1689 年,英国议会赶走了岳父(詹姆士二世),迎来女婿荷兰执政威廉为英国国王,其妻子玛丽为女王,他们二人接受了《权利法案》。当时议会的目的是

A. 加强与荷兰的友好关系 B. 缓和与王室家族的关系  
C. 剥夺国王的全部权力 D. 把王权置于议会法权下


17. 近代以来,西方资本主义政治制度以君主立宪制和共和制最为典型。下列确立起资本主义共和制的国家是

A. 英国 B. 美国 C. 日本 D. 苏联

18. 某学者利用大量档案材料,如三级会议记录和 1789 年的陈情书,撰写出著名的《旧制度与大革命》一书。此处“大革命”指

A. 中国辛亥革命 B. 英国资产阶级革命  
C. 日本明治维新 D. 法国资产阶级革命

19. 下列四幅图片展示的发明出现在工业革命时期的是



A



B



C



D

20. “起来,饥寒交迫的奴隶,起来,全世界受苦的人!满腔的热血已经沸腾,要为真理而斗争!……”元旦前学校“教会会”会场上传出这一铿锵有力、曲调雄浑悲壮的歌声。这首歌词是作者为了纪念下列什么事件而创作的

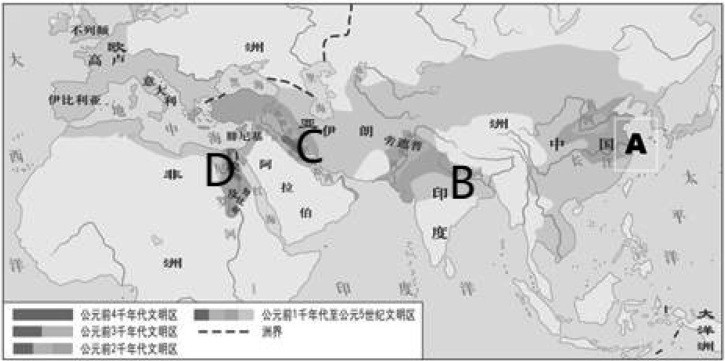
A. 《共产党宣言》发表 B. 中国抗日战争胜利  
C. 巴黎公社 D. 苏联解体

## 二、非选择题(共 30 分)

21. (10 分)世界农作物种类的不断丰富见证了人类社会的发展变迁。

材料一

古代主要文明示意图



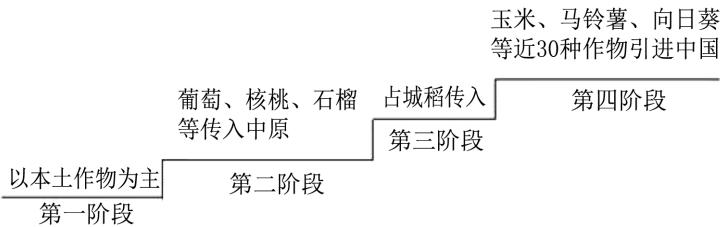
- (1)观察《古代主要文明示意图》，概括古代主要文明 A,B,C,D 的地理分布共同特点。(1 分)结合所学，写出 A 处最早人工栽培的农作物名称。(1 分)

材料二

<p>汉人使用的箸(筷子)传入辽地，使得契丹人的进食方式逐渐由单一用刀匙进食转变为箸刀并用或箸匙并用。女真人建立统治后，农耕、畜牧逐渐取代渔猎成为主要食物来源。粮食作物种植面积扩大，以粮食作物为主材料的面食大量出现在餐桌上。</p>	<p>东京城内开设有川饭店、南食店等南方风味的饮食店铺。南宋临安城饮食市场中的蒸作面行有五色馒头、细馅大包子、羊肉馒头、江鱼包儿等；素食店有三鲜面等各类面条。种类繁多的北方面食丰富了南方人的食物结构。</p>
--	--

- (2)依据材料二，概述两宋时期人们的饮食习惯。(2 分)结合所学说出这些饮食习惯形成的历史背景。(1 分)

材料三



- (3)上面是中国古代农作物传播示意图。概括第四阶段传入农作物的特点；(1 分)写出促成这个阶段农作物交流的重大历史事件名称。(1 分)

材料四 中世纪期间，黑麦是英国广大群众的口粮和牲畜饲料。14 世纪黑麦播种与收获之比是 1:1.4。中世纪晚期，重型轮式犁取代了过去的扒犁。物价上涨激励人们在农业经营中采取商业方式，根据市场需要不断调整生产。租地农场主除自己投入部分劳动外，也雇工协助耕种。15 世纪，黑麦播种与收获之比为 1:8.8。

——摘编自陈曦文《农业和农业变革是英国经济变革的基础》

- (4)依据材料四，概括中世纪晚期黑麦产量的变化，并分析其原因。(3 分)

22. (10 分)人口迁徙改变了历史。

材料一 自西晋末年至刘宋为止，许多少数民族自西、北方徙居中原，与汉族杂居(见下图)。中原地区陷入动荡也造成中原人士离开故土。北来的侨民多集中在长江流域。波澜壮阔的人口大流动，从短时态来看是加剧了社会动乱，但它也为社会的久远进步，开

(1)依据材料一，指出魏晋南北朝时期人口迁徙的主要表现。(2分)结合所学知识说明此阶段的人口迁徙对“社会的久远进步”的作用。(2分)

材料二 1620—1770年英属北美殖民地部分人口统计(单位:人)

	1620年	1680年	1720年	1750年	1770年
白人	2,282	144,536	397,346	934,340	1,688,254
黑人	20	6,971	68,839	236,420	459,822

——李剑鸣《美国殖民地时期的人口变动及其意义》

(2)依据材料二，结合所学，指出英属北美殖民地人口的变化并说明原因。(3分)分析这种变化给英属北美殖民地带来了哪些影响?(2分)

(3)人口迁徙是历史和现实中存在的一种常见现象。综上所述，请从人口迁徙的原因、特点、影响中任选一个角度谈谈你对人口迁徙问题的认识。(1分)

23.(10分)某历史兴趣小组以“文明之光”为主题进行探究活动,请你参与其中并完成任务。

任务一【解放思想——传承精神文明】

材料一 (它)并非对于古典文化的“亦步亦趋”的简单模仿……是新兴资产阶级反封建斗争在意识形态上的反映……新生的资产阶级为了求得自身的发展,必须首先在思想上从中世纪的宗教神学的桎梏下解放出来……这个时期产生的文学、艺术作品及政治、哲学著作都鲜明地表现出新的时代精神。

——吴于崖、齐世荣《世界史·近代史编》

(1)材料一反映了世界近代史上哪一运动?该运动的核心思想是什么?这一运动的先驱是谁?(3分)

任务二【重视法治——关注政治文明】




图1 纪念币




图2 1789年制宪会议通过

(2)图1是英国为纪念某部重要文献颁布300周年发行的纪念币。这部文献的名称是什么?该文献颁布后英国逐渐形成了什么政治体制?(2分)

(3)图2法律文献在哪一次资产阶级革命中颁布?(1分)

任务三【革新工具——见证经济文明】

材料二 18世纪60年代以来,以改良蒸汽机为代表的一系列技术革命,引发了从手工劳动到机器大生产的巨大变革。机器大生产带来了劳作方式和生产关系的深刻变革。工厂出现了,大批产业工人被工厂主聚集起来,在专门化的厂房中劳作,彻底改变了手工作坊零碎分散的生产状态。

——《经济与社会生活》

(4)材料二中“改良蒸汽机”的发明家是谁?“机器大生产”使传统的手工工场发生了怎样的变化?由此最终确立了什么制度?(3分)

(5)综合以上探究,人类对文明的追求与奋斗过程,你得到了哪些启示?(1分)