

# 2022—2023 学年度第二学期期末考试卷三年级数学试题

题号	一	二	三	四	五	总分	等级
得分							

## 一、填空。(每空1分,共31分)

1、 $\frac{5}{6}$  读作( ),九分之六写作( )。

2、填上适当的单位。

作业本封面的面积约3( ) 黑板面的面积约为5( )

一棵大树高约10( ) 淘气的体重约为28( )

一个乒乓球重约3( ) 一车西瓜约重3( )

3、在( )里填上合适的数。

1吨-600千克=( )千克 200克+( )克=1千克

400平方分米=( )平方米 5米=( )厘米

4、在○里填上“>”“<”或“=”。

$$96 \div 4 \bigcirc 96 \div 6$$

$$46 \times 17 \bigcirc 18 \times 46$$

$$\frac{3}{7} \bigcirc \frac{5}{7}$$

$$13 \times 29 \bigcirc 12 \times 30$$

$$168 \div 6 \bigcirc 168 \div 3 \div 2$$

$$\frac{1}{6} \bigcirc \frac{1}{7}$$

5、 $\square \div 6 = 33 \dots \Delta$ ,  $\Delta$ 最大是( ),这时被除数是( )。

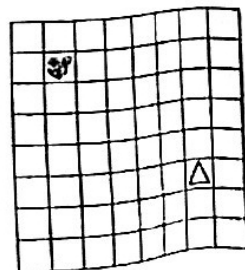
6、 $\square 20 \div 6$ ,要使商是三位数, $\square$ 里最小填( ),要使商是两位数, $\square$ 里最大填( )。

7、 $40 \times 50$ 的积的末尾有( )个0,最大的两位数与最小的两位数的乘积是( )。

8、一个长方形的周长是50分米,已知它的宽是7分米这个长方形的面积是( )平方分米。

9、淘气喝了一杯果汁的 $\frac{2}{5}$ ,还剩下这杯果汁的 $(\frac{\quad}{\quad})$ ,剩下的比喝了的多这杯果汁的 $(\frac{\quad}{\quad})$ 。

10、如右图,小老鼠先向( )平移( )格,再向( )平移( )格,就能吃到三角形的奶酪。



## 二、选择。(把正确答案的字母填在括号里)(6分)

1、下面哪个交通标志不是轴对称图形( )。

A.



B.



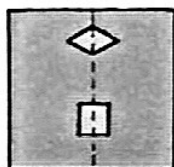
C.



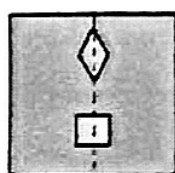
2、如下图所示,淘气在对折好的纸上剪了两个洞,打开后的图形是( )。




A.



B.



C.

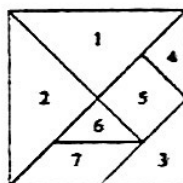


3、如右图所示,2号图形的面积占大正方形的( )。

A.  $\frac{1}{7}$

B.  $\frac{1}{4}$

C.  $\frac{1}{2}$




4、光明小学一、二、三年级共有360名学生,每个年级有3个班,平均每个班有多少名学生?下面列式不正确的是( )。

A.  $360 \div 3 \div 3$

B.  $360 \div (3 \times 3)$

C.  $360 \div 3 \times 3$

5、下面图形的周长都是( )厘米,其中最大的图形的面积是( )平方厘米。  
(每个小格子边长1厘米)



A.5

B.8

C.9

D.12

## 三、计算。(共32分)

1、直接写得数。(每题1分,共10分)

$$560 \div 7 =$$

$$24 \times 50 =$$

$$100 - 73 =$$

$$30 \times 6 =$$

$$65 \div 8 =$$

$$\frac{2}{9} + \frac{2}{9} =$$

$$1 - \frac{3}{10} =$$

$$305 \times 2 =$$

$$0 \div 2023 =$$

$$906 \div 3 =$$

2、脱式计算。(每题3分,共9分)

$$160 \div 5 \times 8$$

$$36 + 642 \div 6$$

$$15 \times (506 - 450)$$

3、竖式计算,带\*的要验算。(前5小题每题2分,第6小题3分,共13分)

$27 \times 11 =$

$14 \times 41 =$

$36 \times 34 =$

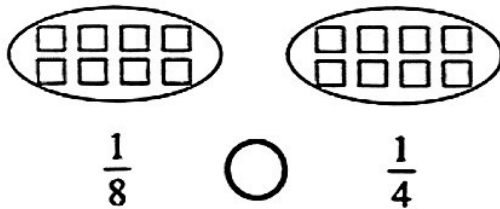
$714 \div 7 =$

$258 \div 3 =$

$* 508 \div 8 =$

四、按要求做一做。(9分)

1、涂一涂,比一比。(3分)



2、看图列式计算。(3分 $\times$ 2=6分)



五、知识应用。(22分)

1、爸爸从超市买回一袋面粉,妈妈第一天用去这袋面粉的 $\frac{2}{9}$ ,第二天比第一天多用去这袋面粉的 $\frac{1}{9}$ ,妈妈两天一共用去这袋面粉的几分之几?(4分)

2、笑笑从家出发去科技馆。她每分钟走68米,走了12分钟,这时离科技馆还有120米。笑笑家距离科技馆有多少米?(4分)

3、一个长方形花坛的长是13米,宽是90分米。

(1)这个长方形花坛的面积是多少平方米?(3分)

(2)如果每平方米可以种植4棵玫瑰花,这个花坛一共可以种植多少棵玫瑰花?(2分)

4、某商店新进一批玩具飞机,6个玩具飞机卖了72元。照这样计算,13个玩具飞机能卖多少元?(4分)

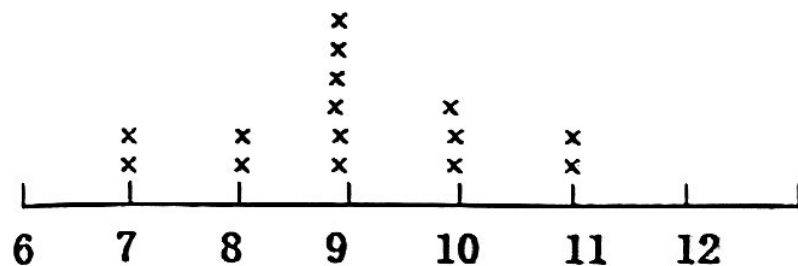
5、下面是围棋社团20名成员的年龄记录表。(5分)

围棋社团成员的年龄情况

单位:岁

第一小组	7	9	11	8	10	第二小组	9	8	9	10	9
第三小组	9	7	11	9	10	第四小组	11	9	7	10	10

(1)如下图,笑笑已经画出了前3个小组的年龄,你能接着画出第四小组的年龄吗?  
(2分)



(2)( )岁的同学最多。(1分)

(3)低于9岁(不包括9岁)的同学有( )人,占全部同学的 $(\frac{\quad}{\quad})$ 。(2分)