

一年级下册期末课堂练习题

数学(北师大)

(时间: 60 分钟 满分: 100☆ 练习范围: 全册)

题号	一	二	三	四	五	总☆
得☆						

一、填空题。(28☆)

1. \triangle 比 \bigcirc 少 6 个, \triangle 有()个。


2. 看图写数。

3. 在 \bigcirc 里填上 “>” “<” 或 “=”。

$78 \bigcirc 87$

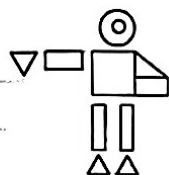
$12-9 \bigcirc 12-8$

$24+9 \bigcirc 29+4$

$80+10 \bigcirc 90$


$95-25 \bigcirc 65+15$

$50+7 \bigcirc 60-13$

4. 数一数。如右图中, \triangle 有()个, \bigcirc 有()个, \square 有()个, \square 有()个。

5. 找规律填数: 1, 5, 9, 13, 17, 21, 25, (), 33。

二、选择题。(12☆)





1. 从  的背面看, 会看到()。

2. 用 9、13、4 写出减法算式, 不正确的是()。

A. $13-4=9$

B. $13-9=4$

C. $9-4=5$

3.  有 98 个,  比  少得多,  可能有()个。


A. 100

B. 25

C. 90

4. $\bigcirc \square \triangle \bigcirc \square \triangle \bigcirc \square \triangle$, 接着画下去, 第二个应该画()。A. \bigcirc B. \triangle C. \square

5. 这包大约有()个。



A. 35

B. 60

C. 90

6. 东东有 50 元, 可以买下面()选项的两种玩具。



A. ①和②

B. ①和③

C. ②和③

三、计算题。(16+12+6=34☆)

1. 直接写出得数。

$12-3=$

$11-7=$

$63+30=$

$74-30=$

$9+25=$

$70-40=$

$36+20=$

$60+21=$

$46-8=$

$27+30=$

$12-5=$

$95-9=$

$30+20=$

$50+8=$

$45+8=$

$64-10=$

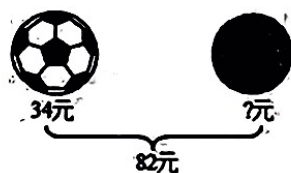
2. 用竖式计算。

$$66+9= \quad 30-7= \quad 14+52= \quad 100-46=$$

3. 看图列式。



$$\square \bigcirc \square = \square \text{ (条)}$$



$$\square \bigcirc \square = \square \text{ (元)}$$

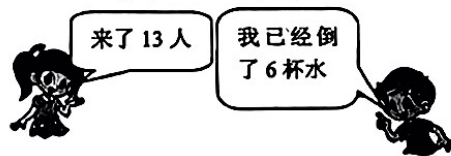
四、连线题。(6☆)

他们看到了什么?



五、解决问题。(20☆)

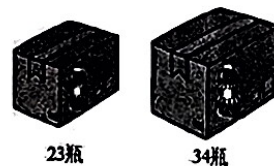
1. 每人一杯水, 还差几杯?



$$\square \bigcirc \square = \square \text{ (杯)}$$

答: 还差 () 杯。

2. 共有多少瓶饮料?



$$\square \bigcirc \square = \square \text{ (瓶)}$$

答: 共有 () 瓶饮料。

3. 还剩多少个松果?



$$\square \bigcirc \square = \square \text{ (个)}$$

答: 还剩 () 个松果。

4. 小兔有多少只?



$$\square \bigcirc \square = \square \text{ (只)}$$

答: 小兔有 () 只。