



2022—2023 学年度第二学期期末监测

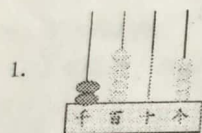
二年级数学试题

(时间: 40 分钟)

等级

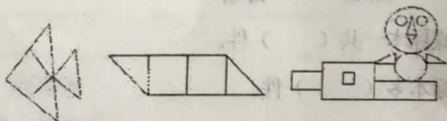
亲爱的小朋友们, 愉快的一学期快结束了, 你又收获了好多数学知识吧? 让我们一起进入知识的乐园, 收获你的果实。开始吧!

一、填一填。



计数器上表示的数是 (), 它由 () 个千, () 个百和 () 个一组成, 读作 ()。

- 为庆祝“六一”, 二年级一班买了 52 个气球, 每 6 个扎成一束, 可以分成 () 束, 还剩 () 个。
- 在括号里填上合适的长度单位。
北京到西安的高速公路大约长 1107 () 方格本的厚度大约是 2 ()
青蛙一次约能跳 7 () 长颈鹿的身高约 5 ()
- 在 \bigcirc 里填上 “ $>$ ”、“ $<$ ” 或 “ $=$ ”。
 $2370 \bigcirc 2307$ $1000 - 30 \bigcirc 700$ $60 \text{ 厘米} \bigcirc 600 \text{ 毫米}$
 $5 \text{ 千米} \bigcirc 500 \text{ 米}$ $900 - 80 \bigcirc 960 - 80$ $750 + 200 \bigcirc 950$
- 从 0、2、5、8 中选出三张卡片组成不同的三位数, 其中最大的数是 (), 最小的数是 ()。
- 数一数, 下图中有 () 个长方形, () 个正方形, () 个三角形。
() 个圆形。






7. 在 $\star \div 6 = 6 \dots \triangle$ 中, \triangle 最大是 (), 此时被除数是 ()。

8. 一座大楼上的彩灯按红、黄、蓝、紫、绿的顺序依次安装的, 一共有 27 只彩灯, 最后一只彩灯是 () 色。

二、选一选。

1. 下面哪一幅图表示的是 1206? ()



2. 小朋友们进行跳远比赛, 赵宇跳了 70 厘米, 王欣跳了 9 分米, 他们两个人比较, ()。

- A. 王欣跳得远些 B. 赵宇跳得远些 C. 两人跳得一样远

3. 13 名少先队员到社区做好事, 每 4 人一组,

可以分成几组? 还剩几人? 小明用竖式计算 (右图),

$$\begin{array}{r} 4 \overline{) 13} \\ \underline{12} \\ 1 \end{array}$$

竖式中的 “12” 表示 ()。

- A. 总人数 B. 已分的人数 C. 剩下的人数

4. 二年级的同学们去剧场看演出, 一年级有 198 人, 二年级有 195 人。大约需要 () 个座位。

- A. 300 B. 400 C. 500

5. 计算 “ $200 - 98$ ”, 下面 4 个同学采用了不同的方法, () 的方法正确。

笑笑

$$\begin{array}{r} 200 - 90 = 110 \\ 110 - 8 = 102 \end{array}$$

淘气

$$\begin{array}{r} 200 - 100 = 100 \\ 100 + 2 = 102 \end{array}$$

奇思

$$\begin{array}{r} 200 = 198 + 2 \\ 198 - 98 = 100 \\ 100 + 2 = 102 \end{array}$$

妙想

$$\begin{array}{r} 200 \\ - 98 \\ \hline 102 \end{array}$$

- A. 只有笑笑和妙想 B. 只有淘气和奇思 C. 笑笑、淘气、奇思、妙想

题号	得分
一	
二	
三	
四	
五	
总分	

三、算一算。

1. 口算。

$$60+500= \quad 48 \div 6= \quad 86-30= \quad 700+80= \quad 0 \div 8=$$


$$250+300= \quad 260-130= \quad 711+307 \approx \quad 399-102 \approx \quad 45+34=$$

2. 用竖式计算，带▲号的要验算。

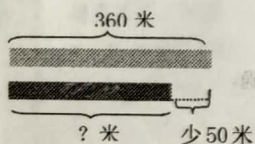
$$84 \div 9= \quad \blacktriangle 613-256= \quad 407+376-278=$$

四、我会做。

1. 请你连一连，下面的图形分别是谁看到的？



2. 看图列式计算



列式：_____ 列式：_____

五、解决问题。

1. 同学们排队体检，刘新排在第45个，如果体检室每次进6人，那么刘新是第几组？

2. 一双鞋子的价钱是一双手套价钱的7倍，一双鞋子和一顶帽子一共多少钱？



一顶帽子9元 一双手套8元

3. 济南到潍坊比济南到曲阜远多少千米？




4. 小亮记录了自己收集的各种标本的数量。

海螺	贝壳	蝴蝶	珊瑚
正 正	正 下	正 一	正 正 丁

(1) 填一填。

海螺()个；贝壳()个；蝴蝶()个；珊瑚()个。

(2) 涂一涂。(每格代表1)



(3) 收集的海螺标本和蝴蝶标本一共()件。

(4) 收集珊瑚标本比贝壳标本多()件。