

二年级数学试题

(满分 100 分 时间 40 分钟)

题号	一	二	三	四	五	六	总分
得分							

得分	评卷人
(7+49)÷7	

一、“认真细致”填一填。(每空 1 分,共 28 分)

1. 李老师有 12 支笔,平均奖励给 4 个小朋友,每个小朋友分得()支。
2. 一个数的千位上是 7,十位上是 9,个位上是 8,这个数写作(),读作()。
3. 一个一个地数,6499 前面的一个数是(),后面的一个数是()。
4. 8056 里面有()个千,5 个(),()个一。
5. 在()里填上“>”、“<”或“=”。
- 7×8()56 63÷7()8 9()54÷9 400 克()4 千克
6. 把合适的单位填在下面的括号里。
- 玲玲和妈妈一起去超市购物,买了一个价格 128()的书包,一袋重 500()的食盐,一把长度为 20()的直尺,还有一袋重为 10()的大米。
7. 果园里有 6018 棵树,约是()棵。
8. 有一些苹果,如果每 8 个装一袋,装了 4 袋,还剩 3 个,这些苹果一共有()个;如果每 7 个装一袋,可以装()袋。
9. 在一道有余数的除法算式中,如果除数是 8,余数最大是()。如果余数是 6,除数最小是()。
10. 华华阅读一本“科幻书”时,翻页的过程中,页面的运动是()现象;火箭发射升空的一段运动是()现象。(填“平移”或“旋转”)
11. 将 $45\div9=5$,和 $87-78=9$ 合并成一个综合算式是()。
12. 某校六年级有 48 人,两位老师带着他们去划船。每条船最多坐 6 人,他们至少得租()条船。

13. 有玫瑰 21 枝、康乃馨 14 枝、百合 9 支。用 5 枝玫瑰、4 枝康乃馨、2 枝百合扎成一束,这些花最多可以扎成()束这样的花束。

14. 在右面的方格中,每行、每列都有 1~4 这四个数,并且每个数在每行、每列都只能出现一次,A 应该是(),B 应该是()。

	3		
		B	1
	2		
4	A	2	

得分	评卷人

二、“火眼金睛”判一判(对的在括号里打“√”,错的打“×”)。(5 分)

1. 读 7080 时,只读一个零。()
2. $8\square36 > 8539$, \square 中有 5 种填法。()
3. 计算 $86 - 5 \times 8$ 时,要按从左往右的顺序计算。()
4. 六(1)班选拔班长,采用“正”字法统计票数,小明获得了 4 个“正”字和一个“下”,共 24 票。()
5. 在有余数的除法里,除数必须大于余数。()

得分	评卷人

三、“对号入座”选一选(选择正确答案前的字母填在括号里)。(5 分)

1. 下面各数一个 0 都不读的是()。
A. 5708 B. 6005 C. 9800 D. 3052
2. 在 $9 \times \bigcirc < 56$ 中, \bigcirc 里最大可以填()。
A. 5 B. 6 C. 7 D. 8
3. 如果两个面包卖 10 元钱,25 元可以买()个。
A. 2 B. 3 C. 4 D. 5
4. 学校推拉窗的移动是()现象。
A. 对称 B. 平移 C. 旋转 D. 以上都不是
5. 小军在计算“ $20 - \bigcirc \div 4$ ”时弄错了运算顺序,先算减法后算除法了,结果得数是 3,正确的得数应该是()。
A. 15 B. 16 C. 17 D. 18

得分	评卷人

四、“神机妙算”对又快。(共 28 分)

1. 直接写得数。(8 分)

$300 + 3000 =$ $42 \div 7 =$ $9 \times 9 =$ $45 \div 5 - 5 =$

$54 \div 9 =$
 $110 - 70 =$
 $28 + 6 =$
 $4 \div 4 \times 2 =$

2. 竖式计算。(8分)

$72 \div 8 =$

$48 \div 7 =$

$42 \div 6 =$

$60 \div 9 =$

3. 脱式计算。(12分)

$72 \div 9 \div 4$

$6 \times (80 - 76)$

$(48 \div 8) \times 5$

$(7 + 49) \div 7$

$33 + 7 \times 5$

$66 - 40 \div 8$

得分	评卷人

五、我会操作。(共10分)

1. 按规律填空。

(1) 按规律在以下方框里填出相应的颜色。(2分)

红	黄	蓝	蓝	红	黄	蓝	蓝	红	黄	蓝	
---	---	---	---	---	---	---	---	---	---	---	--

(2) 如果按上面的规律,第34个方框里应该填()色。(2分)

2. 调查某个班学生最喜欢的一项运动情况如下:

项目	乒乓球	篮球	跳绳	足球
人数	12人	10人	8人	2人

(1) 他们中最喜欢()运动项目的人数最多。最喜欢()运动项目的人数最少。(2分)

(2) 全班一共有()名学生。(2分)

(3) 如果把全班同学平均分成4个小组做游戏,每个小组()人。(2分)

得分	评卷人

六、走进生活,解决问题。(第1、2题各6分,其余各4分,共24分)



1. “六一”儿童节,小红的妈妈带小红去买礼物,给她买了一盏台灯和一个布娃

娃,其中台灯 63 元,布娃娃 25 元。

- (1)请你算一算妈妈拿 100 元够吗? (2)如果够,应找回多少元?

二年级数学试题

- 2.五一期间电器促销,妈妈买了如下两件电器。





					
原价: 2900 元	原价: 1100 元				
现价: 2000 元	现价: 900 元				

- (1)妈妈共花了多少元钱?

- (2)促销期间,洗衣机比微波炉贵多少元钱?

- 3.李奶奶家养了 28 只母鸡,12 只公鸡,要关在 8 个笼子里,每个笼子平均关多少只鸡?

- 4.买 2 双袜子和一双鞋一共需要多少钱?

			
39 元	26 元	9 元	68 元

- 5.李老师周末带着小朋友们去公园玩。李老师买票一共花了 66 元。请你算一算,一共去了多少小朋友?

票价:
成人: 每张 12 元
儿童: 每张 6 元