

一年级数学试题

(满分 100 分 时间 40 分钟)

题号	一	二	三	四	五	六	七	总分
得分								

得分	评卷人

一、我会填。(27 分)

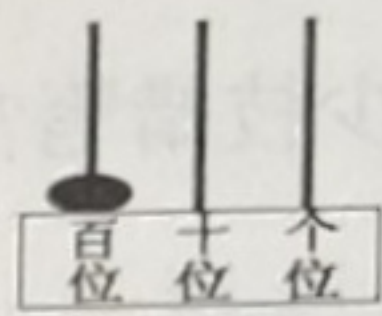
1. 数一数,填一填。



一共有 ()
片树叶。



() 个十 () 个一,
是 ()。



写作: ()
读作: ()

2. (1) 一个一个地数,与 70 相邻的两个数是 ()、70、()。
(2) 十个十个地数,写出 60 相邻的两个数,()、60、()。

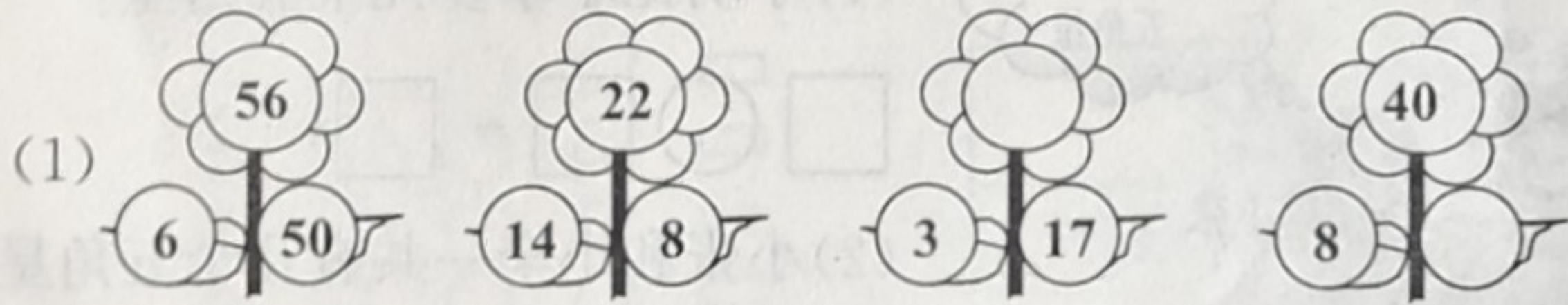


3. () 元 () 元 () 角

4. 6 元 = () 角 72 分 = () 角 () 分

5. 比 49 多 1 的数是 (), 比 100 少 1 的数是 ()。

6. 找规律,填一填。



(2) 看一看,画一画。



7. 在○里填上“>”、“<”或“=”。

$91 \bigcirc 9 \text{ 个十}$

$53 - 7 \bigcirc 9 + 35$

$2 \text{ 角} + 8 \text{ 角} \bigcirc 1 \text{ 元} 1 \text{ 角}$

8. 75 块夹心饼干, 10 块装一盒, 可以装满()盒, 还剩()块。

得 分	评卷人

二、请你当小法官(对的画“√”, 错的画“×”)。(5 分)

1. 从右边数, 第二位是百位。 ()
2. 比 58 大, 比 63 小的数有 4 个。 ()
3. 最大的一位数比最大的两位数少 90。 ()
4. 毛毛买一本 15 元的漫画书, 还差 5 元, 毛毛带了 20 元钱。 ()
5. 明明有 10 本书, 芳芳有 6 本书, 明明给芳芳 2 本后, 他们的书就一样多了。 ()

得 分	评卷人

三、选一选(在正确答案的下面画“√”)。(10 分)

1. 下面的数中, 哪一个比 80 大, 比 85 小。

① 82

② 63

③ 87

2. 丽丽给地震灾区捐了 2 张



和 1 张



, 她一共

捐了多少元?

① 25

② 15

③ 20

3.

我采了 23 个蘑菇。

我采的
比豆豆采的
多得多。



皮皮



豆豆



乐乐

我采的
比豆豆采的
少一些。

(1) 皮皮可能采了多少个蘑菇?

(2) 乐乐可能采了多少个蘑菇?

① 19

② 25

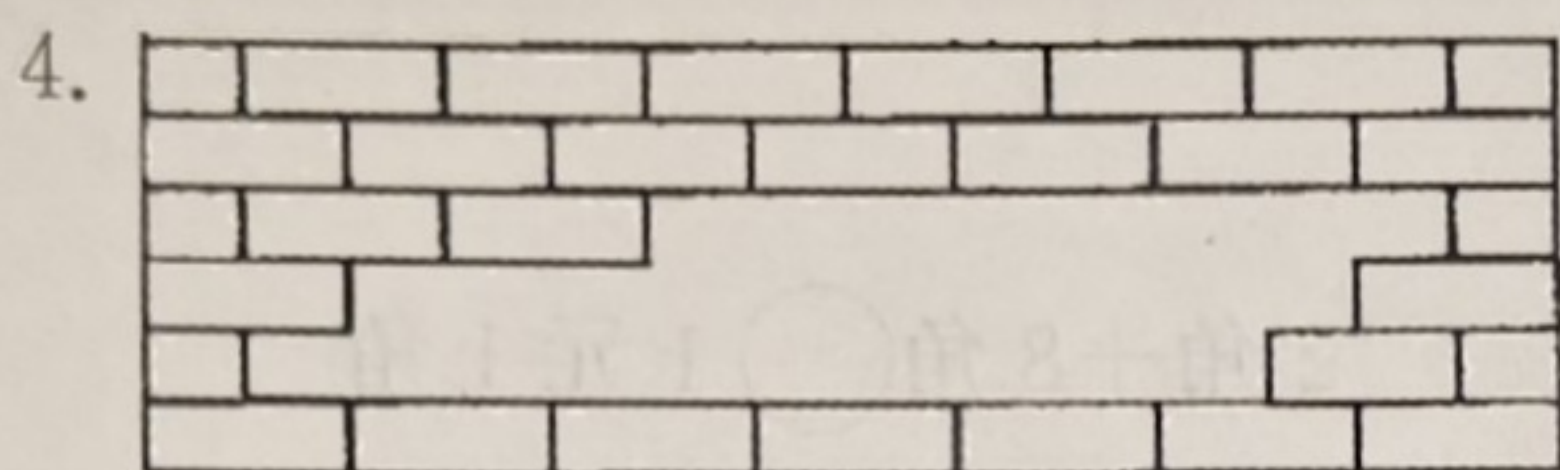
③ 45

① 8

② 20

③ 23

座 号



少了几块 ?

①13

②14

③15

得分	评卷人

四、争当计算小能手。(16分)

$13-8=$

$45+4=$

$87-7=$

$30+24-3=$

$16-9=$

$72-50=$

$56-6=$

$15-9+60=$

$20-5=$

$42+8=$

$26+9=$

$80-(7+23)=$

$33+20=$

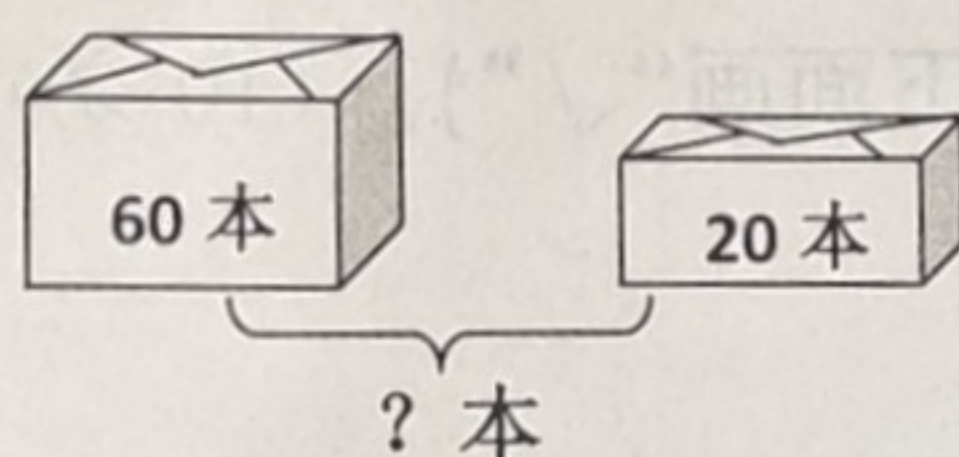
$50+30=$

$57-7=$


$30+(11+9)=$

得分	评卷人

五、看图列式计算。(6分)



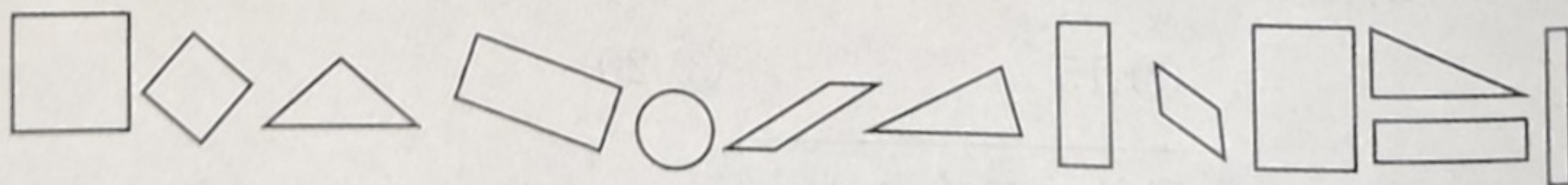
$\square \bigcirc \square = \square (\text{本})$



$\square \bigcirc \square = \square (\text{块})$


得分	评卷人

六、统计小专家。(①②小题各5分,③④小题各2分,共14分)



①按形状分一分、涂一涂。

②根据分的结果填写下表。



个数					

③ () 最多, () 最少。

④ 三角形比长方形少 () 个。

得分	评卷人

七、我会填。解决问题小行家。(第5题6分,其余每题4分,共22分)

1.

学校有20个篮球。



有25个足球。

一共有多少个球?

$$\square \bigcirc \square = \square (\text{个})$$

2.



淘气

我有25枝蜡笔。

我比你少7枝。



笑笑

笑笑有多少枝蜡笔?

$$\square \bigcirc \square = \square (\text{枝})$$

3.



42元



20元

台灯比书包贵多少元?

$$\square \bigcirc \square = \square (\text{元})$$

4. 公交车上原有26人,到站后,下去了10人,又上来了8人。现在车上有多少人?

$$\square \bigcirc \square \bigcirc \square = \square (\text{人})$$

5.

我有52个五角星

我有30个五角星

我有18个五角星

小明

小李

小张

(1) 小明比小李多几个五角星?

$$\square \bigcirc \square = \square (\text{个})$$

(2) 小张和小李一共有几个五角星?

$$\square \bigcirc \square = \square (\text{个})$$