

2022~2023 学年度下学期 小学一年级数学核心素养大练习四

(北师大版)(教师读题干)

(时间: 60分)

题号	一	二	三	四	五	六	总分	等级
得分								



一、我能细心算对。(28分)

(1) 我能直接写出得数。

$16-7=$	$6+8=$	$100-40=$	$83-51=$
$55+45=$	$93-70=$	$60+22=$	$79-38=$
$94-90=$	$60+30=$	$76-6=$	$50+20=$
$87-60=$	$41+23=$	$32+23=$	$100-70=$

(2) 我会用竖式计算。

$46+39=$	$93-28=$	$57+26=$
----------	----------	----------

$81-67=$	$17+58=$	$62-34=$
----------	----------	----------



二、认真比较正确选。(12分)

(3) 把最大的数圈起来。

78	97	89
----	----	----

(4) 把大于 60 但小于 90 的数圈起来。

58	91	73
----	----	----

(5) 把正确的算式圈起来。

$\begin{array}{r} 100 \\ - 36 \\ \hline 74 \end{array}$	$\begin{array}{r} 75 \\ - 28 \\ \hline 47 \end{array}$	$\begin{array}{r} 26 \\ + 49 \\ \hline 65 \end{array}$
---	--	--

(6) 看下面三句话, 给错误的后面画“×”。

- ① 最大的两位数是 99。
- ② 最小的两位数是 11。
- ③ 用竖式计算加减法, 要相同数位对齐。

(7) 把与“80”最接近的数圈起来。

52	76	82
----	----	----

(8) 给下面不正确的后面画“×”。

- ① 100 是 10 个十。
- ② 36 中的“3”表示 3 个十。
- ③ 在“88”中, 两个“8”表示的意思完全一样。

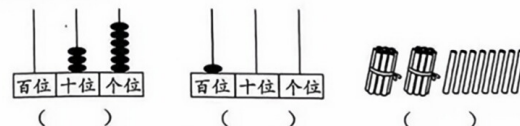


三、正确填空我能行。(35分)

(9) 按顺序填数。

89			92	93	94	95	96	97			101
----	--	--	----	----	----	----	----	----	--	--	-----

(10) 看图写数。




(11) 60 里面有 () 个十。3 个一和 7 个十合起来是 ()。
个位和十位上都是 6 的两位数是 ()。

(12) 85 十位上的数字是 (), 这个数字表示 () 个 ()。

(13) 如右面的减法竖式，计算 $62-38$ 时，个位上 2 减 8 不够减，从十位借 1 后，个位上要算 () 减 8 得 ()，十位上的 6 借走了 1，所以十位上要算 () 减 3 得 ()，这道题的结果是 ()。

$$\begin{array}{r} \overset{\cdot}{6} 2 \\ - 3 8 \\ \hline \end{array}$$

(14) 认一认，填一填。



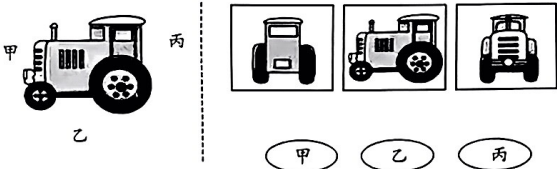
() 个	() 个	() 个	() 个

(15) 在○里填“>”“<”或“=”。

$46+7$ ○ $40-13$ $90-56$ ○ $90-46$ $67+8$ ○ $67+28$
 $52+30$ ○ $89-8$ $69-12$ ○ $20+37$ $37+61$ ○ $58+29$

四、我爱动手做。(10 分)

(16) 右面三幅图，分别是甲、乙、丙拍到的照片。连一连。



(17) 各画一条线，把每个图形分成两个长方形。



五、联系生活我会解。(15 分)

(18) (1) 班共有学生 51 人，其中女生 24 人，男生有多少人？

(19) 哥哥有 25 本课外书，妹妹的课外书比哥哥多 8 本。妹妹有多少本课外书？

(20) 妈妈今年 32 岁，小芳今年 4 岁。再过 3 年，妈妈比小芳大几岁？

(21) 根据右面的表格，提出一个用减法解决的数学问题并解答。

书包	彩笔	文具盒
40 元	18 元	12 元

六、附加题。(10 分)

(22) 有一篮苹果，每次取 5 个，取了 10 次，篮子里还有 3 个。原来篮子里有 () 个。

(23) $45-\star=37+\star$ ， $\star=()$