

小学一年级数学

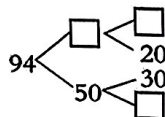
2023.7

一、填一填。

1. 在方框里填上适当的数。

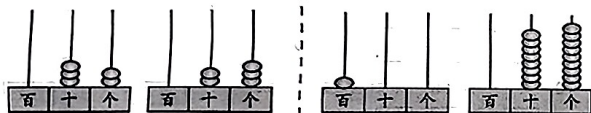
37 39 41

98 97 95



2. (1) 个位上是 6, 十位上是 9 的数是 ()。
(2) 个位上是 7, 十位上是 () 的数是 ()。

3. 填一填、比一比。



() ○ ()

4. 在○填上“>”“<”或“=”。

$$13 - 7 \bigcirc 6$$

$$63 - 50 \bigcirc 12$$

$$69 + 9 \bigcirc 79$$

$$88 - 8 \bigcirc 88 - 7$$

$$30 + 55 \bigcirc 45 + 40$$

$$99 - 9 \bigcirc 50 + 39$$

5.



() 元 () 角 () 元 () 角 () 元 () 角

6.

要买的物品			
3角	2元	20元	
付 出			
找 回	() 角	() 元	() 元

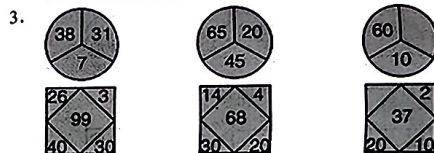
7. 比 78 多 20 的数是 () , 比 71 少 8 的数是 () 。

8. 99 十位上的“9”表示的数比个位上的“9”表示的数多 () 。

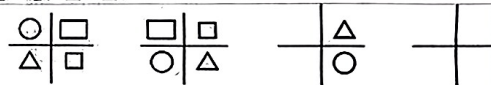
二、找规律, 填一填、画一画、猜一猜。

1. 1, 1, 2, 1, 1, 2, , , , , , ,

22		24	33		53
42		44	55		75




4. 想一想, 画一画。



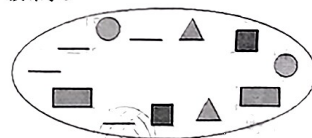
5. 哪组小棒能摆成长方形? 画“√”。



6. 猜一猜, 盒子里有 () 颗珠子。



6 题图



7 题图

7. 找规律, 画图形。

三、选一选。(把正确答案的序号填在括号里)

1. () 不是最大的两位数, 但比 95 大, 而且是单数。

- A. 99 B. 98 C. 97 D. 96

2. 一张 100 元可以换几张 20 元或几张 10 元。()
 A. 10 5 B. 5 10 C. 以上都对
3. 红花有 89 朵, 黄花比红花少很多。黄花可能有 ()。
 A. 88 只 B. 25 只 C. 90 只
4. 一个排球 27 元, 一个篮球比一个排球贵多了。一个篮球可能 () 钱。
 A. 26 元 B. 30 元 C. 70 元



宁宁可能有多少元? (画“√”) 明明可能有多少元?
 (画“○”)

100 元	28 元	20 元	8 元



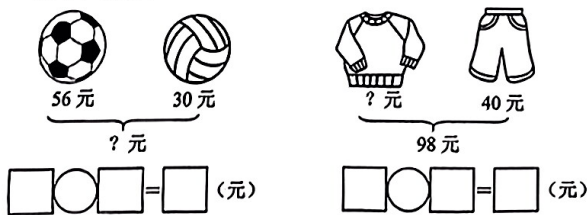
四、数一数, 并填空。

长方形有 () 个, 正方形有 () 个,
 三角形有 () 个, 圆有 () 个。

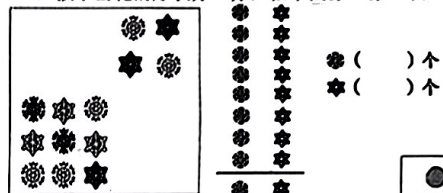
五、看谁算得都对。

1. $74-60=$ $91-70=$ $59+7=$ $8+89=$
 $46-8=$ $61-5=$ $85-50=$ $7+77=$
 $92-30=$ $50+7+40=$ $76-30+8=$
 $96-80-6=$ $71-(13+7)=$ $88-60+9=$
 $40+(53-20)=$ $91+(48-40)=$

2. 看图列式计算。



六、(1) 按小雪花的形状分一分, 在下面涂一涂、填一填。



(2) 按雪花颜色的分一分、填一填。

() 个
() 个

七、解决问题。


1.

- (1) 一个书包比一个铅笔盒贵多少钱?

$\square \bigcirc \square = \square$ ()

- (2) 买一个书包和一个铅笔盒共多少钱?

$\square \bigcirc \square = \square$ ()



2. 读书问题。

- (1) 一本故事书有 87 页, 红红还剩 50 页没看, 看了多少页?

$\square \bigcirc \square = \square$ ()

- (2) 一本连环画 76 页, 聪聪看了 9 页, 还剩多少页没看?

$\square \bigcirc \square = \square$ ()

3. 有 42 人开会, 还要搬多少张桌子和多少把椅子?



4. 车上原有 32 人。



车上现在有多少人?