

2023 年春小学三年级期末素质测试

数学试题

题号	一	二	三	四	五	六	总分
得分							

一、我会填一填。(每空 1 分,共 22 分)

- 根据 $20 \times 24 = 480$, $2 \times 24 = 48$, 可以直接写出 22×24 的积是()。
- $7 \square 9 \div 7$, 要使商的中间有 0, 且没有余数, \square 里应填()。
- 下面是李老师每天早晨跑步锻炼的路线图。



李老师每天从家先向()跑到图书馆,再向()跑到公园,再向()跑到超市,最后向()跑回家。



- 左图标志表示从上午()时到下午(), 这段路禁止机动车通行。每天共有()小时允许通行。

7:30~18:30



图 A

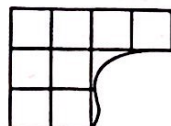



图 B

- 图 A 的面积约是()平方厘米;图 B 被撕去了一部分,原来长方形的面积是()平方厘米。(每小格的面积为 1 平方厘米)

- 把下面 4 张图片摆一摆,其中“喜”只能摆在最左边,其他图片任意摆,一共有()种不同的摆法。



喜



怒



哀



乐

- 在括号里填上合适的数。

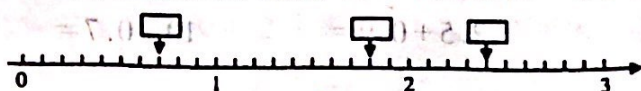
6 平方米 = () 平方分米

8 厘米 = () 米


500 平方厘米 = () 平方分米

9 角 = () 元

8. 在下面的方框中填上合适的小数。



在你所填的这些小数中,最接近 2 的是(),最大的和最小的差是()。

9.  生产日期:2022.04.12 保质期:18个月 2023 年 11 月 2 日,这瓶饮料()喝。(填“能”或“不能”)

二、我是小裁判。(对的在后面的括号里打“√”,错的打“×”。)(10 分)

- 不用竖式计算就可以知道“ $37 \times 48 = 1767$ ”是错误的。()
- 2012 年 3 月 1 日的前一天是 2 月 28 日。()
- 5.83 读作:五点八十三。()
- 数学作业本的面积大约是 4 平方米。()
- 淘气每天上学从家往东南方向走,放学回家她原路返回要从学校往西北方向走。()

三、我会选一选。(把正确答案的序号填在括号里)(10 分)

- 下面面积最大的是()
A. 800 平方厘米 B. 70 平方分米 C. 2 平方米
- 1 角、5 角、1 元的硬币各一枚,每次拿两枚,共有()种不同拿法。
A. 3 B. 4 C. 6
- 下面()的涂色部分可以用 0.3 表示。



- 商小于 200 的算式是()
A. $375 \div 3$ B. $448 \div 2$ C. $883 \div 3$

五、下列说法错误的是()。

- 2014 年全年有 365 天
- 平年和闰年只有 2 月份的天数不一样
- 公历年份是 4 的倍数的一定是闰年

四、计算天地。(共 23 分)

1. 口算。(共 8 分)

$4.1 - 0.6 =$	$4 + 0.8 =$	$500 \times 3 =$	$22 \times 4 =$
$0 \div 72 =$	$720 \div 9 =$	$0.8 + 9.3 =$	$43 - 9 =$

2. 竖式计算。(带△的要验算,3分,其余每题2分,共9分)

$37 \times 48 =$

$2.5 + 0.9 =$

$10 - 0.7 =$

$\triangle 809 \div 3 =$

3. 脱式计算。(共6分)

$399 \div 7 + 294$

$(601 - 246) \div 5$

五、实践应用。(共10分)

1. 下面是三年级某班本学期体检视力统计表。(6分)


	4.2 以下 (含 4.2)	4.3~4.6	4.7~4.9	5.0 以上 (含 5.0)
男生	2	4	5	14
女生	1	3	7	17

(1) 视力为()的人数最多,有()人。

(2) 视力为 4.3~4.6 和 4.7~4.9 的人数分别是()人和()人。

(3) 5.0 以上(含 5.0)的视力是正常的,低于 5.0 的有()人,你想对这些同学说些什么? 写出来吧!

2. 下面每个方格的边长是 1 厘米,请在方格中画一个面积是 9 平方厘米的正方形和一个面积是 12 平方厘米的长方形。(4分)



六、解决问题。(共 25 分)

1. 珊珊上学,每天从家到学校走 2 个来回,一共走 960 米。珊珊家离学校有多远?

姓名	学号	性别	年龄	身高	体重	视力	成绩

2. 少年宫在小华家的东面 600 米处,小华从家出发,每分钟走 59 米,走了 11 分钟,小华能走到少年宫吗?

3. 明明原有 100 元,今天他买书包用去了 46.5 元,买文具盒用去了 14.8 元。请你算算明明现在的钱比原来少了多少元?

4. 荣老师坐火车去浙江师范大学学习,火车应该是 13 时 50 分发车,结果晚点了 15 分,荣老师到火车站时火车还差 18 分钟发车,你知道荣老师是什么时候到的火车站吗?

5. 在一块长 15 米,宽 10 米的长方形菜地周围修一条宽 1 米的路,并给这条路贴上地砖,贴地砖的部分的面积是多少平方米?

